


# LA HISTORIA Y GEOGRAFIA DE LA NARRACION BIBLICA, Un Manual de Estudio



Por  
Bob & Sandra Waldron

# LA HISTORIA Y GEOGRAFIA DE LA NARRACION BIBLICA, Un Manual de Estudio



Por  
**Bob & Sandra Waldron**

Versión del Inglés por  
Jaime Restrepo M.

# Reconocimientos

La mayoría de los proyectos que valen la pena son el resultado de los esfuerzos de muchas personas. Este libro no es la excepción.

Mis sinceros agradecimientos van para Valla Ree Roberts cuyas preguntas impulsaron este estudio. También agradezco a la cantidad de amigos que han usado el material en sus varias etapas. Gracias a usted por sus críticas y sugerencias útiles.

Una palabra especial de agradecimiento va para Joan McCarty cuya colaboración y estudio han sido de gran valor, y para Ferrell Jenkins quien ha ayudado tremendamente en el pulimento final del libro.

## **Dedicado a:**

Mis Padres

**El Sr. y la Sra. Irvén Lee**

quienes inculcaron en mi corazón

un amor por

la historia de la Biblia

desde la infancia

**Jaime Restrepo M.**

A.A. 1254

Manizales (Caldas)

Colombia, S.A.

[jaremov@gmail.com](mailto:jaremov@gmail.com)

[www.elancladelevangelio.org](http://www.elancladelevangelio.org)

## *Prefacio Para Los Lectores Hispanos*

Es nuestra complacencia muy especial ofrecer este libro al mundo Hispanohablante. Al apóstol Pablo le fue dado el privilegio de hacer que todos los hombres vieran lo que es la dispensación del misterio de Dios (Ef. 3:9). Este libro es parte de nuestra contribución a esta gran obra. Es nuestro deseo que todos los hombres conozcan eso, en la Biblia, Dios ha revelado un plan que concibió antes de los mundos que El creó, y la Biblia nos dice cómo acaeció ese plan. Por tanto, es conmovedor saber que muchos miles de personas, a quienes nunca conoceremos personalmente, leerán y usarán este libro y se beneficiarán de él. Nuestros corazones van con ustedes a medida que estudien la palabra de Dios. Nuestra oración es que cada uno de quienes usen el libro sean traídos más de cerca al Señor. Pueda Dios bendecirle.

Ofrecemos nuestra más profunda gratitud a aquellos quienes han hecho posible la traducción, adquisición y distribución del libro.

— Los Autores —  
Bob y Sandra Waldron

Marzo 17, 2000

# *Prefacio*

Ha sido mi placer leer *La Historia y Geografía de la Narración Bíblica* en forma de manuscrito. Bob y Sandra Waldron deben ser ensalzados por hacer disponible este libro para los estudiantes de la Biblia. Estoy feliz de recomendarlo para el estudio individual y en clase.

No hay forma de que el estudiante moderno remueva absolutamente la abertura cultural y geográfica que existe entre los tiempos bíblicos y nuestros propios tiempos. El error más común es leer la Biblia y relacionarla con nuestras propias costumbres familiares a menos que estemos enterados de la gran distancia. Me parece que el mensaje de salvación el cual está contenido dentro de las páginas de la Biblia puede ser entendido por cualquiera que de una atención adecuada a este; las referencias culturales, geográficas e históricas que sirven como fundamento del mensaje de salvación quizás no sean lo bastante tan fácilmente.

Una visita a las tierras de la Biblia ayudará al puente de la brecha geográfica que existe. Pero aún la tierra ha cambiado en algún grado; esto fue verdad dentro de los varios períodos bíblicos. Una montaña pudo estar densamente arbolada en un tiempo, pero no así en otro. Las situaciones culturales e históricas de los tiempos bíblicos nunca pueden ser duplicados completamente. No obstante, la mayoría de los cristianos ni aún tendrán una oportunidad de visitar las tierras bíblicas. Aún es importante que cada estudiante de la Biblia gane información acerca de la historia y geografía de la Biblia. En efecto, esto debería ser hecho antes de uno hacer una visita. Este libro ayudará en el entendimiento de estas áreas.

Los Waldrons han demostrado una habilidad para tomar material difícil y hacerlo entendible y que se pueda usar. Este libro puede hacer varias cosas para el usuario: (1) Proporcionara un completo reconocimiento de la Biblia desde Génesis hasta Apocalipsis; (2) dará un buen resumen de la historia de las naciones involucradas en la historia sagrada; (3) lo familiarizará a uno con la geografía de las tierras bíblicas. Los buenos mapas añaden tremendamente a la calidad y utilidad del libro. Insto al lector, con Biblia en mano, a utilizar este buen libro hasta el límite mas extenso posible.

Ferrell Jenkins,  
Profesor de Biblia, Florida College

Mayo 24, 1983  
Temple Terrace, FL 33617

# Tabla de Contenido

---

## **Introducción**

Lección 1: <i>El Hombre, Un Ser Inteligente</i> .....	1
---	---

## **Una Breve Mirada a Todas las Tierras Bíblicas**

Lección 2: <i>Palestina</i> .....	5
Lección 3: <i>La Geografía de Palestina — Parte I</i> .....	8
Mapa #1: <i>Palestina: Rasgos Físicos</i> .....	10
Lección 4: <i>La Geografía de Palestina — Parte II</i> .....	14
Lección 5: <i>Revisión de la Descripción de Palestina (Lecciones 2-4)</i> .....	17
Lección 6: <i>Las Tierras del Antiguo Testamento</i> .....	20
Mapa #2: <i>Las Tierras Bíblicas</i> .....	22
Lección 7: <i>Las Tierras del Nuevo Testamento</i> .....	27
Lección 8: <i>Fecha de Los Eventos Bíblicos</i> .....	30

## **La Historia y Geografía Bíblica Correlacionada**

Lección 9: <i>El Libro de los Inicios</i> .....	36
Mapa #3: <i>El Mundo Antiguo</i> .....	38
Lección 10: <i>Las Promesas a Abraham</i> .....	41
Mapa #4: <i>El Mundo de los Patriarcas</i> .....	43
Mapa #5: <i>Canaan: En Los Días de los Patriarcas</i> .....	46
Lección 11: <i>Isaac, Jacob, y José</i> .....	49
Lección 12: <i>Repaso del Libro de Génesis (Lecciones 9-11)</i> .....	52
Lección 13: <i>El Pueblo del Pacto de Dios</i> .....	54
Mapa #6: <i>El Exodo y la Conquista</i> .....	57
Lección 14: <i>Esperando Que Muera Una Generación</i> .....	60
Lección 15: <i>Repaso del Éxodo y de la Peregrinación en el Desierto (Lecciones 13-14)</i> .....	64
Lección 16: <i>La Conquista de Canaán</i> .....	67
Lección 17: <i>Se Cumple La Promesa Con Respecto a la Tierra</i> .....	70
Mapa #7: <i>Canaan: Los Territorios de la Tribus de Israel</i> .....	72
Lección 18: <i>Repaso del Libro de Josué (Lecciones 16-17)</i> .....	74
Lección 19: <i>Los Primeros Jueces</i> .....	76
Mapa #8: <i>Israel: En los Días de los Jueces</i> .....	79
Lección 20: <i>Los Ultimos Jueces</i> .....	81
Lección 21: <i>Repaso del Libro de los Jueces (Lecciones 19-20)</i> .....	83
Lección 22: <i>Saúl, el Primer Rey</i> .....	84
Mapa #9: <i>Israel: En los Días del Rey Saúl</i> .....	87
Lección 23: <i>Un Hombre Conforme al Corazón de Dios</i> .....	90
Mapa #10: <i>El Imperio de David y Salomón</i> .....	93
Lección 24: <i>El Imperio de Salomón</i> .....	95
Lección 25: <i>Repaso del Reino Unido (Lecciones 22-24)</i> .....	98
Lección 26: <i>Un Resumen del Reino Dividido</i> .....	100

---

Lección 27:	<i>Diagrama de los Reyes — Parte I</i> .....	102
	Mapa #11: <i>El Reino Dividido: En los Días de Roboam y Jeroboam</i> .....	104
Lección 28:	<i>Diagrama de los Reyes — Parte II</i> .....	109
	Mapa #12: <i>El Reino Dividido: En los Días de Joacaz de Israel</i> .....	111
	Mapa #13: <i>El Reino Dividido: En los Días de Jeroboam II</i> .....	114
Lección 29:	<i>Diagrama de los Reyes — Parte III</i> .....	118
Lección 30:	<i>La Caída de Israel</i> .....	121
	Mapa #14: <i>El Imperio Asirio</i> .....	123
Lección 31:	<i>Los Últimos Días de Judá</i> .....	126
	Mapa #15: <i>Judá: Después de la Caída de Israel</i> .....	128
Lección 32:	<i>Repaso del Reino Dividido (Lecciones 26-31)</i> .....	132
Lección 33:	<i>La Cautividad</i> .....	134
	Mapa #16: <i>El Imperio Babilónico</i> .....	139
Lección 34:	<i>El Surgimiento de los Persas</i> .....	140
	Mapa #17: <i>El Imperio Persa</i> .....	142
Lección 35:	<i>Jerusalén Es Reedificada</i> .....	145
	Mapa #18: <i>Judá: El Retorno de la Cautividad</i> .....	147
Lección 36:	<i>Repaso de los Imperios del Antiguo Testamento (Lecciones 30-35)</i> .....	151
Lección 37:	<i>Los Asuntos Mundiales Durante los Años del Silencio Bíblico</i> .....	153
	Mapa #19: <i>El Imperio Griego</i> .....	156
Lección 38:	<i>El Pueblo de Dios en una Sociedad Griega</i> .....	157
Lección 39:	<i>La Rebelión Macabea</i> .....	160
	Mapa #20: <i>Palestina: El Periodo Macabeo</i> .....	163
Lección 40:	<i>El Tiempo Se Acerca</i> .....	164
	Mapa #21: <i>El Imperio Romano en los Días de Cristo</i> .....	166
Lección 41:	<i>Repaso de los Años del Silencio Bíblico (Lecciones 37-40)</i> .....	169
Lección 42:	<i>La Familia Herodiana</i> .....	171
Lección 43:	<i>La Vida de Cristo</i> .....	174
	Mapa #22: <i>Palestina: En los Días de Cristo</i> .....	176
Lección 44:	<i>La Geografía de los Evangelios</i> .....	179
Lección 45:	<i>El Reino de los Cielos Es Establecido</i> .....	181
Lección 46:	<i>La Temprana Obra de Pablo</i> .....	186
	Mapa #23: <i>Primer y Segundo Viaje de Pablo</i> .....	188
Lección 47:	<i>Segundo Viaje de Pablo</i> .....	191
Lección 48:	<i>Tercer Viaje de Pablo</i> .....	194
	Mapa #24: <i>Tercer Viaje de Pablo y Viaje a Roma</i> .....	196
Lección 49:	<i>Los Años del Encarcelamiento de Pablo</i> .....	198
Lección 50:	<i>Repaso del Libro de Hechos (Lecciones 45-49)</i> .....	201
Lección 51:	<i>El Cierre del Primer Siglo</i> .....	203
Lección 52:	<i>Repaso del Estudio de la Geografía</i> .....	207

## El Hombre, Un Ser Inteligente

Este libro es un estudio de la geografía bíblica. También es un estudio de la historia bíblica, porque es la historia la que le da significado a la geografía. Una montaña sin un hombre en ella o cerca de ésta es simplemente un punto alto sobre la superficie de la tierra. Un río sin ningún hombre que lo cruce o beba de éste es solo una corriente de agua atravesando la tierra. Pero cuando los hombres entran, esa montaña o ese río se convierte en un *hogar* donde las personas viven y mueren, aman y odian, donde las personas sobreviven o se desvanecen. De esta manera, no son las montañas o ríos las que hacen al hombre importante, sino el hombre quien hace importantes a las montañas y ríos. Al mismo tiempo, debemos estar enterados de la tremenda influencia que el clima, el terreno, y otros factores geográficos han tenido sobre los hombres.

Muchas veces los cristianos parecen temerosos de estudiar el origen del hombre porque tienen miedo de que puedan encontrar algo que destruya la Biblia y su fe. El mero hecho de que el hombre es la única criatura que estudia su medio ambiente e historia apunta a esa chispa de deidad que fue plantada en él por Dios. No deje de distinguir entre la teoría y la realidad cuando se compare lo que los hombres dicen con la Biblia. Los *hechos* siempre están de acuerdo. Las *teorías* no. A medida que entremos en este estudio, permítanme exponer el método que usaremos en el estudio de la historia del hombre primitivo.

El hombre fue creado un ser inteligente con la misma naturaleza y necesidades que tenemos hoy día, no un simple animal que evolucionó durante eones de tiempo. La Biblia presenta el inicio milagroso de la tierra y de la vida. El primer ser humano fue traído a la existencia por medio de un milagro. Inmediatamente, pudo conversar con Dios. Pudo pensar, porque una de sus primeras tareas fue la de nombrar a los animales. Pudo sentirse solo, de esta manera mostrando emociones. Necesitaba un hogar y le fue dado el Huerto de Edén.

Dios le dio al hombre las primeras habilidades que necesitaba para suplir sus necesidades. Adán sabía cómo trabajar porque le fue dada la tarea de “labrar y guardar” el inmenso Huerto (Gén. 2:15). Adán y Eva “aprendieron” a llevar vestidos cuando pecaron y se sintieron culpables por vez primera (Gén. 3:7-21). La primera familia sabía cómo producir fuego porque Caín y Abel encendieron sacrificio a Dios (Gén. 4:3-4). Caín sabía cómo “labrar la tierra” y trajo de su producto para ofrecerlo a Dios. Abel domesticó animales (Gén. 4:2). Muy pronto, es mencionado un descendiente de Caín que sabía cómo tocar un instrumento musical, no una “necesidad” sino más bien un arte cultural (Gén. 4:19-22). El hombre primitivo podía contar, hablar del tiempo, y guardar registros de su historia (véase Gén. 5). Eso no suena como la cultura de medio-hombre presentada en nuestras pantallas de televisión, ¿o sí?

La Biblia declara estos hechos, y un estudio de la historia primitiva los confirma. Vamos a estudiar las civilizaciones en existencia mucho antes de los días de Abraham las cuales ya tenían idiomas escritos complejos, métodos de cálculo matemáticos que aún usamos, ciudades hermosas, y muchas otras cosas que claramente muestran inteligencia.

¿Pero qué acerca de los moradores en cavernas? Es cierto que extensa variedad puede ser encontrada en los estilos de vida a medida que busquemos el origen de la historia. Eso aún es verdad hoy día. Nuestro mundo incluye la sociedad técnica de los Estados Unidos y las culturas primitivas de las tribus ocultas en las selvas del Amazonas. Algunas veces igualamos erróneamente la tecnología con la inteligencia. El hombre siempre ha buscado medios para hacer más fácil su vida. Los métodos de suplir las necesidades del hombre han variado ampliamente en cada generación que ha existido, pero cada hombre ha estado buscando suplir sus necesidades de alimento, techo, y vestido ya fuera viviendo en una caverna o en un rascacielos.

Hay una necesidad que el hombre tiene que a veces se ha pasado por alto. A Adán y Eva le fue dada una ley para obedecer en su servicio a Dios. Violaron su sencilla ley y descubrieron que los resultados fueron terribles (Gén. 2:15-17; 3:1-24). A través de todos los años desde entonces, el hombre ha tenido que aprender su total dependencia en las bendiciones de Dios. Todo el Antiguo Testamento es una demostración de que los esfuerzos del hombre por salvarse él mismo por sí mismo fueron infructuosos. La Biblia es una historia de cómo Dios dio origen a la redención del hombre impío de manera que pudiera estar redimido delante de El a pesar del hecho de que somos menos que perfectos. Nuestro énfasis primario en este estudio será observar el desarrollo de las promesas de Dios con su cumplimiento y los lugares dónde se desarrollaron estos acontecimientos.

La Biblia es la única fuente en el mundo del conocimiento del Dios verdadero. Si decido no creer en el registro Bíblico acerca de la creación de la tierra y de la vida, ¿cómo puedo decidir creer las otras cosas que ella dice? Se mantiene o cae como una unidad.



## Reglas Generales Para un Estudio Cartográfico

Los mapas bíblicos son leídos en la misma forma que todos los otros mapas. Antes de avanzar en nuestro estudio, recordémonos a nosotros mismos algunas de las reglas básicas para el entendimiento de los mapas.



1. **Direcciones** – Norte, sur, oriente, y occidente son siempre los mismos en cualquier mapa a no ser que sea especificado de otra manera. Si tiene algún problema recordando las direcciones, marque cada mapa a medida que llegue a este.

2. **Contenido** – Un mapa puede mostrar detalles de un área muy pequeña o puede mostrar los rasgos principales de un área grande. Por ejemplo:

El *mapa de una ciudad* muestra cada calle, y podemos localizar el bloque exacto donde vive cada estudiante. Un *mapa del condado* aún debería mostrar nuestra ciudad, mas varios kilómetros adicionales. Aún debería mostrar la mayoría de los caminos y carreteras, pero pocas calles dentro de la ciudad. En lugar de nuestra propia ciudad cubriendo toda la página, podría aparecer como nada más una pulgada cuadrada. Un *mapa del estado* podría mostrar la mayoría de las carreteras y caminos, pero ahora nuestro pueblo no es más grande que un punto. En un mapa de todos los *Estados Unidos*, aún mi estado es pequeño. Es simplemente un estado entre los 50 estados. A no ser que mi pueblo sea uno de los más grandes en mi estado, ni aún será mencionado.

### 3. ¿Cómo puedo decir lo que muestra un mapa?

Busque el *título* del mapa mismo. Esta regla es tan sencilla que algunas veces la pasamos por alto, exactamente como podemos arrojar las instrucciones sobre un nuevo artículo en el hogar hasta que descubramos que no podemos armarlo por nosotros mismos.

Todos los mapas bíblicos están marcados. Uno puede decir “Palestina en los Tiempos del Nuevo Testamento”. Sabemos usarlo para encontrar los lugares que Jesús visitó, pero necesitaríamos un mapa diferente de Palestina para encontrar la ubicación de la Cueva de Macpela que Abraham compró para lugar de sepultura.

Busque *marcas distintivas* para identificar los mapas. Regresemos a los mapas mencionados anteriormente. Aún si mi propio pueblo, distrito territorial, ni mi estado están mencionados por nombre en un mapa de los Estados Unidos, puedo encontrar la ubicación aproximada de mi casa si conozco las marcas distintivas. Por ejemplo, yo vivo en la parte sureste de la nación. El extremo sur de mi estado (Alabama) toca el Golfo de México. Mi pueblo está en la tercera parte norteña de mi estado. Ahora estoy lo bastante cerca para mis propósitos.

El *Mar Muerto* en la tierra de Palestina es un buen sitio prominente que buscar en los mapas Bíblicos. Aprenda a distinguirlo rápidamente. Entonces usted puede tener una perspectiva de lo que incluye ese mapa en particular y dónde está el territorio con relación a Palestina.

4. **Escala en Millas (o Kilómetros)** – Aprenda a leer la escala del mapa en millas (o kilómetros). Esta escala nos dirá inmediatamente si el mapa cubre un área pequeña o grande. Mostrará la distancia de un lugar a otro. Todas las cosas sobre ese mapa en particular estarán trazadas a esa escala en particular, por tanto, podemos saber de un vistazo el tamaño comparativo de las cosas. Nótese que no es ningún problema ver que el Mar Mediterráneo es mucho más grande que el Mar Muerto. Practique la lectura de la escala de millas (o kilómetros) en este libro.

### 5. **Rasgos Físicos; Rasgos Políticos** –

Los mapas muestran dónde se encuentran los mares, ríos, montañas, y otras marcas permanentes. Estos son llamados *rasgos físicos*. Estos deben ser exactos antes de que un mapa puede ser de algún valor para nosotros.

No obstante, los mapas muestran mas que rasgos físicos. Cualquier lugar sobre el globo para ahora ha sido de propiedad de muchas personas diferentes. Antes de que podamos relacionar un mapa a algún dado período de la historia, debemos conocer las fronteras políticas en ese momento del tiempo. Podríamos llamar a esto los *rasgos políticos*. Los cambios en estos rasgos es una de las principales razones de por qué una variedad de mapas es necesaria para hablar de toda la historia bíblica.

### Dificultades en el Entendimiento de los Mapas

La mayoría de nosotros tendemos a usar los mapas muy poco. Sabemos cómo llegar a los pueblos vecinos, pero puede que no tengamos idea de cómo se observa el área en un mapa. Desafortunadamente, demasiados de nosotros decidimos que la geografía era aburrida mientras aún estábamos en primaria. Quizás esto ayudará cuando recordemos que estamos hablando acerca del *hogar* de alguien.

Los mapas Bíblicos tienden a ser especialmente confusos porque los lugares mencionados están al otro

lado del mundo nuestro. No hemos tenido experiencias personales con estos lugares. Encuentre el Mar Mediterráneo en el globo. Coloque su dedo allí y luego otro dedo en los Estados Unidos. Es un largo trayecto hasta el Mediterráneo, ¿no es así?

La historia bíblica empieza hace más de 6.000 años. Aún los eventos bíblicos más recientes ocurrieron hace algunos 1.900 años. Junto con la distancia, el tiempo toma parte en hacer que los lugares de la Biblia nos parezcan remotos. No hemos tenido ninguna experiencia personal con los lugares o los eventos.

La Biblia cubre tantos años que el tiempo permitió que muchas naciones surgieran y cayeran. De esta manera, la historia política cambió muchas veces. Por tanto, los mapas cambiaron, produciendo más confusión a no ser que nos tomemos el tiempo para aprender de las historias envueltas.

### **¿Si Los Mapas Bíblicos Son Confusos, Para Qué Estudiarlos?**

Muy a menudo, nos olvidamos que estas personas de la Biblia eran *seres humanos* tan *reales* como lo somos nosotros, viviendo en *lugares reales* donde ellos también tenían mucho calor o frío; donde ellos también conocieron las temporadas de lluvia y sequía; donde ellos también escalaron montañas o cruzaron ríos. Observemos ese globo nuevamente y veamos que ellos vivieron en el mismo mundo que nosotros, no en una región imaginaria diferente a la nuestra.

Nuestros hijos aprenden, “Había una vez tres osos ...” Al otro día aprenden, “Había una vez un hombre llamado Abraham ...” ¿Cuál es real? Los niños necesitan que sus imaginaciones sean desafiadas por historias divertidas. Las historias bíblicas necesitan ser contadas en una forma igualmente fascinante que las otras, pero en adición, las historias bíblicas necesitan incluir la seguridad de que estos personajes realmente vivieron. Un mapa ayuda tremendamente en la edificación de tal fe. Este libro es demasiado difícil para que lo estudien los pequeños, pero el material puede ser adaptado e incorporado en cualquier período de la historia bíblica que esté bajo consideración. Los niños pueden aprender a dibujar y amar el mapa de Palestina.

Hoy día ninguna persona, ni en algún día del pasado, ha vivido y muerto en el vacío. Cada uno es afectado por su clima, por el contorno de su tierra, por la situación política de su propio estado, y por las situaciones políticas de los principales gobiernos en su período de la historia.

Cuanto más aprendamos, tanto más veremos la humanidad de los personajes de la Biblia con sus fortalezas y debilidades. Cuanto más entendamos *por qué* obedecieron o no a Dios, tanto más fácil podemos aplicar las lecciones a nuestras propias vidas. El estudio de la geografía bíblica ha hecho más para mejorar mi propia comprensión personal de la historia bíblica que cualquier otro estudio particular que haya hecho.

Otra razón para el estudio de los mapas es que esta es una forma más en que podemos ser impresionados con la exactitud de la Biblia. La exactitud en los detalles geográficos no prueba la inspiración de la Biblia. Cualquier hombre podría escribir con exactitud de un área si conociera bien el área y la tanteara cuidadosamente. Sin embargo, miremos el otro lado de la moneda. ¿Qué si encontráramos errores en la geografía de la Biblia? ¿Cómo podríamos estar seguros de que el plan de salvación no era un error? Cuanto más aprenden los arqueólogos acerca de las tierras, tanto más están impresionados con la exactitud de la Biblia.

La historia de la Biblia nos dice por qué estamos vivos y cuál será nuestro destino. *Cualquier cosa que nos ayude a entender esto a fondo es de vital importancia.*

### **Cómo Usar Este Libro**

Ningún cuaderno de ejercicios puede incluir toda la información necesaria a ser enseñada sobre un tema. Hay muy buenos atlas en el mercado que ayudarán al maestro o estudiante a ampliar su entendimiento de la geografía bíblica. Busque en la bibliografía la lista de libros de referencia que hemos usado. No obstante, ha sido hecho un esfuerzo por incluir la información suficiente en este libro para colocar un completo fundamento de manera que el estudiante necesitará solamente su Biblia como texto necesario para acompañar a éste.

Ha sido hecho un gran esfuerzo por dirigir la atención del estudiante directamente a la historia bíblica. Los lugares estudiados son importantes para nosotros solamente a medida que veamos cómo afectaron el desarrollo del plan de redención. De esta manera estudie las notas geográficas libremente, busque los detalles de interés adicionales, pero preste especial atención a la historia bíblica. Lea los pasajes envueltos en cada lección y aprenda la historia de la Biblia. Por supuesto, este estudio en particular, enfatiza la historia misma antes que los detalles de la Ley o los principios de la Epístolas.

La fe es un ingrediente necesario en un estudio de esta clase. Muchos atlas bíblicos y otros libros de referencia tratan de destruir la fe de uno en los milagros y en el Dios Omnipotente. Por favor no permita que cualquier obra del hombre destruya su fe en la Palabra de Dios. Cada vez que haya conflicto, recuerde que la Biblia viene directamente de la mano de Dios. “... *antes bien sea Dios veraz, y todo hombre mentiroso* ...” (Rom. 3:4).

Las lecciones en este libro no cubren todas el mismo número de capítulos en la Biblia. El material fue dividido primero en los períodos de la historia bíblica con los mapas apropiados. Luego fue subdividido para convertirlo en lecciones cubriendo aproximadamente el material que puede ser cubierto en un período de clase. Algunos períodos de la historia bíblica tienen muchos capítulos más en el texto bíblico que otros períodos aun cuando puede haber menos años cubiertos. Los hechos incluidos aquí son un simple bosquejo

de la historia bíblica y de la historia del mundo. Usted querrá llenarlo con mas detalles. No obstante, déjeme advertirlo, es muy fácil atascarse en tantos detalles que fallará en ver el desarrollo histórico global. Este curso está diseñado como un curso de reconocimiento y será mucho más valioso si es usado en esa forma. Los detalles estudiados mas tarde serán realizados por el conocimiento obtenido en este estudio.

Los lápices de colores funcionan mejor para completar los mapas en el libro. Los lugares pueden ser marcados después de que una región es coloreada si son usados los lápices. No es fácil marcar los lugares después de colorear el mapa con crayolas o marcadores de color.

Cuando llegue a los capítulos que correlacionan la historia bíblica con los mapas, notará que son dejados muchos espacios en blanco para que el lector los llene. Naturalmente, esto suspende el flujo de la lectura, pero este libro está diseñado para ser un cuaderno de ejercicios, una herramienta de aprendizaje. Cada espacio en blanco es el nombre de un *lugar* o de una *nacionalidad* de personas en particular. Lea primero el capítulo para obtener un reconocimiento general de la historia envuelta, luego regrese y use su Biblia para llenar cada espacio en blanco dejado a la izquierda y encuentre el lugar en su mapa.

Asegúrese de completar su mapa en blanco acorde a las instrucciones dadas. Nuevamente, los mapas en blanco son herramientas de aprendizaje. Un hecho es impreso mas profundamente en nuestras memorias si hemos tenido que buscar y apuntarlo que si meramente observamos el trabajo que alguien más ha hecho. Asegúrese de numerar sus mapas acorde a las instrucciones, porque a menudo nos referiremos a uno por número para comparaciones.

Todos los nombres en la Biblia nos vienen de idiomas antiguos. Es difícil transmitir sonidos de un idioma a otro. Por tanto, verá nombres deletreados de maneras diferentes. Aún si el deletreo es el mismo, las marcas diacríticas para pronunciar el nombre pueden variar de una autoridad a otra. En casos donde hay múltiples deletreos, hemos tratado de escoger uno y usarlo consistentemente en el libro. No se sorprenda al ver variaciones en el deletreo, aún dentro del texto Bíblico.

Las autoridades también difieren sobre la altura exacta de las montañas, la profundidad de los mares, o el tamaño de los países. Tales variaciones ocurren a causa de las diferencias en los puntos de medidas exactos u otros factores tales. Cada figura usada en el libro es para ayudarnos a comparar las tierras bíblicas con los rasgos que conocemos. Las variaciones en estas figuras no tienen nada que ver con la salvación de nuestra alma.

No permita que el estudio de un mapa lo asuste. Las instrucciones del mapa van un paso a la vez. Hay un mapa de estudio coloreado para cada mapa al que usted será llamado a llenar. Cada lugar asignado deberá ser mostrado en su mapa de estudio. Todo pasaje necesitado para llenar los espacios en blanco en el texto estarán en la misma frase con el espacio en blanco.

Para cuando termine este estudio, habrás compuesto tu propio libro de referencias que puede ser valioso para ti en todos los estudios futuros de la historia bíblica.

### **Hoja de Trabajo** ***Trata esto como un auto-examen***

No mires tus respuestas hasta que haya terminado de contestar lo mejor que pueda. La misma hoja de trabajo está repetida al final del libro. Se consciente de los eventos y mira si tu calificación mejora para el final del estudio.

Coloque los siguientes eventos en el orden cronológico correcto:

(El evento más temprano es el #1)

- |   |   |
|---|---|
| <p>_____ Las Plagas en Egipto</p> <p>_____ La Cautividad Babilónica</p> <p>_____ La Entrega de la Ley de Moisés</p> <p>_____ La Conquista de Canaán</p> <p>_____ La Creación</p> <p>_____ Los Jueces</p> <p>_____ El Nacimiento de Jesús</p> <p>_____ El Reino Dividido</p> <p>_____ La Torre de Babel</p> <p>_____ El Establecimiento de la Iglesia</p> <p>_____ Las Promesas a Abraham</p> <p>_____ El Retorno de la Cautividad</p> <p>_____ El Diluvio</p> <p>_____ El Reino Unido</p> <p>_____ Los Años del Silencio Bíblico</p> <p>_____ Errantes Por el Desierto</p> <p>_____ La Destrucción de Jerusalén por los Romanos</p> | <p>_____ Los Viajes de Predicación de Pablo</p> <p>_____ La Persecución Romana de la Iglesia</p> <p>_____ La Cautividad Asiria</p> <p>_____ Pablo Encarcelado en Roma</p> |
|---|---|

# Una Breve Mirada a Todas las Tierras Bíblicas

## Palestina

La historia de la Biblia se centra alrededor de la pequeña tierra de Palestina. Las otras naciones son mencionadas a medida que ellas, a su vez, entran en contacto con esta tierra. Sólo estudiemos primero este país.

### Nombres De La Tierra

Es llamada por varios nombres. Los primeros habitantes de los cuales la Biblia habla eran tribus descendientes de Noé a través de su hijo Cam, a través de su hijo Canaán (Gén. 10:6,15-20). De esta manera es llamada la tierra de *Canaán*. Este es el primer nombre aplicado a la tierra, y es usado frecuentemente a través de todo el Antiguo Testamento.

Esta es la tierra que Dios prometió dar a los descendientes de Abraham (Gén. 12:7; 15:18-21). En consecuencia es llamada la *Tierra Prometida*.

Es llamada la *Tierra de Israel* porque los descendientes de Abraham realmente heredaron la tierra. El nieto de Abraham, Jacob, fue renombrado Israel por Dios mismo (Gén. 32:24-32). Sus descendientes fueron llamados Israelitas, y fueron ellos quienes realmente tomaron posesión de la tierra.

El pequeño país a menudo es referido como *Palestina*. No obstante, este nombre llegó a ser usado después de los días bíblicos. El nombre con este deletreo no es encontrado en la Reina-Valera de la Biblia. En Exodo 15:14; Isaías 14:29,31 y Joel 3:4 se habla de la tierra de los Filisteos o Filistea que en algunas versiones es deletreado "Palestina". En todos estos pasajes, el minúsculo país de Filistea en el valle costero del suroeste es el que está bajo consideración.

El gobierno romano controló la tierra en los días de Cristo y siguientes. Hubo un conflicto constante porque los Judíos odiaban el dominio romano. Los ejércitos romanos vinieron una y otra vez. En el 70 D.C., Jerusalén fue capturada, y el templo fue destruido. Finalmente, un siglo después de la muerte de Jesús (en el 135 D.C.), estalló otra revuelta. Esta vez los romanos se equiparon para destruir toda influencia Judía en la tierra. Muchos, muchos Judíos fueron asesinados. El resto fue desterrado de Jerusalén. La ciudad fue reedificada totalmente con contornos romanos, y fue considerado como ofensa capital que fuera visto un Judío a vista de la ciudad. El nombre del país fue cambiado a Palestina de Siria. Desde entonces ha sido conocido primariamente como Palestina.

Todos estos nombres serán usados intercambiamente a través de nuestro estudio. Necesitamos estar familiarizados con todos los nombres para que no nos sintamos confundidos cuando sea usado alguno de ellos.

### Nombres Del Pueblo de Dios en la Tierra

El pueblo de Dios que vivía en la tierra también fue llamado por varios nombres. El nombre más antiguo fue *Hebreo* significando "extraño" o "extranjero". Fue aplicado a Abraham porque vino de Ur y vivió como extranjero entre sus vecinos canaanitas (Gén. 14:13). Los Egipcios llamaron a sus descendientes Hebreos mientras moraron en Egipto. Para los días del Nuevo Testamento, la palabra es usada para contrastar a uno que retenía las antiguas leyes y tradiciones Judías con aquellos que aceptaban la forma de vida griega (Fil. 3:5). Un judío que usara la palabra en esta forma estaría queriendo decirlo como un honor.

El nombre *Israelita* o *Hijos de Israel* significaba literalmente un descendiente de Israel (o Jacob). Este es el nombre usado lo más frecuente en el Antiguo Testamento. Fue preferido por los judíos puesto que el nombre mismo declaraba que uno era un descendiente de Abraham, y por tanto, un heredero de las promesas hechas a él.

El término *judío* no es usado hasta mucho después en la historia del Antiguo Testamento (2 Reyes 16:6). Fue aplicado primero a aquellos que vivían en el reino sureño de Judá. En vista de que Judá fue el último del reino dividido en ir a la cautividad, el término llegó a referirse a cualquier Israelita en la cautividad. Luego fue aplicado a los pocos que regresaron a su tierra natal, y finalmente, a los Israelitas esparcidos por todas partes. Este, por supuesto, es el término mas ampliamente aplicado a los individuos de este grupo étnico hoy día.

Estos términos también serán usados intercambiamente en nuestro estudio por lo que necesitamos estar bastante familiarizados con cada uno de los nombres.

### Un País Minúsculo

Palestina es un país pequeño. Si pudiéramos girarlo sobre su costado de manera que la línea norte-sur de Palestina se colocara a través de la línea occidente-oriente de Alabama, todo el país se acomodaría entre la línea Alabama-Tennessee y Birmingham. O, para expresarlo en otra forma es menos pequeño que una cuarta

parte del estado de Alabama. Tiene un territorio de cerca de 12.000 millas cuadradas (23.000 kms.<sup>2</sup>). mientras que Alabama tiene 51.609 millas cuadradas (83.054 kms.<sup>2</sup>). Cuando comprendemos que los Israelitas rara vez controlaron toda esa área, empezamos a comprender cuán minúsculo era realmente el país. (Busque en una enciclopedia y compare Palestina con el estado en donde usted vive).

La ciudad de Dan usualmente era considerada el punto más al norte del territorio de Israel en los días bíblicos. Estaba solamente a 150 millas (241.3 kms.) desde ahí hasta Beerseba, el pueblo más al sur. La anchura del país varía. Son solamente 30 millas (48.2 kms.) desde el Mar Mediterráneo hasta el valle del Jordán en el norte. En el sur, aumenta el ancho. Son cerca de 55 millas (88.5 kms.) desde Gaza hasta el Mar Muerto. Palestina también incluye algunos de los altiplanos orientales del Jordán, haciendo el total de figuras de 11.000 a 12.000 millas cuadradas (17.702 a 19.311 kms.<sup>2</sup>) del territorio citado por las autoridades. (La figura exacta varía a causa de que diferentes puntos son considerados como las fronteras). El término *Canaán* se aplicó solamente al costado occidental del Jordán. Cuarenta de nuestros estados (USA) son más grandes que el área total. De todos, sólo tres son más grandes que la parte más importante de la tierra occidental del Jordán.

Viviendo en una nación tan enorme como la nuestra, nos admiramos de un país tan minúsculo. No obstante, mantengamos en la perspectiva el tamaño. Hubo plenitud de tierra para dividirla entre las familias de las doce tribus. Hemos declarado que Palestina era un cuarto del tamaño de Alabama. El un-cuarto del noroeste de Alabama está dividido en 16 grandes condados.

Los buenos medios de transporte y de comunicación hacen de las naciones grandes hacederas y convenientes. Todas las naciones tendían a ser mas pequeñas en los días cuando un camello era su rápido sistema de transporte. Hoy día, si hubiera una buena autopista interestatal cruzando a lo largo de Palestina, podríamos dar un paseo en coche por este en tres horas al límite de la velocidad. En los días de Abraham, un buen camello ¡podría posiblemente hacerlo en poco menos que dos días! Una caravana de camellos necesitaría quizás cinco días. Los pastores tales como Abraham y Jacob necesitarían al menos dos semanas.

### **Un País Importante**

Si no fuera por la historia de la Biblia, nunca habríamos escuchado de esta pequeña nación de los hebreos. Su alfarería, arte, y destrezas técnicas eran primitivas e insignificantes en comparación a algunos de los otros pueblos antiguos (incluyendo los cananeos). Sin embargo, tenían un código de ley que *nunca* ha sido igualado por algún otro pueblo anterior o desde entonces. Su literatura en el Antiguo Testamento es de una calidad superior a la de cualquiera de sus vecinos. En realidad, nuestro calendario está elaborado alrededor de un hombre que nació, vivió, y murió dentro de los límites de este minúsculo país.

Ningún otro pueblo ha afectado (y emocionado) tanto la historia mundial total. ¿Cómo podrían ser explicados tales hechos si fuéramos a decir que no hay Dios o que la Biblia es un registro de mitos no inspirados?

Aunque muy pequeño, el país está localizado estratégicamente. Está situado entre el Mar Mediterráneo y el Desierto de Arabia, y forma un puente de tierra fértil entre los dos grandes continentes de Asia y Africa. Desde los días más remotos, las rutas comerciales entre las principales civilizaciones pasaron a través de la tierra. A medida que pasaban los siglos, y naciones se levantaban y caían, Palestina fue frecuentemente un estado que sirvió de valla entre los poderes opositores.

Si comparamos las tierras Bíblicas a un trébol de cuatro hojas, con Egipto como una hoja, Mesopotamia otra, Arabia como otra, y Asia Menor como la cuarta hoja, Palestina sería el punto donde se juntaban las cuatro hojas.

No fue un accidente que Dios seleccionara esta tierra como la Tierra Prometida para Su pueblo escogido. El conocimiento de Jehová podría ser mantenido vivo en el mundo a medida que las demás naciones entraran en contacto con los Israelitas. También, fue fácil para Dios usar las naciones extranjeras para castigar a Israel cuando se apartaban de El a los ídolos.

***Mire el Mapa #2 para ver la ubicación de Palestina con relación a sus vecinos.***

### **Una Tierra de Variedad**

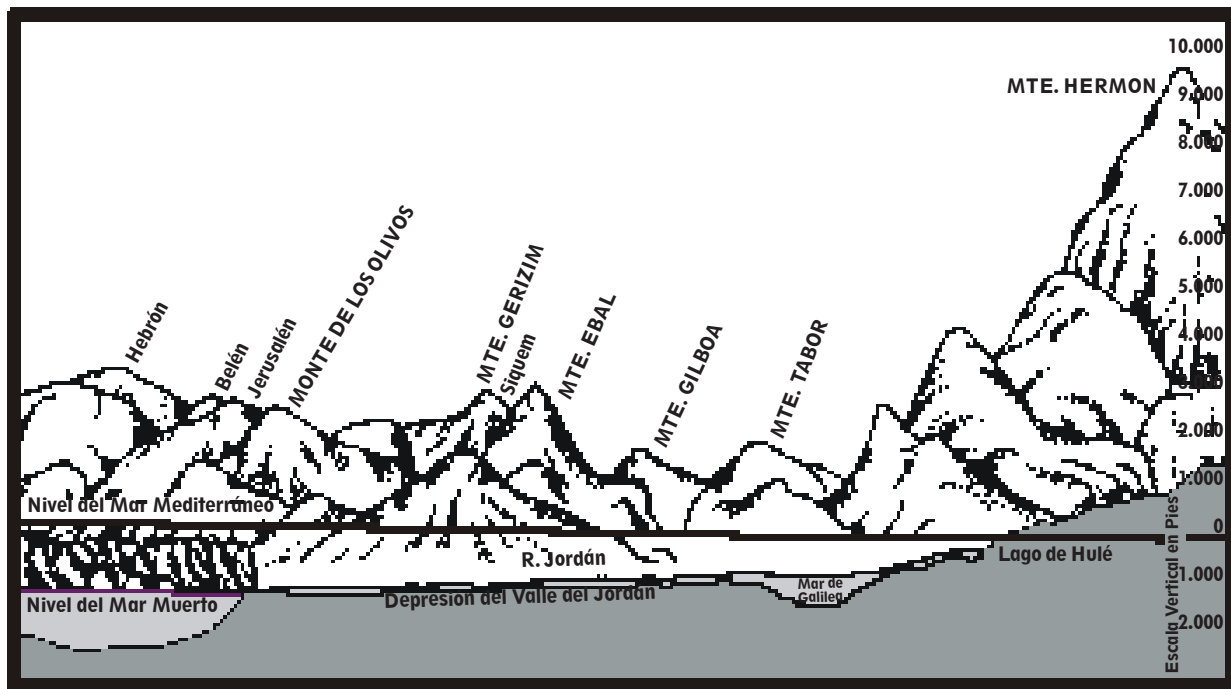
Canaán es una tierra de variedad infinita, especialmente admirable puesto que está amontonada en una área tan pequeña.

El clima de la tierra varía mucho. El promedio anual de temperatura en Jope en la costa marítima es de 67° moderados. Jerusalén está en la cima de la colina de la región judeana, pero su temperatura anual promedio es aún de unos 63° moderados. Luego la tierra se precipita hacia la parte inferior del Valle del Jordán y la temperatura de Jericó, solamente a 15 millas (24.1 kms.) al oriente de Jerusalén, alcanza los 110° en el verano. El calor es debilitante y la producción en el valle es tropical. Inmediatamente al otro lado del valle, la margen se levanta bruscamente para formar la altiplanicie Trans-Jordana donde el promedio de temperatura es moderada como Jerusalén y donde puede caer la nieve en el invierno (véase 2 Sam. 23:20).

Los mismos contrastes en el clima pueden ser vistos desde el norte hasta el sur. El Mte. Hermón está cubierto de nieve todo el año. Sin embargo, es solamente a 120 millas (193.1 kms.) desde allí para el calor sofocante en la boca del Mar Muerto.

Los vientos prevalecientes a través de la tierra vienen desde el Mar Mediterráneo y traen nubes cargadas de humedad y brisas refrescantes. No obstante, ocasionalmente, los vientos cambian y un viento Siroco caliente se mete soplando desde el oriente. El Siroco es excesivamente seco, caliente, y violento, directamente desde el Desierto Árábigo. Es considerado la principal maldición climática de la tierra (véase Ez. 17:10; Jer. 18:17).

La variedad en el terreno es muy grande. Los picos del Líbano sólo un poquito al norte de Palestina alcanzan los 10.200 pies (3.108 mts.) sobre el nivel del mar. Al oriente de los Líbanos, la cima del Mte. Hermón alcanza los 9.232 pies (2.813 mts.). Desde allí el valle se precipita hacia el sur hasta las playas del Mar Muerto, 1.292 pies (392 mts.) por *debajo* del nivel del mar. Eso es una caída de por encima de 10.000 pies (3.048 mts.) en sólo 120 millas (193 kms.). La siguiente ilustración muestra las alturas comparativas de las cimas bien conocidas de la tierra y la profundidad del Valle del Jordán.



## Lección 3

# La Geografía de Palestina — Parte I

Si observáramos Palestina desde la altura en el aire, podríamos distinguir los sobresalientes rasgos geográficos de la tierra. Hay distintas zonas paralelas corriendo de norte a sur. El Mar Mediterráneo forma la frontera occidental. Una costa relativamente plana y fértil reposa a lo largo del Mar. Luego hay una larga cadena de montañas que forman la región de colinas occidental. Inmediatamente más allá de la región de colinas está la majestuosa fisura del Valle del Jordán. Al oriente del valle está la margen desgastada de una alta altiplanicie. Luego, cerca de 25 millas (40 kms.) desde el Jordán, surge de nuevo la altiplanicie para formar la llanura del gran Desierto Árabe.

Ahora observemos cada zona con más detalle.

### Mapa #1 – Palestina: Rasgos Físicos

**Estamos listos para nuestro primer mapa. Márquelo Palestina: Rasgos Físicos.**

**Numérela Mapa #1.**

**Marque las direcciones – norte, sur, oriente y occidente.**

**Use la escala de millas y kilómetros y mida las distancias. Familiarícese con la forma en que se observa este mapa.**

**Este primer mapa no enfatizará quién poseía la tierra, sino más bien los rasgos físicos permanentes.**

**Coloree el mapa y marque sus rasgos a medida que cada punto sea discutido en el texto.**

### El Mar Mediterráneo

Este gran mar interior era el único océano conocido por los israelitas, de esta manera era usualmente llamado simplemente *el mar* o *el gran mar*. Los romanos lo nombraron de los términos latinos *medius*, significando medio, y *terra* significando tierra, de esta manera “en medio de la tierra”, “centro del mundo”. Ciertamente era el centro del imperio romano.

La ribera Cananea es un ejemplo interesante del impacto de la geografía sobre la historia y destino de las naciones. La ribera sur-oriental del mediterráneo es pulida y regular todo el camino desde el último puerto oriental de Egipto hasta el Mte. Carmelo. Por tanto, no había un puerto decente en toda la Palestina del sur. Jope y Dor fueron usados algunas veces como puertos de tiempo claro, pero difícilmente eran merecedores del nombre “puerto” (véase Jonás 1:3).

Los Filisteos que habitaron la porción sureña de la llanura costera se piensa que llegaron a Palestina desde el mar, quizás desde Creta. Después de establecerse en su nuevo hogar, literalmente volvieron sus espaldas al Mediterráneo. Gaza, la más sureña de las grandes ciudades Filisteas, era el centro de comercio más grande de la antigua Palestina, sin embargo estaba localizada a tres millas (4.8 kms.) tierra adentro.

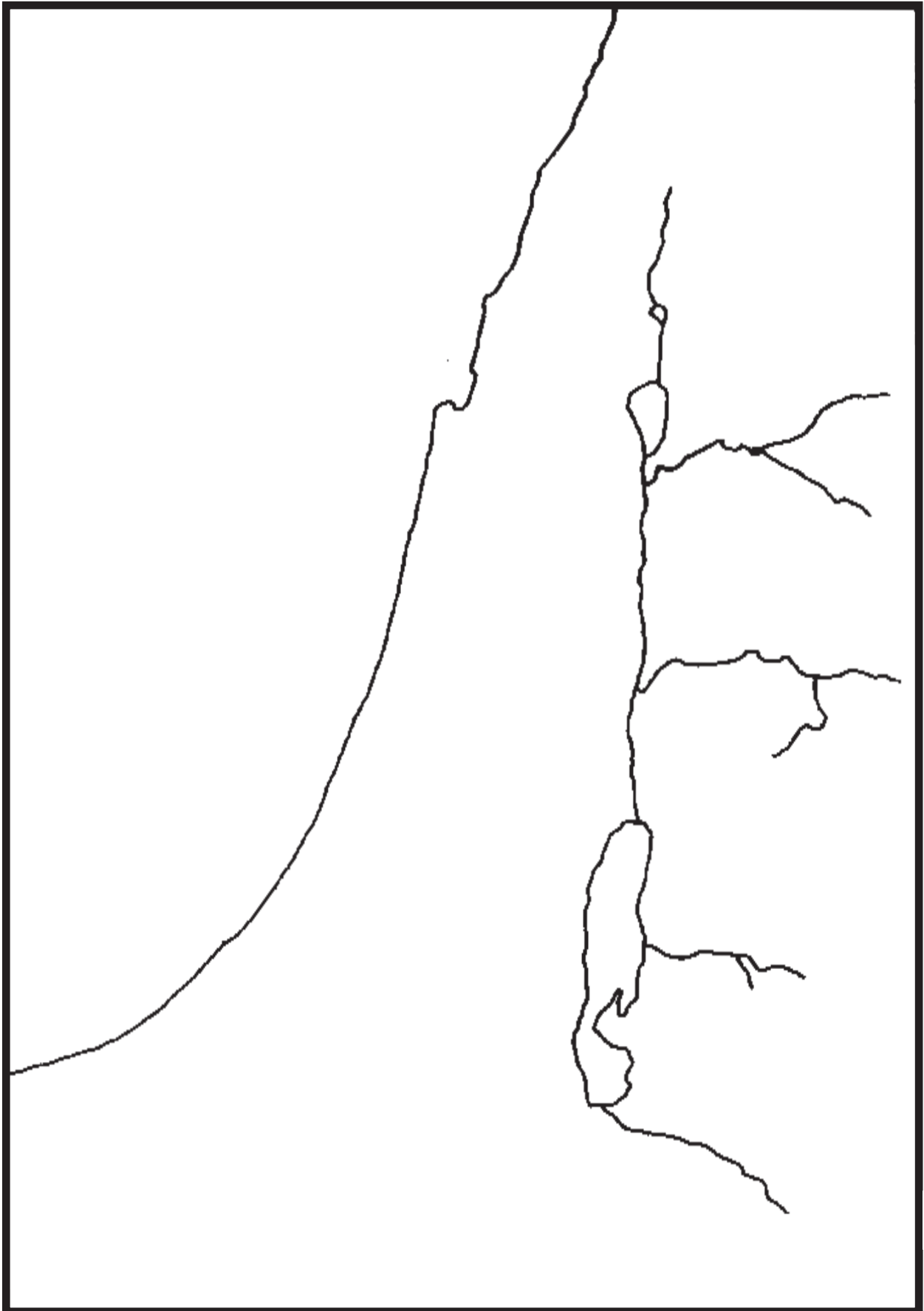
En contraste, al norte del Mte. Carmelo está la llanura de Aco y luego la angosta llanura de Fenicia. La llanura Fenicia era demasiado angosta, y sus montañas demasiado escarpadas para animar a un estilo de vida agrícola. Por tanto, dirigieron su atención al mar y usaron los excelentes puertos de Tiro y Sidón. Se convirtieron en los primeros marineros de los tiempos antiguos. Sería difícil presuponer su influencia cultural sobre el mundo Mediterráneo a medida que navegaban de puerto en puerto.

El Mar Mediterráneo juega un papel mucho más sobresaliente en la historia Bíblica para los días del Nuevo Testamento. Palestina estaba para entonces bajo el control de los Romanos cuya capital se hallaba instalada en Italia cruzando el Mediterráneo. Durante siglos, puertos como Jope y Dor fueron agrandados. Entre el 25-13 A.C., Herodes el Grande amplió una ciudad en la costa llamada la Ciudad de Estrato y construyó un puerto artificial muy costoso. Lo llamó la ciudad de Cesarea en honor de Augusto César. Se convirtió en el cuartel general militar para las legiones Romanas en Palestina y el puerto estuvo en uso regular. Por tanto, no es de sorprenderse que encontremos a Pablo y otros personajes del Nuevo Testamento viajando frecuentemente por barco y desembarcando en Cesarea.

**Marque el Mar Mediterráneo en su mapa y coloréelo de azul. Asegúrese de marcarlo en cada mapa de aquí en adelante porque una porción de este se mostrará en cada mapa que usemos.**

### La Llanura Costera

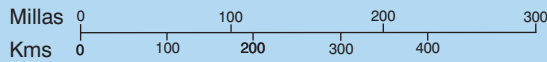
La llanura costera varía en anchura desde cerca de 6 millas (9.6 kms.) en el norte hasta cerca de 25 millas (40 kms.) en el sur. Antes que una altiplanicie, es una área de lomas de 60-91 metros de altura. Toda la llanura es





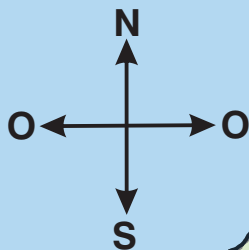
Mapa No. 1

# PALESTINA: RASGOS FISICOS



Mar Mediterráneo

- I. Llanura Costera
- II. Región Montañosa
- III. Valle del Jordán
- IV. Altiplano Trans-Jordano



bien abundante en agua y fértil. El agua se filtra a través de la región montañosa central y finaliza en lagunas, saltos, y arroyos corriendo hasta el mar. Fue cultivada extensivamente, aún en la angosta llanura Fenicia.

La única interrupción en la llanura es el Mte. Carmelo que se proyecta hasta el mar. Su base se extiende hasta dentro de 182 mts. del Mediterráneo. Es como si en la formación de la tierra, una espuela de la montaña estuviera volteada de lado y reposara de noroeste a sudeste antes que de norte-sur como lo hacen las otras.

Desde el Mte. Carmelo, corre un valle hacia el sudeste cruzando la tierra desde Aco hasta el Río Jordán. Esta rica llanura fue llamada Jezreel en el Antiguo Testamento y más tarde Esdraelón por los griegos (Esdraelón es la palabra griega para la Hebrea Jezreel, “Dios siembra”). El Valle de Jezreel y la llanura costera formaron el paraje de huerto de la tierra.

Históricamente, la llanura costera estaba dividida en tres porciones. Ya hemos mencionado la estrecha llanura del norte Fenicio del Mte. Carmelo. Algunas veces los fenicios controlaron toda la llanura norteña del Carmelo. Si Israel fue lo bastante fuerte, el territorio Fenicio terminaba con un escarpado de piedra caliza llamado la Escalera de Tiro que reposa al oriente y occidente cruzando la llanura cerca de 16 millas (25.7 kms.) al norte del Mte. Carmelo.

La llanura de Sarón se extiende 45 millas (72.4 kms.) entre en el Carmelo y la ciudad de Jope. La llanura tiene entre 8 y 12 millas (12.8 y 19.3 kms.) de ancho. Era muy fértil y con tan abundantes fuentes de agua que realmente era cenagoso en algunas áreas. Fueron encontrados cocodrilos en algunos lugares. Los cananeos vivieron en Sarón después que fueron arrojados de la región montañosa. Esta sección de la llanura jugó solamente un papel menor en la historia bíblica.

Como ya hemos notado, los filisteos tuvieron control de la llanura sureña. Esta estaba cerca de 40 millas (64.3 kms.) desde Jope hasta Gaza. La llanura es de 12 a 25 millas (19.3 a 40.2 kms) de ancho aquí.

La ruta de negocios más activa en la tierra corría a través de la llanura costera, llamada el Camino del Mar o el Camino de los Filisteos. Venía desde Egipto en torno de la curva del Mediterráneo a través de la llanura filisteá. Luego giraba en dirección oriental y se iba a través de un desfiladero en la estribación del Carmelo en el valle de Jezreel. La ciudad de Meguido era una fortaleza que guardaba este importante desfiladero (o paso). Había otro camino que se ubicaba directamente a lo largo de la línea costera, pero era imposible defender si las tropas enemigas estaban estacionadas en las laderas del Mte. Carmelo. Por tanto, caravanas y ejércitos innumerables pasaron a través de Meguido y la llanura costera. La nación que controlaba Meguido controlaba la ruta a Egipto, Fenicia, Asia Menor, y Mesopotamia.

**Marque la llanura costera, el Mte. Carmelo, el Valle de Jezreel y Meguido. Marque las secciones de la llanura Fenicia, Sarón, y Filisteá. Dibuje y marque la ruta comercial costera. Coloree la llanura y el valle con un verde claro.**

### **La Región Montañosa**

La región montañosa occidental del Jordán era la plaza fuerte israelita. Moisés describió las bendiciones que se hallaron en terreno montañoso en Deuteronomio 8:7 y 11:10-11. El pueblo había venido de Egipto donde tuvieron que regar sus siembras. En Canaán, encontrarían manantiales de aguas brotando de los montes.

En una ocasión, los Sirios concluyeron que el Dios de Israel era un “dios de los montes”. Para su consternación y espanto, descubrieron que el Dios de Israel también podía ganar en las llanuras (1 Reyes 20:23,28).

Cuando Josué introdujo el ejército israelita en la tierra, hallaron a los cananeos bien establecidos en todas las llanuras. Dios habría entregado todas las ciudades en manos de Israel si hubieran tenido la fe para completar la tarea que puso delante de ellos. Pero encontraron más fácil tomar y mantener la región montañosa sin desarrollo, y esta se convirtió en su hogar. (Véase Jueces 1:19; Josué 16:10; 17:12-18).

Hay una cadena de montañas (cordillera) que empieza en el litoral norteño del Mediterráneo y corre desde el sur a través de Siria, Palestina, y aún hasta la Península del Sinaí. Al norte de Palestina, la región montañosa que recorre se divide para formar dos cordilleras paralelas con la grieta del Valle del Jordán entre ellas. La región montañosa más cercana al mar es llamada el Líbano y la región montañosa al oriente es llamada el Anti-Líbano. Los picos altos del Líbano (por encima de 3.000 mts. de altura sobre el nivel del mar) al norte del Río Leontes y el Mte. Hermón exactamente al otro lado en la región montañosa del Anti-Líbano era considerada la frontera norteña de Palestina durante la mayor parte de la historia bíblica.

El Río Leontes corre a través de un desfiladero de 609 mts. entre el Líbano y los montes de Galilea y forma una barrera casi impasable entre Fenicia e Israel. La ciudad de Dan estaba localizada a través del valle desde los Líbanos hasta la base del Mte. Hermón.

Cuando los judíos quisieron madera de cedro del Mte. Líbano para edificar su templo, fue mucho más fácil tomar los troncos a través de la llanura y ponerlos a flotar mar abajo en el Mediterráneo hasta Jope que cruzar el Río Leontes y llevarlos a través de los montes y valles hasta Jerusalén (véase 1 Reyes 5:8-9).

La sección de 50 millas (80.4 kms.) desde el Río Leontes hasta el Valle de Jezreel usualmente es llamada Galilea. Los montes de la Alta Galilea son, en realidad, colinas al pie del Líbano. Toda la Alta Galilea tiende a ser elevada (encumbrada) y relativamente escarpada, promediando los 609 mts. sobre el nivel del mar. Algunos picos alcanzan casi los 1.219 mts.

Alta Galilea rara vez es mencionada en el Antiguo Testamento. El rey Hiram de Fenicia consideró que había recibido un mal negocio cuando le fueron dadas las veinte ciudades en Galilea como pago parcial por su ayuda en los proyectos de edificación de Salomón. Llamó la región Cabul o “buena para nada” (1 Reyes 9:11-13). Esta fue una fortificación cananea durante los primeros años de la historia israelita con una fuerte ciudad fortaleza como Hazor. Esta fue la primera región en ser atacada y tomada por los enemigos de Mesopotamia. No obstante, para los días del Nuevo Testamento, era una región activa y próspera. Galilea fue el escenario de algunas de las obras más grandes de Jesús.

Baja Galilea es mucho más baja, promediando los 213 mts. sobre el nivel del mar. Ninguno de sus picos excede los 563 mts. Las colinas están alrededor y hay valles amplios y ricos. Son 28 millas (45 kms.) desde Aco oriental hasta el Mar de Galilea.

El Valle de Jezreel está situado en la porción sureña de Galilea. Técnicamente, no es un valle continuo, sino más bien una serie de valles y llanuras que se abren conjuntamente. La Bahía de Aco a lo largo del litoral se abre a la amplia rica llanura de Jezreel o Esdraelón. Esta llanura es aproximadamente 15 por 15 por 20 millas en tamaño (24 por 24 por 32 kms.). Varios pasos se abren en él desde todos los lados haciendo fácil el acceso a éste y convirtiéndolo en una de las secciones de la tierra más importante comercial y militarmente. La porción occidental de la llanura es desaguada por el Río Cisón que desemboca en el mar exactamente al norte del Mte. Carmelo. Usualmente el río es pesado y casi de inexistencia en el verano, pero podría estar crecido y rápido después de las lluvias de invierno. Muchos eventos importantes ocurrieron en la región. Jesús creció justo al otro lado de la cordillera desde Esdraelón en Nazaret.

El Valle de Esdraelón se inclina en un valle profundo cerca de 15 millas (24 kms.) al oriente del Río Jordán. Esta porción del valle aún retiene el antiguo nombre de Jezreel de la ciudad localizada en su margen occidental. Las tribus merodeadoras del Oriente a menudo cruzaron el Jordán en algún vado y siguieron el norte del Valle del Jordán para entrar en la tierra a través del Valle de Jezreel. Este fue el escenario de la batalla de Gedeón con los Madianitas.

### **Marque las montañas del Líbano y Anti-Líbano, el Río Leontes, Galilea, el Río Cisón, y Aco. Escriba Esdraelón en paréntesis bajo Jezreel en su mapa.**

Las colinas se levantan rápidamente de nuevo en la margen sureña de Jezreel para reanudar la región montañosa central. Algunos picos son altos y bastante escarpados, pero están separados por valles anchos y espaciosos. Los picos más altos están un poco por encima de 914 mts. – no tan altos como aquellos en la Alta Galilea. Esta porción central de montañas usualmente era llamada la región montañosa de Efraín en el Antiguo Testamento y Samaria en el Nuevo.

Tres de los picos mejor conocidos del área son el Mte. Gilboa en la margen del Valle de Jezreel, y el Mte. Ebal y el Mte. Gerizim en cualquier lado de Siquem. Fue en Siquem donde Dios prometió primero dar la tierra a los descendientes de Abraham (Gén. 12:6-7). Fue aquí donde Josué y su ejército levantaron un monumento y expusieron su reclamo de la tierra (Jos. 8:30-35). Este fue un sitio apropiado para que Dios escogiera porque uno puede conseguir una vista excelente de la tierra desde los picos de las montañas. El Mediterráneo puede ser visto 25 millas (40 kms.) al occidente. Al oriente está la abrupta precipitación hacia el Río Jordán y luego la pared más allá de la meseta de Galaad. Al norte están los ricos campos de Jezreel (“Dios siembra, o esparce”). Y al sur, continúa la región montañosa. El paso principal en el camino norte-sur estaba localizado aquí y, en la margen oriental del paso, los caminos corren en todas las direcciones en la tierra.

La región montañosa de Judá era una extensión de tierra de unas 50 millas (80 kms.) promediando cerca de 609 mts. sobre el nivel del mar. Ninguno de sus picos son tan elevados como aquellos en Samaria o Galilea. Hay puntos altos alrededor de Jerusalén y aún más altos justo al norte de Hebrón. Los valles son poco profundos y las montañas como cúpulas.

El lado occidental de la región montañosa judeana se inclina gradualmente hacia las colinas y valles elevados de Sefela y luego a la llanura costera. La Sefela tiene collados bajos, gredosos, separados por valles amplios, agradables. Era fértil y bien abundante en agua. Estas colinas quebradas ayudaron a formar una línea de defensa entre los israelitas y cualquier enemigo moviéndose a lo largo de la llanura costera; por eso tales ciudades fortaleza en Laquis, Debir, Libna, y Bet-semes son mencionadas frecuentemente en la historia bíblica.

Hay una abrupta caída en el lado oriental de las colinas Judeanas. Belén está a 1.158 mts. sobre el Mar Muerto a sólo 14 millas aéreas (22 kms.) de distancia. Desde el Monte de los Olivos hasta el Mar Muerto, la tierra desciende de 816 mts. *sobre* el nivel del mar hasta 393 mts. *por debajo* del nivel del mar. En menos de 20 millas (32 kms.) la tierra se precipita desde una cordillera montañosa hasta el punto más profundo sobre la tierra encontrado en el planeta. Las inclinaciones son extremadamente escarpadas – una tierra inhabitada, salvaje, estéril. Es llamada el Desierto de Judea. Fue aquí que David se escondió en cuevas cuando Saúl estaba tratando de matarlo (1 Sam. 24:1 y Sigs.). Fue probablemente aquí donde Jesús fue tentado por el diablo (Mat. 4:1).

Hay una explicación climática interesante para este árido desierto. La humedad desde el Mediterráneo llena las nubes que son llevadas en dirección oriental hacia la masa de tierra de Palestina. A medida que el aire se levanta, este es enfriado o compactado y caen las lluvias en la región montañosa. No obstante, cuando el aire pasa sobre la cumbre de las colinas, el fondo literalmente desaparece. El aire se expande rápidamente a medida que desciende en el Valle del Jordán. Expandiéndose el aire chupa la humedad antes que soltarla. El Desierto de Judea está justo sobre la cumbre de las colinas. Por tanto, casi nunca recibe lluvia, y la proporción de evaporación en el Mar Muerto es extraordinaria.

Al sur de Hebrón las colinas descienden gradualmente hasta las colinas onduladas del Neguev (llamadas “el sur” en la versión King James). El nombre es aplicado usualmente a la región semidesértica entre Beerseba y Cades-barnea. Era bastante fértil inmediatamente después de las lluvias de invierno pero tan árido y reseco como un desierto en el verano.

Abraham encontró buena agua en algunos pozos que excavó en la margen sureña de la tierra cultivable. Naturalmente el agua es de principal importancia en una región seca, por eso el pueblo de Beerseba se levantó alrededor de los pozos. Usualmente es nombrado como el punto sureño del territorio Israelita. Israel controló políticamente algunas veces el Neguev, pero fue más por el control de los minerales en la región que como un hogar para el pueblo.

El Neguev forma una zona de parachoques entre Canaán y el verdadero desierto de la Península Sinaítica.

Una ruta comercial corre a lo largo de la columna de la región montañosa occidental, continuada a través del Neguev, y hacia Egipto. Fue llamada el Camino de Shur. Esta ruta hubiera sido ocupada con los israelitas, pero rara vez fue usada por las caravanas viajando grandes distancias.

**Coloree la región montañosa de amarillo. Marque los picos mejor conocidos y las colinas descendentes – el Mte. Tabor, el Mte. Gilboa, el Mte. Ebal, el Mte. Gerizim, y el Mte. de los Olivos. Marque las ciudades de Dan, Siquem, Jerusalén, Belén, Hebrón, y Beerseba. Marque el Neguev. Marque el valle (o uadi) llamado el Río de Egipto y anótelo como la frontera sureña de Canaán a lo largo de la línea costera. No lo confunda con el Río de Egipto mucho más grande, el Nilo.**

## Lección 4

# La Geografía de Palestina — Parte II

## El Valle del Jordán

**Continúe usando el Mapa #1 para esta lección. Marque cada sección a medida que el texto la describe.**

El Río Jordán fue casi inservible para los antiguos habitantes de Palestina. Por la mayor parte, no podía ser usado para la irrigación, y nadie pudo usarlo para viajar. El valle es verdaderamente único porque en éste es encontrado el lugar más profundo sobre la tierra – el Mar Muerto, 393 metros (1.292 pies) por debajo del nivel del mar. El Jordán forma parte de la Gran Grieta del Valle que empieza en la costa nordeste del Mediterráneo y se extiende hacia abajo del Jordán, a través del Jordán hasta el Golfo de Aqaba. Todo el Mar Rojo es una parte de él. La misma Grieta continúa profundamente en Africa oriental hasta Mozambique. La distancia total de la grieta es 6.437 kilómetros (4.000 millas). Los griegos llamaron la región que estaba directamente al norte de Palestina “Coele-Siria” o “Siria Hueca” a causa de la depresión entre las montañas. Hoy día el Valle del Jordán mismo es llamado “El Ghor”.

Descrito geológicamente, la Grieta es un valle en la que el fondo se cayó. Esta está situada entre fallas paralelas. Toda la sección se hundió y dio origen al Valle del Jordán.

El Valle del Jordán es muy estrecho, promediando de 3.2 kms. a 24 kms. (2 a 15 millas) de ancho con acantilados altísimos a uno y otro lado. En el valle hay brote exuberante tropical, casi como selva. La Biblia menciona encuentros ocasionales con leones y otras bestias que vivían allí (1 Reyes 13:23-25; Jer. 49:19).

El agua burbujea descendiendo a través de las rocas porosas del Mte. Hermón para brotar en una de las fuentes más grandes del mundo. Esta fuente principal se junta a otras 3 corrientes de agua que salen de la base de la montaña para formar el río Jordán. Según McGarvey, el valle parece ser “perfectamente llano” al fluir al sur.

Cerca de 19.3 Km. (12 millas) desde su fuente central, el río Jordán desembocaba en el Lago de Hulé. Este antiguo lago era casi de 7.2 kms. de largo por 5.6 kms. de ancho (4½ millas de largo por 3½ millas de ancho). La tierra inmediatamente alrededor de ella era de poca profundidad y pantanosa. El lago ha sido drenado desde entonces, y la tierra es cultivada intensivamente. Este lago aparece muy pocas veces en la historia bíblica.

El Jordán corre suavemente por cerca de 2.4 Kms. (1½ milla) después de salir del Lago de Hulé. Luego de esto inicia un descenso tortuoso. Esto es cerca de 17.7 Kms. (11 millas) desde Hulé hasta el Mar de Galilea como vuela el cuervo. En esa distancia, ¡el Jordán baja 274 mts. (900 pies), por encima de los 24 mts. (80 pies) por kilómetro! La mayoría de esa bajada ocurre en cerca de 12.8 Kms. (8 millas). Para hacerlo así, el río se enrolla y tuerce entre riberas altas, precipitándose de acantilado en acantilado, algunas veces casi doblándose sobre sí mismo. Aún los viajes en kayak serían demasiado peligrosos en tal río.

El Jordán está a 212 metros (696 pies) *por debajo* del nivel del mar para cuando llega al Mar de Galilea. El mar mismo llega a una profundidad de 50 metros (165 pies). Este es el lago de agua fresca más bajo del mundo. Tiene cerca de 20 kms. (12½ millas) de largo y 12 kms. (7½ millas) de ancho. Hay un valle hermoso (Genesaret) en la costa noroeste de Galilea donde crecen todo el año cosechas de frutas, grano y vegetales. Las colinas descienden hasta las costas casi el resto del camino alrededor del lago y los vientos se precipitan para producir tormentas repentinas. Las colinas al oriente se levantan bruscamente para formar una meseta alta. Por tanto, la comunicación con las personas en la margen oriental era difícil. El Mar de Galilea estaba unido casi totalmente con la vida en la costa occidental. El mar es llamado Cineret en el Antiguo Testamento; y Galilea, Tiberias, y el Lago de Genesaret en el Nuevo. Jesús pasó muchas, muchas horas enseñando a las personas en Capernaúm, Corazín, y otras ciudades cercanas a las playas del Mar de Galilea.

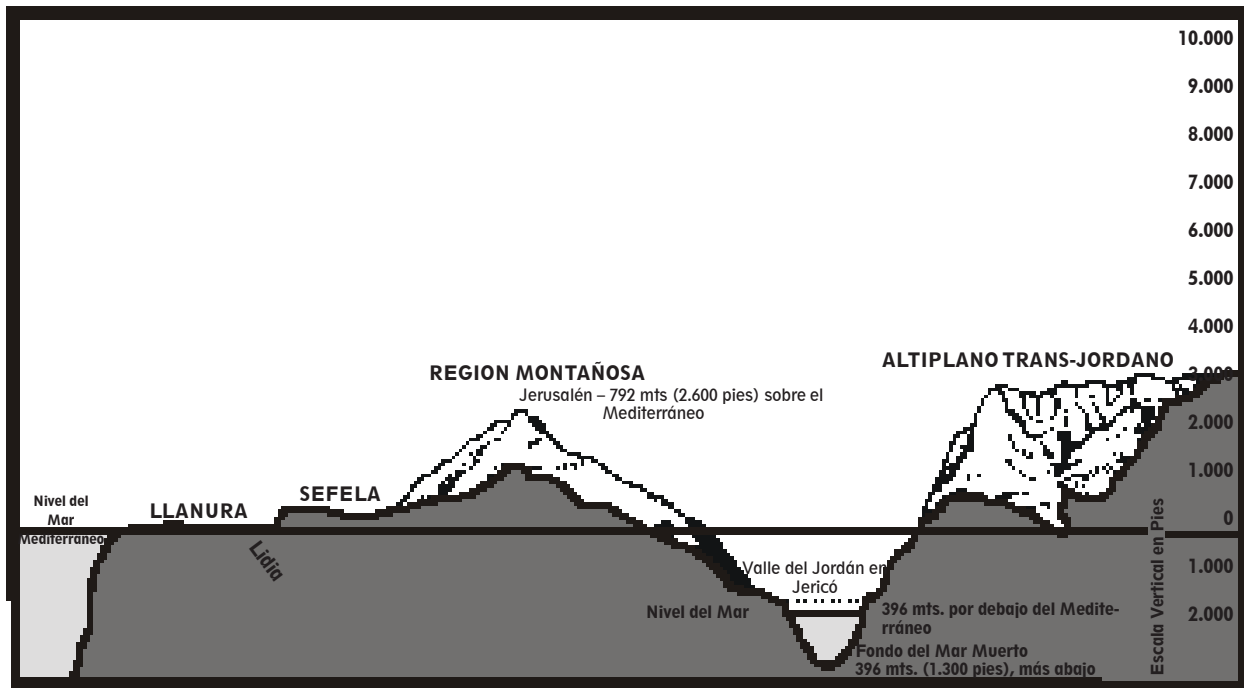
Aunque el Jordán deja el Mar de Galilea en un recorrido sosojado, debe descender otros 182 metros (600 pies) en 104 kms. (65 millas) hasta alcanzar el nivel del Mar Muerto. Desde este punto al sur, se enrolla y retuerce con tramos calmados entremezclados con tramos de rápidos espumosos. Se toman 321 kms. (200 millas) de viaje por el río para cubrir los 128 kms. (80 millas) de tierra desde su fuente principal en la base del Monte Hermón hasta la boca del Mar Muerto.

El propio lecho del río varía en su anchura de 24 a 54 mts. (80 a 180 pies) con un promedio de profundidad de 1.5 mts. a 3.6 mts. (5 a 12 pies). En ciertos lugares, y en ciertas épocas del año, puede ser vadeado sin dificultad. Hay un número de vados a lo largo del río, el mejor conocido está justo debajo del Río Jaboc y en Jericó.

El valle tiene 22 kms. (14 millas) de ancho en Jericó. Hay tres riberas diferentes que pueden ser vistas en este punto. Primero, la ribera alta que forma la primera inclinación del gran valle. En seguida viene la ribera

más baja o media entre la cual es encontrada vegetación exuberante, y luego la verdadera ribera del lecho del río. Usualmente era un punto vadeado en Jericó, sin embargo, durante la época de lluvias desde Marzo hasta el primero de Mayo, el río podría tener 3.6 mts. (12 pies) de profundidad con una corriente rápida. Era durante el tiempo de inundaciones cuando las aguas se detuvieron para que los israelitas cruzaran en seco (Josué 3:15-16).

Al final el Jordán fluye en el Mar Muerto el cual tiene 77 kms. (48 millas) de largo con un máximo de profundidad de 16 kms. (10 millas). Su superficie es ya el punto más profundo sobre la tierra, y luego sus aguas llegan más abajo hasta otros 396 mts. (1300 pies). Si las montañas fueran inesperadamente aplanadas, el Mediterráneo se precipitaría a través de la tierra para llenar la hondonada.



El Jordán fluye en el Mar Muerto desde el norte. El Río Arnón fluye en éste desde el oriente. El Zered fluye en éste desde el sur. Quizás 6½ millones de toneladas de agua entran al Mar Salado cada día. No obstante, *¡nada* sale (o mana) de éste! La tasa de evaporación es tan grande que generalmente una niebla se cierne por encima de sus aguas claras. El agua dejada es 25% substancia sólida – cinco veces más salada que la de los océanos. Peces arrastrados a éste desde el Jordán, mueren pronto y son depositados sobre sus playas. Aunque es llamado el Mar Salado en la Biblia, el nombre Mar Muerto es muy apropiado. Jugó solamente un papel menor en las vidas de los israelitas a causa de su calor opresivo en el verano, su salinidad contranatural, y las alturas prohibitivas sobre las playas por el otro lado.

Al sur del Mar Muerto hay un valle como un canal que gradualmente se levanta en elevación a medida que continúa hacia el sur 177 kms. (110 millas) hasta Ezión-geber a la orilla del Golfo de Akabah. El nombre Araba es usado para referirse a todo el valle del Jordán y algunas veces más específicamente al valle al sur del Mar Muerto. Es un valle estéril, escarpado con canales profundos a cada lado.

**Marque:** Río Jordán  
Lago de Hulé  
Mar de Galilea  
Mar Muerto

**Marque los ríos tributarios:** Río Yarmuk  
Río Jaboc  
Río Arnón  
Río Zered

**Marque el Araba al sur del Mar Muerto.  
Coloree todo el valle de un verde oscuro.**

### La Meseta Trans-Jordana

Inmediatamente al otro lado del valle del Jordán, hay otra extensión de montañas, una extensión de Anti-Líbanos que notamos en nuestra última lección. La meseta de Moab, inmediatamente al oriente del Mar Muerto, forma un muro de 914 mts. (3000 pies) de alto. Las montañas sobre este lado oriental son más altas que aquellas al occidente, pero propenden a formar una planicie alta con muy pocos picos agudos.

Moisés contempló la tierra prometida desde uno de los picos de este lado, el monte Nebo (Deut. 34). Está

ubicado justo al nordeste del Mar Muerto. Nótese que él fue capaz de ver un amplio panorama de Canaán desde este sitio escogido por Dios porque estaba más alto que las montañas que cruzan el Jordán.

La meseta oriental era conocida por su excelente tierra de apacentamiento. A causa de esta atracción, las tribus de Rubén, Gad, y la media tribu de Manasés la pidieron como su herencia. Esta porción de la tierra no fue incluida en la promesa original a Abraham (Gén. 15:18), porque Moisés estuvo angustiado al principio cuando dos tribus y media la solicitaron (Núm. 32). A través de la historia israelita, lograron tener todo o un poco del territorio dependiendo de su fortaleza política en el momento dado.

La meseta fue dividida en cuatro secciones. Al norte del río Yarmuk estaba el territorio llamado Basán. Rara vez estuvo bajo el control israelita. Llegó a estar bajo el dominio Sirio al principio de la historia de Israel.

La sección media al sur del Yarmuk hasta aproximadamente la punta norteña del Mar Muerto es referida a menudo como Galaad. Algunas veces el nombre es usado más específicamente para la tierra entre el Yarmuk y Jaboc (compare Deut. 2:36; 3:13; con Josué 22:9). Esta sección central de la meseta era la plaza fuerte al lado oriental del Jordán.

Los moabitas tuvieron firme control de la sección entre el río Arnón y el Zered. A veces fueron lo bastante fuertes para mantener toda la tierra al este del Mar Muerto.

Al sur del Zered reposa la región montañosa de Seir que perteneció a los edomitas a través de la mayoría de la historia del Antiguo Testamento. Era seca con colinas estériles, sin embargo con valles escondidos a través de desfiladeros estrechos. Los edomitas, y más tarde, los nabateanos que ganaron el control de área, se volvieron muy experimentados en encontrar y mantener la escasa agua que estaba disponible.

Aún otra ruta comercial seguía a la meseta oriental desde el interior del sur de Arabia hasta Mesopotamia. Era llamada la Carretera del Rey. Cualquiera que la controlara podía recoger impuestos de las muchas caravanas que comerciaban a lo largo del camino. Muchas batallas fueron peleadas a través de los años por el control de la Carretera del Rey.

La tierra fértil alcanza solamente 32-40 kms. (20-25 millas) al oriente del Jordán antes de que empiece la meseta aun más alta del Desierto Árabe. Discutiremos el desierto con más detalle más tarde.

Los amonitas vivieron al oriente de Galaad a lo largo de la margen del desierto. Es fácil ver por qué pelearon con Israel tan a menudo. Su tierra era árida mientras que los campos de Galaad eran verdes.

**Marque las secciones de la Meseta Trans-Jordana:**

**Basán**

**Galaad**

**Moab**

**Edom**

**Coloree la meseta de amarillo.**

**Marque el Desierto Árabe en la margen oriental de su mapa.**

**Identifique la tierra de Amón entre Galaad y la margen del desierto.**

## Revisión de la Descripción de Palestina (Lecciones 2-4)

Identifique las montañas: (Marque las montañas en su mapa de repaso).

- \_\_\_\_\_ 1. Cubierto de nieve todo el año.
- \_\_\_\_\_ 2. Famoso por sus cedros.
- \_\_\_\_\_ 3. Justo fuera hacia el Mediterráneo.
- \_\_\_\_\_ 4. Está situado al oriente de la ciudad de Jerusalén.
- \_\_\_\_\_ 5. Montañas gemelas en cualquier lado de Siquem.
- \_\_\_\_\_ 6. La extensión de las montañas al occidente del Jordán.
- \_\_\_\_\_ 7. La extensión de las montañas al oriente del Jordán.
- \_\_\_\_\_ 8. El Jordán empieza como su cimiento.

Nombres para las personas y la tierra:

- \_\_\_\_\_ 1. Este nombre viene a nosotros de los romanos.
- \_\_\_\_\_ 2. La tierra es llamada así porque Dios se la prometió a Abraham.
- \_\_\_\_\_ 3. La tierra es llamada así porque los descendientes de Abraham heredaron la tierra.
- \_\_\_\_\_ 4. El nombre significa “extranjero” o “foráneo”.
- \_\_\_\_\_ 5. Las personas del reino sureño de Judá fueron las primeras llamadas por este nombre.
- \_\_\_\_\_ 6. Descendientes de Jacob.
- \_\_\_\_\_ 7. La tierra es llamada así a causa de una rama particular de los descendientes de Cam que se establecieron allí.
- \_\_\_\_\_ 8. El nombre con el que llamamos a estas personas hoy día.

Identifique los cuerpos de agua: (Marque los ríos en su mapa de repaso).

- \_\_\_\_\_ 1. El principal río de la tierra.
- \_\_\_\_\_ 2. Desemboca en el Mar Muerto desde el oriente.
- \_\_\_\_\_ 3. Fluye en el Mar Muerto desde el sur.
- \_\_\_\_\_ 4. Desagua la porción occidental del Valle de Jezreel.
- \_\_\_\_\_ 5. El lago de agua fresca más bajo del mundo.
- \_\_\_\_\_ 6. Llamado el Gran Mar en la Biblia.
- \_\_\_\_\_ 7. Este lago ha sido drenado.
- \_\_\_\_\_ 8. El punto más bajo en la tierra encontrado sobre el planeta.
- \_\_\_\_\_ 9. El nombre significa la “mitad de la tierra”.
- \_\_\_\_\_ 10. El uadi que formó la frontera sureña de Israel en la línea costera.
- \_\_\_\_\_ 11. Nombre bíblico para el Mar Muerto.
- \_\_\_\_\_ 12. El río entre el Mte. Líbano y las colinas de Galilea.

Naciones: (Marque las naciones en su mapa de repaso).



- \_\_\_\_\_ 1. El pueblo que controlaba la tierra entre los ríos Arnón y Zered.
- \_\_\_\_\_ 2. Controlaban el valle costero del sur
- \_\_\_\_\_ 3. Se volvieron a la ruta del mar muy al principio porque su planicie costera era muy estrecha.
- \_\_\_\_\_ 4. Vivían en la margen del desierto.
- \_\_\_\_\_ 5. El Mte. Seir era su plaza fuerte.
- \_\_\_\_\_ 6. Reclamaron a Basán muy al principio en la historia de Israel.

Distancias:

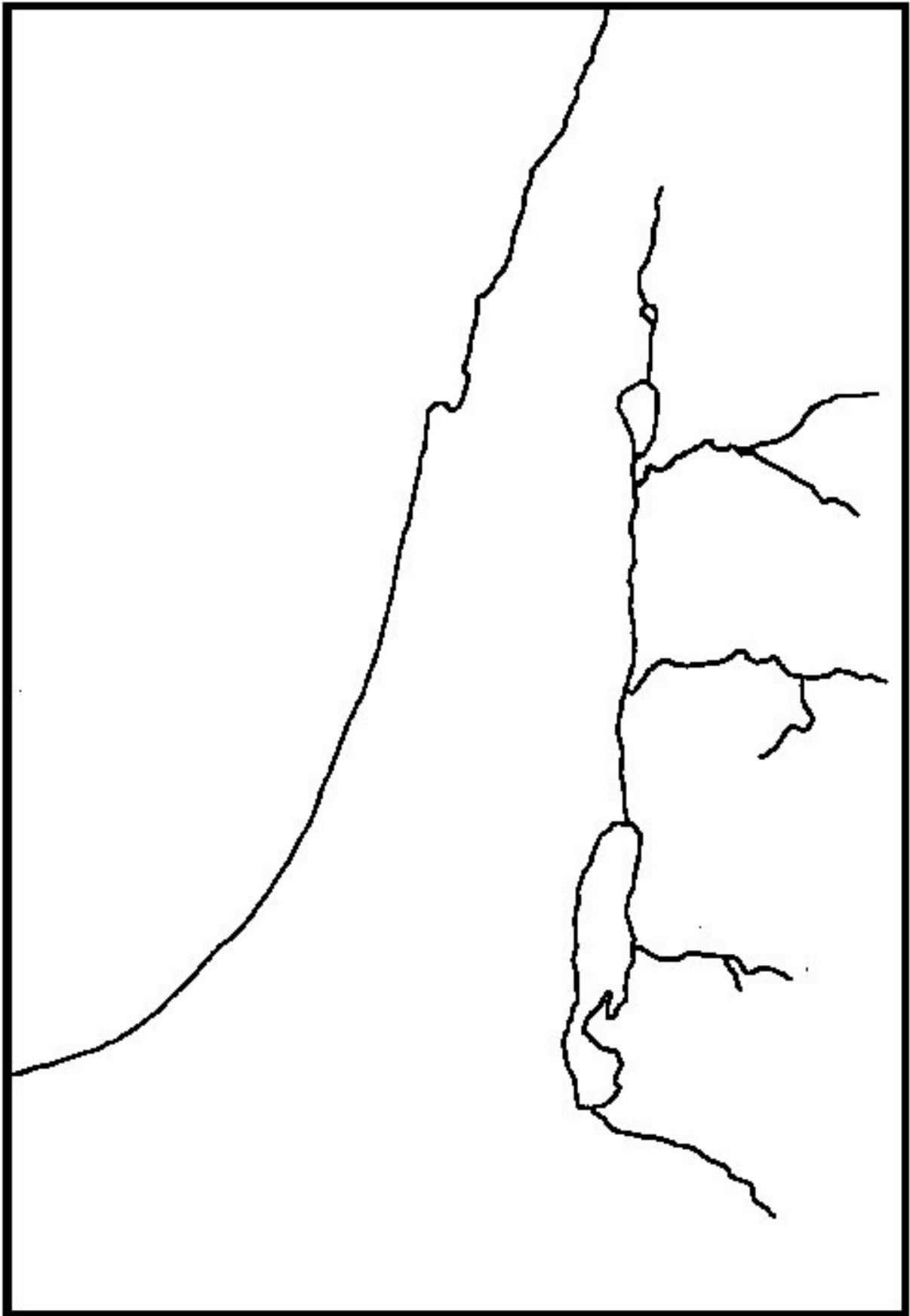
- \_\_\_\_\_ 1. Desde Dan hasta Beersheba.
- \_\_\_\_\_ 2. Desde los picos del Mte. Hermón hasta el Mar Muerto.
- \_\_\_\_\_ 3. Longitud total del Valle de la Gran Hendedura.
- \_\_\_\_\_ 4. La anchura de Canaán en el norte.
- \_\_\_\_\_ 5. La anchura de Canaán en la extremidad sureña del Mar Muerto.
- \_\_\_\_\_ 6. La distancia desde Jerusalén hasta Jericó.
- \_\_\_\_\_ 7. La longitud del lecho del río Jordán.
- \_\_\_\_\_ 8. La distancia desde el río Jordán hasta la margen del desierto Árabe.
- \_\_\_\_\_ 9. Desde Jope hasta Gaza.
- \_\_\_\_\_ 10. Desde el río Leontes hasta el valle de Jezreel.

Ciudades: (Marque las ciudades en su mapa de repaso).

- \_\_\_\_\_ 1. La ciudad más hacia el norte en el control usual de Israel.
- \_\_\_\_\_ 2. Los mejores puertos naturales en la tierra.
- \_\_\_\_\_ 3. Herodes construyó un puerto artificial aquí.
- \_\_\_\_\_ 4. Una ciudad en el Neguev, construida alrededor de los pozos que Abraham excavó.
- \_\_\_\_\_ 5. La ciudad guardando el paso a través de la estribación del Carmelo.
- \_\_\_\_\_ 6. Un gran centro de comercio de los filisteos.

Identifique: (Marque las regiones en su mapa de repaso).

- \_\_\_\_\_ 1. Nombre las 4 zonas paralelas entre el Mar Mediterráneo y el desierto Árabe.
- \_\_\_\_\_
- \_\_\_\_\_
- \_\_\_\_\_
- \_\_\_\_\_ 2. El valle seco, escarpado al sur del Mar Muerto.
- \_\_\_\_\_ 3. El nombre hebreo del valle que significa “La Sementera de Dios”.
- \_\_\_\_\_ 4. El nombre griego para el mismo valle.
- \_\_\_\_\_ 5. La porción central de la llanura costera.
- \_\_\_\_\_ 6. El área muy seca y escarpada al sur de Canaán.
- \_\_\_\_\_ 7. El enrollado caliente, seco oriental.
- \_\_\_\_\_ 8. Las inclinaciones muy escarpadas en el lado occidental del Mar Muerto.
- \_\_\_\_\_ 9. El nombre para el Valle del Jordán hoy día.
- \_\_\_\_\_ 10. Las colinas bajas, quebradas, entre la llanura costera y la región montañosa de Judá.
- \_\_\_\_\_ 11. La ruta comercial a lo largo de la llanura costera.
- \_\_\_\_\_ 12. La ruta comercial que corre a lo largo de los picos de la colina montañosa en el lado occidental del Jordán.
- \_\_\_\_\_ 13. La ruta comercial a lo largo del altiplano trans-jordano.



## Lección 6

# Las Tierras del Antiguo Testamento

Ya hemos declarado que ninguna persona o nación existe sola. Imaginémonos a Palestina como el centro de una rueda y los otros países que la tocaban como los rayos de esa rueda.

### Mapa #2 – Tierras bíblicas

**Marque y numere su mapa.**

**Marque las direcciones. Nótese que este mapa está dibujado de manera que la línea norte-sur está situada transversalmente en el lado angosto de su página.**

**Encuentre a Palestina y trace una línea de puntos alrededor de éste de manera que pueda encontrarla rápidamente cada vez que la busque en su mapa.**

**Compare la escala de kilómetros (millas) en los Mapas #1 y 2.**

**Note la ubicación de los grandes cuerpos de agua y píntelos de azul.**

**Marque cada lugar en su mapa a medida que lo estudie.**

### Mesopotamia

Los ríos proveen fácil acceso al agua para el hombre y el animal, de manera que no es sorprendente que las primerísimas señales de civilización hayan sido encontradas en un extenso valle entre dos ríos muy grandes. El Tigris y el Eufrates brotan de las montañas de lo que ahora es Turquía y corren hacia el sudeste dentro del Golfo Pérsico. Sus fuentes están a menos de 160 kilómetros (100 millas) aparte.

El Tigris es un río rápido, turbulento, de 1850 kilómetros (1.150 millas) de largo. La antigua ciudad de Nínive era una de las ciudades más importantes construidas en sus orillas.

El Eufrates serpentea en su largo camino casi 2.735 kilómetros (1.700 millas) desde su nacimiento hasta el golfo. Aunque normalmente es un río mucho más calmado, puede causar gran daño. Hay extensa evidencia de que hubo numerosas veces cuando éste cambio de curso inesperadamente y devastó algunas ciudades construidas en sus orillas. El Antiguo Testamento lo llama a menudo al Eufrates el “Río Grande” o simplemente “el Río”. (Véase Gén. 15:18; Josué 1:4; 1 Reyes 4:21).

Una descripción del Huerto de Edén incluye los nombres de estos dos ríos, el Hidkel (Tigris) y el Eufrates. Dos ríos adicionales son nombrados, el Pisón y el Gihón. Su ubicación nunca ha sido encontrada (Gén. 2:8-14).

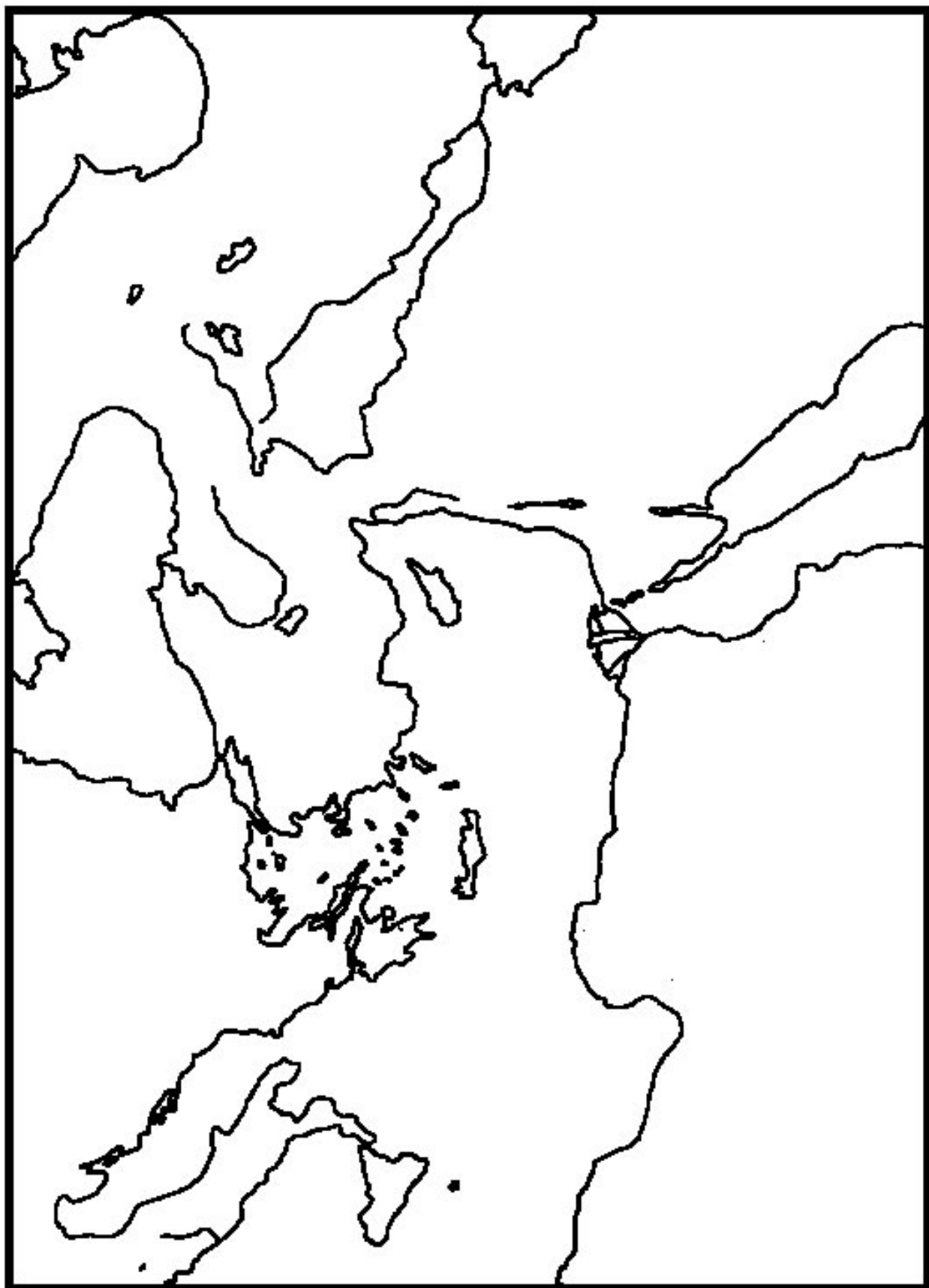
El extenso valle entre los ríos es llamado en el texto hebreo del Antiguo Testamento el Aram-Naharaim o el “Aram de los dos ríos”. Nuestra traducción española usualmente usa un término griego equivalente, Mesopotamia, “entre los ríos”. Este término apareció primero en uso extenso durante los años del silencio bíblico entre Malaquías y Mateo cuando el reino griego-sirio tenía el control de la región. Por tanto, la mayoría de las traducciones españolas en el uso común dicen Cusan-risataim de Jueces 3:8-10 quien era el “rey de Mesopotamia”. Si usted lee el mismo pasaje en un lenguaje moderno de la Biblia (tal como la Nueva Versión Internacional), él estará descrito como el “rey de Aram-Naharaim”. Ambos términos se aplican al valle entre los ríos Tigris y Eufrates.

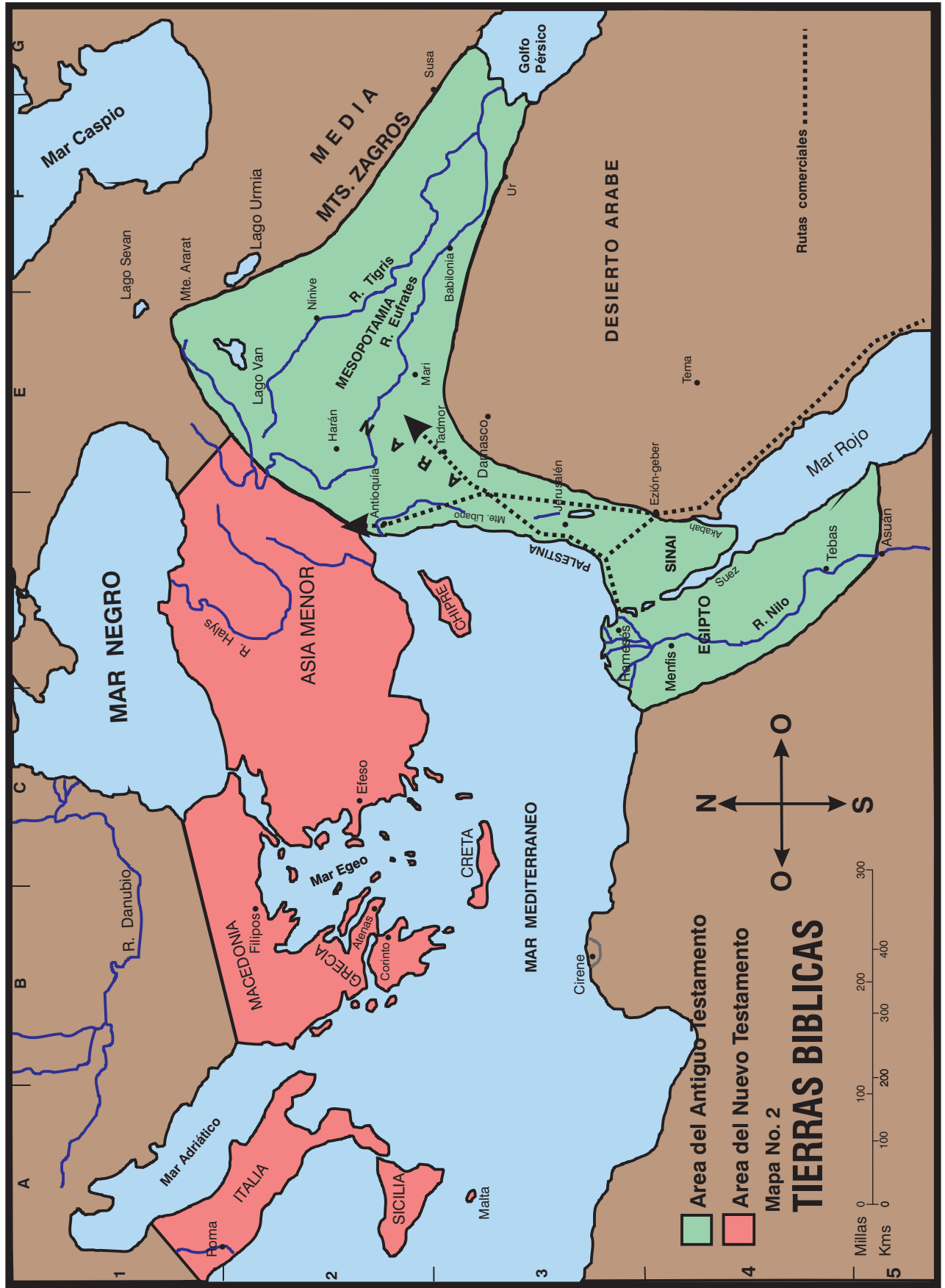
Usaremos la palabra Mesopotamia para referirnos a toda el área extendiéndose desde el Golfo Pérsico en el sur hasta los montes del Ararat en el norte. Recuerde, este es un término *geográfico* antes que un término *político*. En otras palabras, nunca hubo una nación de personas llamada los “Mesopotámicos” que conquistaron otro pueblo. En lugar de eso, es una región donde surgieron y cayeron muchas naciones a través de los años. Los primerísimos Acadios y Sumerios eran de Mesopotamia. Más tarde, los grandes imperios asirios y babilonios se originaron allí.

Algunas veces el término Aram está unido con otra palabra para especificar una ubicación particular. Por ejemplo, Jacob encontró a sus esposas en Padan-Aram hacia el norte de Mesopotamia cerca a la ciudad de Harán (Gén. 28:2). Aram parece haber significado “altura” originalmente e indudablemente fue usada como un término geográfico para la alta planicie que se extiende desde las montañas del Líbano cerca al Mar Mediterráneo hasta los superiores ríos Tigris y Eufrates. Esta planicie también fue el hogar para los descendientes de Aram, el hijo de Sem, un hijo de Noé. Los hebreos también vinieron a través de Sem y por tanto, estuvieron estrechamente relacionados con los arameos.

**Marque los ríos Tigris y Eufrates. Marque el valle entre los ríos de Mesopotamia. Marque las montañas del Líbano. Marque la planicie entre los Líbanos y el río Tigris en Aram.**

Los pueblos marcaron de puntos a Mesopotamia y Aram desde los albores de la civilización. A medida que los años pasaron, los pueblos crecieron en ciudades capaces de conquistar y controlar a sus vecinos. Surgieron ciudades-estado con su propio rey, capaces de tener más o menos territorio dependiendo de su fortaleza. Las ciudades empezaron a construir murallas macizas de ladrillos de lodo seco para protegerse a sí mismos de sus enemigos. Notablemente grados de tecnología avanzada desarrollaron. Fueron usados los





primerísimos sistemas de irrigación. Fue inventada la rueda. Las personas usaron los metales para hacer sus herramientas. Los sistemas matemáticos que aún usamos fueron empezados. (Por ejemplo, aún dividimos un círculo en 360 grados como lo hicieron los Sumerios).

Quizás lo más importante para la historia, fue empezada la primera forma de escritura. La escritura cuneiforme empezó como un tipo de escritura-dibujo y se desarrolló en un sistema por medio del cual los sonidos y las sílabas eran representados con caracteres cuneiformes. Grandísimas bibliotecas de escritura cuneiforme han sido encontradas en las ruinas de las ciudades antiguas. Algunos de los documentos datan tan temprano como los 3.000 A.C. – aproximadamente 1.000 antes de Abraham.

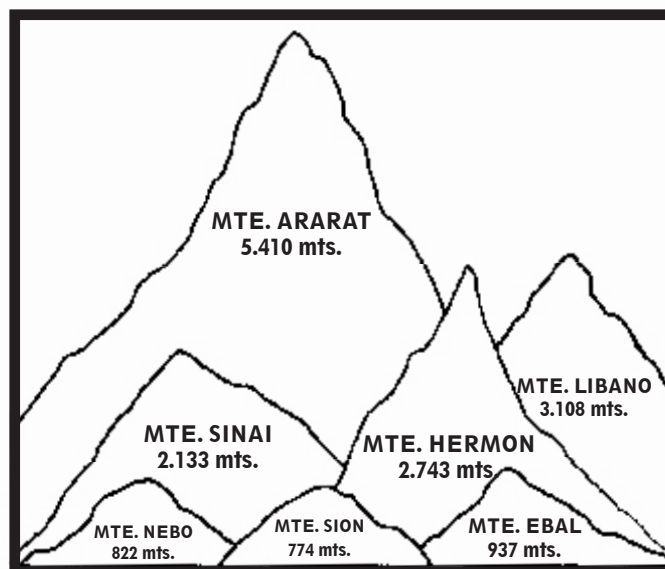
Los imperios de Mesopotamia y las ciudades-estado de Aram llegaron a entrar en contacto frecuente con el pueblo de Dios viviendo en la pequeña tierra de Canaán. Las ciudades-estado arameas de Harán, Damasco, Zoba y otras, son mencionadas a menudo en la Biblia. En raras ocasiones, los israelitas y los arameos unieron sus fuerzas para pelear contra algún enemigo común (véase 2 Reyes 15-16). Muy a menudo, pelearon sobre las líneas fronterizas. La ciudad-estado de Damasco llamada Siria fue uno de los enemigos más molestos de Israel durante los días de Acab y los años siguiendo inmediatamente. Han sido hechos descubrimientos recientes muy interesantes en la ciudad aramea de Ebla.

Las tribus arameas desarrollaron un alfabeto avanzado haciendo su lenguaje menos difícil de manejar que los escritos cuneiformes de la Mesopotamia del sur. Gradualmente, el arameo se convirtió en el idioma oficial de los grandes imperios mesopotámicos. El idioma hebreo de los judíos y el idioma arameo tenían muchas similitudes. A medida que pasaron los años, y los judíos fueron llevados a la cautividad por los asirios y los babilonios, regularmente empezaron a usar el arameo. El hebreo permaneció como su idioma oficial para sus escrituras, pero el arameo era el idioma común en sus vidas diarias. Casi sin duda que el arameo fue el idioma que Jesús y Sus discípulos usaron más a menudo mientras caminaban por las colinas y valles de Palestina.

Una cadena montañosa corre aproximadamente paralela al río Tigris. La extensión es llamada los Montes Zagros y los picos con un promedio de 2.743 metros (9.000 pies) de altura, comparable al monte Hermón en Palestina. Habían desfiladeros a través de las montañas, y hubo comercio entre los pueblos viviendo en cualquier lado de ellas. Los descendientes de Jafet, el hijo de Noé, conocidos como los medos, desarrollaron una civilización al oriente del Zagros. No juegan una parte en la historia de la Biblia hasta mucho después en la historia del Antiguo Testamento cuando se unieron a los persas para formar el gran imperio medo-persa.

Los montes de Ararat son una extensión alta y escarpada de Mesopotamia cerca a mitad de camino del mar Negro y el mar Caspio. Son unas montañas muy altas y muy escarpadas – formadas en su mayor parte de lava. Los picos alcanzan los 6.096 metros (20.000 pies) por encima del nivel del mar, comparable a lo más escarpado de las Rocosas de los EE.UU. Nadie conoce el lugar exacto donde Noé salió del arca, aunque la tradición marca una montaña particular de dos picos gemelos. En vista de que las montañas son tan escarpadas, son virtualmente inhabitables ahora como lo fueron en los días bíblicos. Ellas formaron una barrera natural para viajar entre los pueblos viviendo a cualquier lado del recorrido. Por tanto, los descendientes de Jafet que se establecieron al norte de las montañas no juegan ningún papel en la historia de la Biblia.

**Marque los Montes Zagros y Ararat. Marque Media.**



## El Desierto Árabe

El inmenso desierto árabe está situado inmediatamente al sudoeste del río Eufrates. Cubre casi 1.609.300 kilómetros cuadrados (1.000.000 millas). Actualmente es una extensión del desierto del Sahara que cruza África del norte y es interrumpido por el río Nilo y el mar Rojo que es lo siguiente que estudiaremos.

En los días de la Biblia, Arabia era observada como un lugar misterioso, mítico – un almacén de especias y otros valores. El pueblo árabe que tocó la historia de la Biblia más estrechamente era miembro de una tribu nómada y comerciante, algunos de ellos muy ricos. Las tribus errantes hicieron su vivir por medio de las rutas comerciales que empezaban en lo profundo al sureste de Arabia e hicieron sus caminos hacia las ricas civilizaciones de Egipto, Mesopotamia y Asia Menor. Las gomas de los árboles árabes del incienso y de mirra eran especialmente valoradas como perfume e incienso.

Mucho de Arabia aún es un misterio para nosotros hoy día. Por supuesto, enormes campos de petróleo han sido encontrados allí, y Arabia Saudita afecta fuertemente la economía de nuestro mundo moderno. Recientemente, en Arabia Saudita ha habido un despertamiento del interés en la arqueología y en la historia pre-islámica del área. Quizás estos estudios contesten algunas de las preguntas acerca del papel del área en la historia antigua.

El desierto no es una vasta duna de arena como uno pudiera imaginar. Es una alta planicie con suficiente cantidad de lluvia que cae durante tiempo determinado en el interior y al sur para una población considerable. Los arqueólogos modernos han encontrado que aún la porción sur-centro de Arabia, ahora llamada “el cuarto vacío”, una vez sostuvo ciudades principales. Las secciones central y norteña son una llanura árida que puede sostener solamente a los beduinos pastores, nómadas.

A través de los años de historia, oleadas sucesivas del pueblo semita se han vaciado de Arabia hasta las fértiles tierras de Mesopotamia, Aram, y Canaán. Cerca del 2.000 A.C., los amorreos vinieron del desierto y establecieron ciudades desde Egipto hasta Babilonia. Algunas 20.000 tablillas de barro han sido recuperadas de la ciudad amorrea de Mari desde casi esta fecha. Los caldeos de Babilonia vinieron de la sección del desierto justo al noroeste del Golfo Pérsico. Cerca del 500 A.C., un pueblo llamado los nabateos se trasladaron a Edom, justo al sur del mar Muerto. Eran un pueblo fuerte e ingenioso que aún tenían predominio sobre mucho del norte de Arabia en los días de Jesús. Luego, alrededor del siglo 7° después de Cristo, el pueblo islámico se dispersó de Arabia en todas direcciones. Obligaron a las ciudades capturadas a aceptar su religión sobre la amenaza de la muerte. De esta manera, los “árabes” aún juegan el papel más importante hoy día en las políticas del área.

Hay inmensos lechos de lava inmediatamente al oriente y nordeste de la tierra de Canaán, más grande que la Canaán misma. Por tanto, los reyes de Palestina nunca pudieron expandirse hacia el oriente. Las caravanas de mercaderes decidieron viajar alrededor del desierto antes que cruzarlo. La pequeña tierra de Canaán yace directamente en la ruta de todo el comercio desde el sureste de Arabia hasta Mesopotamia o hasta los reinos en el litoral norteño del Mediterráneo. En la misma forma, las caravanas desde Egipto siguieron la ribera del mar y viajaron al norte a través de Canaán antes que ir exactamente al oriente hasta Mesopotamia.

Varios lugares en Arabia son mencionados en la Biblia tal como Dedán, Tema, Ofir, Seba, y otros. No obstante, la mayoría de las veces, eran considerados un lugar para ser evitado.

**Marque Arabia. Mire el mapa #4 para ver la lava que yace cerca a Canaán. Note las rutas comerciales.**

## Egipto

Ahora vayamos al occidente y miremos en ese sitio de otra antigua civilización. Casi al tiempo en que los sumerios estaban floreciendo en Mesopotamia, emergió un avanzado reino egipcio. Los arqueólogos han encontrado inscripciones escritas en los jeroglíficos egipcios que datan de casi el mismo tiempo como los más antiguos escritos cuneiformes. También, estaba un estilo pictográfico de escritura pero no parece haber alguna conexión directa entre las dos. En contraste a la escritura cuneiforme que cambió de la pictográfica a la escritura silábica, el estilo jeroglífico permaneció básicamente el mismo durante 3.000 años. Los egipcios desarrollaron otros dos estilos de escritura que usaron a medida que su historia progresó, pero continúan usando los jeroglíficos en sus monumentos.

El Egipto antiguo consistía enteramente del angosto valle del río Nilo y el delta que se forma antes de desembocar en el Mediterráneo. Podría ser dicho que la tierra se parece a una flor de loto con un tallo largo, angosto y un capullo en forma de abanico en la cima. En cualquier lado del valle hay solamente desierto. En efecto, en un área de por encima de los 9.655.800 kilómetros cuadrados (6.000.000 de millas) al otro lado de la cumbre de África, el valle del Nilo es el único punto a ser encontrado de agua abundante y tierra fértil.

Egipto ha sido llamado el “don del Nilo”. Aún hoy día, el 99% de las personas viven en un 4% de la tierra, y el área que puede ser irrigada por el Nilo. El valle es muy angosto, promediando en anchura de 1 a 38 kilómetros (1 a 24 millas). A medida que el río se acerca a la costa, se desparrama en un delta de 185 kilómetros de ancho (115 millas) en su punto más dilatado y cerca de 201 kilómetros de largo (125 millas). El delta era regado por siete afluentes principales del Nilo en antiguos días mas numerosas vías acuáticas y canales de irrigación. Hoy día hay solamente dos afluentes principales del río. Son 965 kilómetros (600

millas) desde la Primera Catarata del Nilo en Asuán hasta la costa del Mediterráneo.

El Nilo es el río más largo del mundo. Son 6.598 kilómetros (4.100 millas) desde su nacimiento en el África ecuatorial hasta la costa del Mediterráneo. Es uno de los pocos ríos en el mundo que fluye hacia el norte. Los vientos prevalecientes desde el mar hacían el viaje por el río muy fácil. Si uno quería zarpar hacia el sur, ponía en su lugar sus velas y dejaba que los vientos prevalecientes lo llevaran. Si quería ir al norte, ponía en el suelo sus velas y dejaba que la corriente del río llevara el bote.

No hay lluvias en absoluto en el Alto Egipto. Hay cerca de 20 centímetros (8 pulgadas) de lluvia por año en el delta. Nuevamente por vía de comparación, Alabama tiene cerca de 127 centímetros (50 pulgadas) por año. La falta casi total de lluvias significa que el bienestar de las personas dependía totalmente de la inundación del Nilo. El volumen de agua en el río es 16 veces más grande durante la temporada de creciente de agosto y septiembre que lo que es en el mes más seco de abril. El Nilo es un río muy regular, confiable, pero hubo algunos años cuando las crecientes no fueron tan grandes como era usual y ocurrieron grandes hambrunas.

Los egipcios primitivos nunca encontraron las fuentes del río ni la causa de sus crecientes. En vista de que ellos eran completamente dependientes del Nilo por su agua dadora de vida, es de sorprenderse poco que decidieran que era su dios. La plaga del agua convertida en sangre fue un golpe directo contra este dios. La plaga del trueno y granizo habría sido doblemente alarmante a una tierra de pocas lluvias.

El delta era notablemente fértil, y la civilización era próspera, con habilidades altamente desarrolladas. Los egipcios fueron los primeros en construir estructuras de piedras monumentales. Sus pirámides aún permanecen como testimonio puro de la alta inteligencia de la humanidad primitiva. Ellas fueron construidas mucho antes de que Dios llamara a Abraham de Ur de los Caldeos. Los egipcios fueron los primeros en instalar un calendario de 365 días. Tenían 12 meses de 30 días con 5 días de fiesta al final de su año. Fueron únicos en el mundo antiguo en sus habilidades médicas. Podían llevar a cabo operaciones delicadas.

Nótese que hay un gran mar al norte y desiertos a cada lado. La inaccesibilidad a Egipto ayuda a explicar cómo su civilización pudo desarrollarse tan intocable e incambiable como lo hizo a través de los años. Su gobierno era unido en lugar de estar compuesto de ciudades-estado que guerreaban como las de Mesopotamia. Por tanto, no había ciudades amuralladas ni ejército permanente en Egipto. Fueron capaces de dirigir sus habilidades de construcción en otras direcciones.

Hasta la fecha, los arqueólogos no han sido capaces de encontrar alguna evidencia del viaje de los israelitas en Egipto. No obstante, después que Israel se convirtió en una nación separada en Canaán, todo hecho conocido acerca de Egipto de la Biblia es sustentado por la historia. El hecho quizás de que no haya registros egipcios de las plagas realmente comprueba la narración bíblica. Ningún pueblo tan orgulloso habría querido registrar su humillación a manos de un grupo de pastores esclavos odiados y se habrían tomado la molestia de ver que toda evidencia de tal suceso fuera borrada completamente.

## **Marque el Río Nilo y Egipto.**

### **El Desierto del Sinaí**

Un gran cuerpo de agua yace al sudeste de Egipto. Es el Mar Rojo que desemboca en el Océano Índico 2.413 kilómetros (1.500 millas) al sur de Egipto. Tiene dos brazos en la extremidad norteña: el Golfo de Suez y el Golfo de Akabah. Esta porción superior del Mar Rojo es la única parte que tiene un papel en la historia bíblica. Usted podrá reconocer el nombre Suez porque el Canal de Suez une el Mar Rojo con el Mediterráneo y es un eslabón importante en nuestras modernas vías acuáticas. Por supuesto, no estaba en existencia en los días bíblicos.

El Golfo de Suez es de 321 kilómetros (200 millas) de largo y el Golfo de Akabah es de 160 kilómetros (100 millas) de largo. Entre los dos brazos, hay una península en forma triangulada llamada el Desierto del Sinaí. Este es donde los israelitas anduvieron errantes durante cuarenta años después que salieron de Egipto.

“Desierto” ciertamente describe esa área. La palabra bíblica, desierto, se refiere a cualquier clase de área escarpada, no cultivable, en su mayor parte inhabitada. El Sinaí es una alta planicie con colinas escarpadas, lisas y muy pocos saltos de agua. Hubo ciertos oasis donde el agua y el pasto podían ser encontrados, pero ciertamente ninguna compañía de personas tan grande como los israelitas podrían haber sobrevivido allí sin la ayuda de Dios.

## **Marque el Desierto del Sinaí**

### **El Fértil Creciente**

La tierra fértil extendiéndose desde el Golfo Pérsico a través de Mesopotamia y volteando en curva al sur a través de Palestina ha sido llamada el Fértil Creciente. Algunas autoridades incluyen a Egipto en el Fértil Creciente, aunque está separada del resto por la estéril península sinaítica. Toda la historia del Antiguo Testamento ocurre en este medio círculo de tierra (incluyendo Egipto).

El completo Fértil Creciente es igual a casi 1/3 del área de tierra continental de los Estados Unidos. Si pudiéramos colocar su línea este-oeste a través de la línea norte-sur de los Estados Unidos, se ajustaría fácil-



mente entre el Océano Atlántico y el Río Misisipi. Son aproximadamente 1.609 kilómetros (1.000 millas) exactamente desde Egipto oriental hasta la inclinación norteña del Golfo Pérsico. También son casi 1.609 kilómetros (1.000 millas) desde Egipto hasta las montañas del Ararat. Pero note estos puntos en su mapa. La mayoría de la tierra entre Egipto y el Golfo Pérsico es desierto. Esto nos ayuda a ver cuán pequeña es la tierra en nuestros días de rápida comunicación y viajes. Habría parecido mucho más grande en sus días.

**Coloree el Fértil Creciente con verde. Incluye la tierra occidental de los Montes Zagros, al norte las Montañas del Ararat, Mesopotamia, Palestina y Egipto. Esquive el Desierto Árábigo. Coloree la Península del Sinaí, no a causa de su fertilidad, sino porque es parte de la historia bíblica.**

-o-o-o-o-o-o-o-o-o-

Ahora su mapa deberá mostrar todas las tierras necesarias para un estudio del Antiguo Testamento. Hubo muchos otros pueblos en existencia y muchas otras naciones, pero no entraron en contacto directo con el pueblo de Dios durante estos siglos.

## Las Tierras del Nuevo Testamento

El Antiguo Testamento apenas menciona las tierras en la ribera norteña del Mar Mediterráneo aunque había personas viviendo allí más temprano que los israelitas que vivieron en Canaán. Por ejemplo, hubo un reino hitita muy avanzado al norte del río Halys en la norteña Asia Menor. Ellos comerciaban libremente con las tribus del Fértil Creciente. Abraham compró una cueva en la cual sepultar a su esposa de un hitita que por casualidad vivía en Canaán (Gén. 23). No obstante, la nación de los hititas nunca entró en conflicto directo con Israel, de manera que la Biblia no se toma el tiempo para decirnos algunos detalles acerca de ellos.

Hubo una civilización altamente desarrollada en la isla llamada Creta, pero la Biblia no se ocupa del pueblo hasta que un grupo de ellos invadió el sur de Palestina y se convirtió en uno de los más molestos enemigos de los israelitas, los filisteos.

### Marque el Río Halys y la isla de Creta en el Mapa #2.

El énfasis se traslada para los tiempos del Nuevo Testamento de Egipto y Mesopotamia al mundo mediterráneo. Palestina ya no estaba más bajo el control de las enormes potencias del Fértil Creciente. El Antiguo Testamento cierra con el minúsculo país de Judá bajo el control de los persas que tenían su capital al oriente del río Tigris. Durante el período entre Malaquías y Mateo, los persas fueron derrotados por los griegos en la margen de Europa.

El ejército griego, bajo el liderazgo de Alejandro Magno, pasó arrasando a través de todas las tierras que hemos estado estudiando reclamando todo en su trayectoria. Alejandro conquistó todo el camino hasta el río Indo en la margen de la India, muy lejos de nuestros mapas al oriente. Alejandro mismo murió pronto y su imperio fue dividido entre sus generales. Alejandro y todos sus generales estaban convencidos de que la filosofía griega era la más grande que el mundo había visto, y determinaron divulgar su cultura a través del territorio conquistado, algunas veces por la fuerza. Por tanto, el idioma griego, sus costumbres, y su cultura se esparció desde Grecia en la margen de Europa hasta la frontera de la India. La gran influencia griega permaneció como la fuerza cultural más brillante en las tierras por los siguientes varios siglos. Muchos de nuestros propios filósofos pueden ser remontados hasta el pensamiento de los griegos.

### Marque Grecia

Roma estaba surgiendo al poder también durante los años del silencio bíblico. Al principio conquistaron el territorio al norte y al occidente del área mostrada en nuestros mapas de las tierras bíblicas. Su territorio se extendió hasta el Océano Atlántico para incluir lo que ahora es España. Gradualmente, dirigieron su atención al oriente y empezaron a reclamar las provincias que yacen en el mar Mediterráneo. Palestina misma cayó en manos de Roma en el 63 A.C. Por supuesto, este era el imperio en el poder en los días del ministerio personal de Cristo y durante los primeros días de la iglesia.

Roma consideró a Palestina un estado fronterizo estratégico a causa de su ubicación. Roma quería controlar todo el mar Mediterráneo. Tuvieron éxito en ganar todas las costas durante los años inmediatamente precediendo al nacimiento de Cristo, pero Palestina era un lugar de problemas constantes. Una tribu árabe llamada los Nabateos controlaba el desierto inmediatamente al sur y al oriente de Palestina. Ni aún habían sido conquistados por Roma en los días de Jesús. Un pueblo llamado los partianos habían ganado el control de Mesopotamia y la antigua Persia y habían establecido un imperio que Roma nunca procuró derrotar.

Los judíos se sintieron agraviados por el control romano de sus tierras y constantemente estuvieron buscando las formas de vencerlos. Roma, mientras tanto, constantemente estaba buscando las formas de fortalecer su dominio porque necesitaba a Palestina para completar su control del Mar y como una zona amortiguadora de choques contra los pueblos enemigos en su frontera. De esta manera, fue colocado el cimiento para encarnizados conflictos.

### Marque Roma

Cuando la Biblia habla de Asia, se está refiriendo a una provincia romana en la costa norteña del Mar Mediterráneo en lo que hoy día es conocido como Asia Menor. Roma había dividido la península en nueve provincias para un fácil gobierno. Las ciudades localizadas en la región eran lugares ocupados, prósperos en los días del Nuevo Testamento. El libro de Hechos sigue a Pablo a medida que lleva el evangelio a las

costas norteñas del Mediterráneo en la península de Asia Menor. Fue tomado como prisionero por Roma misma. Aunque era un prisionero a causa de su fe en Cristo, no dejó de predicar a todos a su alcance.

La isla de Chipre, Creta, Malta y Patmos, todas ellas juegan una parte en la historia del Nuevo Testamento. Pablo esperaba ir a España (lejos de nuestros mapas al occidente) para predicar. No tenemos forma de saber con seguridad si pudo hacer el viaje después de su primer encarcelamiento en Roma.

Los judíos estaban dispersos por todas las tierras mostradas en nuestros mapas para los días del Nuevo Testamento. Pablo o uno de los otros hombres podían ir a casi cualquier ciudad y encontrar una sinagoga de judíos reuniéndose para adorar en el Día de Reposo. Ya conocían las escrituras del Antiguo Testamento y deberían haber estado preparados para la historia de Cristo. Desafortunadamente, muy a menudo, los judíos se apartaron en incredulidad mientras que los gentiles se quedaron para escuchar las buenas nuevas.

**Marque Asia Menor y Chipre. Ahora coloree con naranja todos los lugares que usted ha marcado para la historia del Nuevo Testamento. Por supuesto, Palestina jugó un papel sobresaliente en ambos períodos.**

-0-0-0-0-0-0-0-0-0-

Ahora su mapa #2 deberá mostrar toda el área tocada directamente por los personajes de la historia bíblica. Miraremos cada área más de cerca a medida que avancemos en el estudio de la historia. Estos son lugares donde vivieron los personajes de la Biblia, por tanto, es su geografía la que ayudó a formar las vidas de tales hombres como Abraham, David, Pablo, y otros.

Nuestro estudio desde este punto observará cómo Dios despliega Su plan de redención para toda la humanidad.

### **Hoja de Trabajo Revisión de Todas las Tierras Bíblicas (Lecciones 6 y 7)**

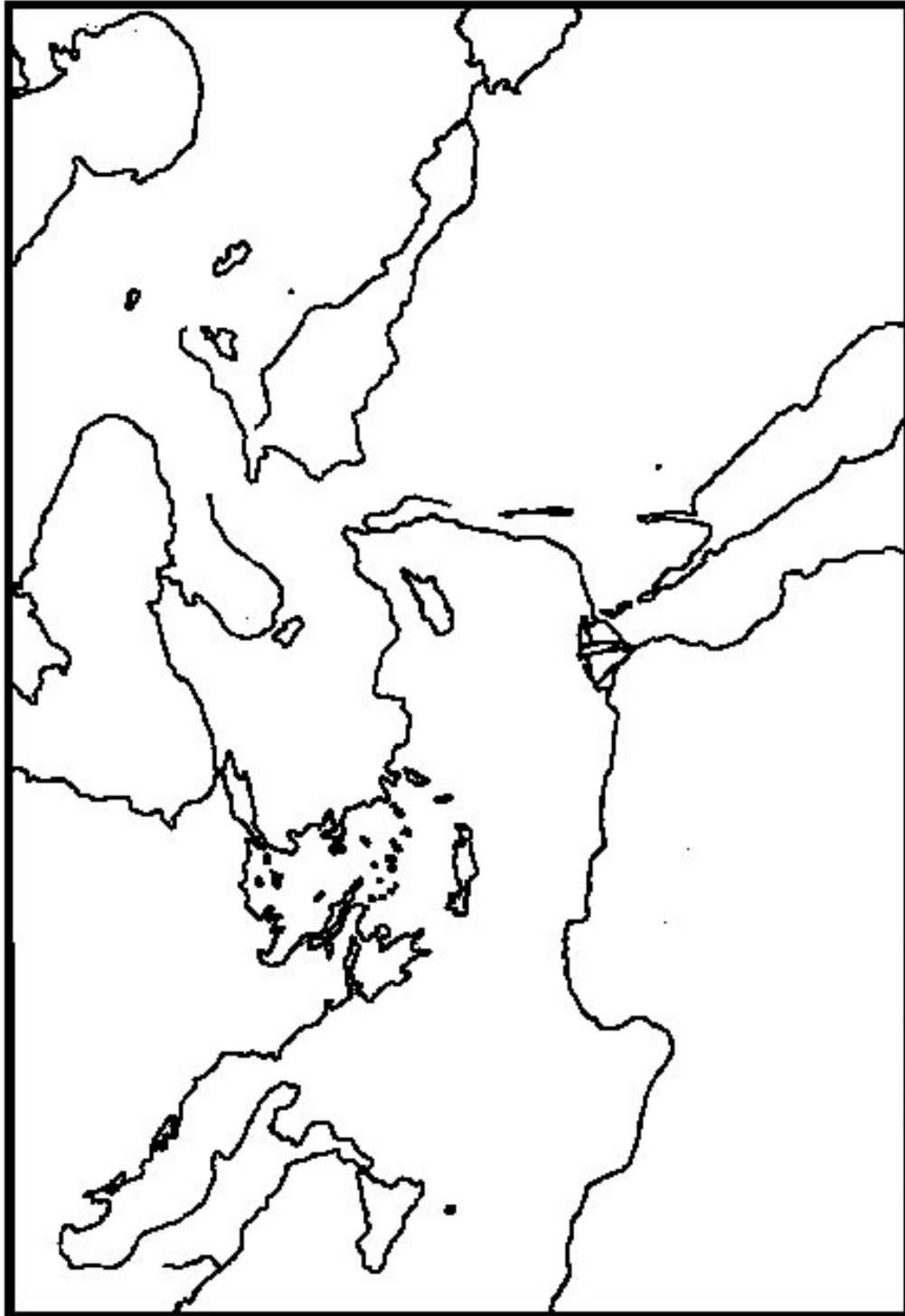
Marque cada uno de estos lugares en el mapa de revisión. Trate de hacer su trabajo en el mapa *de memoria*.

- |                     |                        |                      |
|---------------------|------------------------|----------------------|
| 1. Mesopotamia      |                        |                      |
| 2. Mte. Ararat      | 9. Egipto              | 16. Golfo de Akabah  |
| 3. Río Tigris       | 10. Río Nilo           | 17. Roma             |
| 4. Golfo Pérsico    | 11. Mar Rojo           | 18. Chipre           |
| 5. Fértil Creciente | 12. Desierto del Sinaí | 19. Asia Menor       |
| 6. Río Eufrates     | 13. Golfo de Suez      | 20. Mar Mediterráneo |
| 7. Arabia           | 14. Reino Hitita       | 21. Creta            |
| 8. Aram             | 15. Grecia             | 22. Sumer            |

Los nombres enlistados arriba pueden ser usados más de una vez o no en absoluto. Escriba el número del nombre en el correspondiente espacio en blanco que está debajo.

- \_\_\_\_\_ 1. Una nación primitiva en Asia Menor.
- \_\_\_\_\_ 2. Los israelitas anduvieron errantes aquí después que dejaron Egipto.
- \_\_\_\_\_ 3. Toda la historia del Antiguo Testamento ocurre aquí.
- \_\_\_\_\_ 4. El arca reposó aquí.
- \_\_\_\_\_ 5. Ubicación de Sumer, Babilonia, y probablemente el Huerto del Edén.
- \_\_\_\_\_ 6. El Tigris y el Eufrates desembocan en éste.
- \_\_\_\_\_ 7. El río más largo en el mundo.
- \_\_\_\_\_ 8. Imperio en el poder durante el ministerio de Cristo.
- \_\_\_\_\_ 9. Hogar de los descendientes de Aram, hijo de Sem, hijo de Noé.
- \_\_\_\_\_ 10. Región en las costas norteñas del mar Mediterráneo.
- \_\_\_\_\_ 11. Región donde se originaron los jeroglíficos.
- \_\_\_\_\_ 12. El cuerpo de agua más grande en las tierras bíblicas.
- \_\_\_\_\_ 13. Hogar de muchas tribus nómadas y comerciantes.
- \_\_\_\_\_ 14. Mesopotamia es la tierra entre estos dos ríos.
- \_\_\_\_\_ 15.
- \_\_\_\_\_ 16. Imperio dirigido por Alejandro Magno.
- \_\_\_\_\_ 17. Los dos brazos del Mar Rojo.

- \_\_\_\_\_ 18.
- \_\_\_\_\_ 19. Lugar donde empezó la escritura cuneiforme.
- \_\_\_\_\_ 20. La isla mediterránea más cerca a Palestina.
- \_\_\_\_\_ 21. El hogar original de los filisteos.
- \_\_\_\_\_ 22. Otro nombre para Aram-Naharaim.
- \_\_\_\_\_ 23. Desemboca en el océano Indico.
- \_\_\_\_\_ 24. El “don del Nilo”.
- \_\_\_\_\_ 25. A menudo referido en el Antiguo Testamento como el “río grande”.



# Fechaando Los Eventos Bíblicos

Génesis 5 dice que Adán era de 130 años cuando su hijo Set nació. Set era de 105 años cuando su hijo Enós nació .... Si tomamos las figuras de las diez generaciones registradas mas la edad de Noé cuando empezó el Diluvio (Gén. 7:11), tendremos un total de 1.656 años. Esta figura indicaría que fueron exactamente 1.656 años desde la Creación hasta cuando Dios cerró la puerta del arca y empezó el Diluvio.

El capítulo 11 nombra diez generaciones desde Noé hasta Abraham. Estas cifras totalizan 390 años. Abraham era de 75 años de edad cuando dejó Harán (Gén. 12:4). Esto indicaría que fueron 465 años desde el diluvio hasta el tiempo que Abraham dejó Harán en su camino a la tierra de Canaán. El llamamiento de Abraham sería exactamente 2.121 años después de la Creación.

Isaac nació 25 años después cuando su padre Abraham tenía 100 años (Gén. 12:4; 21:5). Y así sucesivamente.

Si continuamos a través de toda la Biblia, notando cada acontecimiento de una fecha, resultaríamos con sistema de fechas para todos los eventos bíblicos. Este método colocaría la Creación aproximadamente 4.000 años A.C. Durante el 1.600 (D.C.), el Arzobispo Ussher de Armagh surtió este sistema en detalle, usando las referencias bíblicas más los hechos históricos a su disposición. Sus fechas empezaron a ser incluidas en los estudios de ayuda de las Biblias en inglés en el año 1701. Usted puede tener una Biblia hoy día que dé las fechas en las márgenes. Si es así, ellas pueden ser las cifras surtidas por Ussher hace mas de 300 años, o pueden haber sido actualizadas por descubrimientos más recientes. Trescientos años parecen mucho tiempo para nosotros, pero recuerde, Ussher mismo vivió 1600 años después del evento bíblico mas reciente. Recuerde, *¡ni su fechando ni cualquier otra nota marginal es inspirado!*

Los descubrimientos arqueológicos desde los días de Ussher han sido sorprendentes. Hoy día su fechando no es considerado exacto. Por ejemplo, Ussher fechó el Diluvio en el 2.349 A.C. ¡Sin embargo, la ciudad de Ur fue establecida *después* del Diluvio, y era una ciudad próspera 3.500 años antes de Cristo! Este período de 3.500 años no puede extenderse antes del Diluvio porque la arqueología ha mostrado, que aunque hubo inundaciones mayores en el río Eufrates, la ocupación de Ur no fue interrumpida por tal evento cataclísmico como un diluvio universal.

El conteo del tiempo es una cosa relativa. Todas nuestras vidas hoy día giran alrededor de nuestros relojes y calendario. Casi todo nuestro mundo usa el mismo calendario para marcar el tiempo. Asumimos que esto siempre ha sido así, pero eso es irrealista. En primer lugar, nuestro tiempo es contado desde el nacimiento de Cristo. ¿Qué acerca de todo el tiempo antes de que Él naciera? Solamente los judíos esperaban un Mesías. Ni aún ellos tenían una idea precisa de *cuándo* vendría. Por eso ellos ciertamente no pudieron contar su tiempo en esa forma.

Cada civilización primitiva tenía su propio sistema de marcar el tiempo: los sumerios, los egipcios, los israelitas, los griegos, los romanos (sólo por mencionar unos pocos). Los romanos fecharon sus años en términos de cuánto tiempo había pasado desde que la ciudad de Roma fue construida. El sistema griego estaba basado en un ciclo de cuatro años contados desde un juego olímpico hasta el siguiente. El año nuevo de los israelitas marcó el mes que salieron de Egipto (Ex. 12:2).

Todos los calendarios han sido estructurados básicamente alrededor del año solar, la distancia de tiempo que se toma la tierra para ir alrededor del sol una vez. Todos los pueblos pudieron calcular esto por el ciclo de las estaciones. Los meses han sido contados por el ciclo de la luna. Pero algunos calendarios tenían diez meses. Otros tenían doce meses cortos. Algunos eran extraordinariamente exactos – otros lejos de esto. Un primitivo calendario romano tenía diez meses comenzando en Marzo. ¡Parece haber *ignorado* 60 días en el invierno! Algunas veces un emperador romano añadió un mes a su año por simple capricho. En otros tiempos, los hombres sabios comprendieron que su calendario era incorrecto porque las estaciones no eran más largas llegando al tiempo correcto. De esta manera, el gobernador podía declarar que un cierto número de días fueran añadidos o sustraídos para componer la diferencia. Por ejemplo, Julio César añadió 90 días al año que sería el 46 A.C. en nuestro conteo en un esfuerzo por corregir el calendario romano.

Los egipcios empezaron su año nuevo el día de la estrella brillante Sirio en su firmamento. Fue cerca al mismo tiempo en que el agua empezaba a retornar al río Nilo. Empezaban su año con una celebración seguida por la plantación de sus nuevos granos. Era un calendario extraordinariamente exacto, pero no incluía el día extra que viene cada cuatro años en nuestro calendario. Los científicos egipcios sabían que el día era necesario, y su gobernador Tolomeo III proclamó un edicto para que el día extra fuera añadido pero el pueblo lo rehusó. Doscientos años después, Julio César vino, revisó el calendario, e incluyó el día extra (el calendario juliano). Su calendario no fue guardado exactamente por algunos años. Ambos, Tolomeo III

y Julio César vivieron durante los años del silencio bíblico entre Malaquías y Mateo.

Gradualmente, el calendario juliano llegó a ser aceptado, y nuestros ancestros lo guardaron hasta 1582 D.C. cuando el Papa Gregorio XIII desprendió 10 días de su calendario porque éste estaba corriendo demasiado rápido, basado en las figuras en los días de César. Ahora, un día extra es añadido cada cuatro años excepto en los años-siglo que no pueden ser divididos por 400. Los científicos nos dicen que esto es aún 26 segundos demasiado rápidos cada año – pero le tomaría 3.000 años para que esto avanzara un día completo. Los ingleses y sus colonias americanas aceptaron el calendario “Gregoriano” en 1752. Eso retrocedió el calendario Inglés 11 días completos. De esta manera, Septiembre tuvo solamente 19 días ese año. Los campesinos no entendieron por qué había ocurrido esto, ¡y hubo motines en las calles porque pensaron que el rey les había robado 11 días de salario!

Rusia aceptó el calendario gregoriano en 1919; Grecia en 1923; Turquía en 1928; y China en 1929. La porción musulmana del mundo aún usa un calendario basado en la fecha de la huida de Mahoma a Medina en el 622 D.C.

Todo esto ilustra que el asunto de fechar todos los eventos históricos desde la Creación, incluyendo los eventos bíblicos, sería un evento difícil si tuviéramos una copia de cada calendario ante nosotros. Sería una tarea grande aprender a leerlos, y aun mayor a armonizarlos. El problema de fechar los eventos primitivos no está limitado a las escrituras. La misma dificultad surge en el estudio de los babilonios, asirios, egipcios, o cualquier otro pueblo primitivo. Aún un evento tan reciente como el cumpleaños de Washington puede ser dado como Febrero 11, 1732 (estilo antiguo) o Febrero 22, 1732 (estilo nuevo) porque el calendario cambió durante su tiempo de vida.

Para confundir más el asunto, los pueblos antiguos tendían a decir, “En el año tercero del rey”, ocurrió este evento. ¡Pero espere, historiador antiguo, no conozco cuál rey ni cuándo vivió! O el profeta Amós dice que escribió su libro dos años antes del terremoto (Amós 1:1). Eso fue bueno para los días de Amós, pero ¿cuál terremoto? Ese terremoto no fue de magnitud mundial, de manera que los calendarios no son fechados desde el evento.

Tomemos otro ejemplo. Todos los gobernadores de Egipto tomaron el título de Faraón cuando llegaron al trono. De esta manera fue un Faraón quien exaltó a José. Fue Faraón quien oprimió a los descendientes de José. Moisés creció en el palacio de Faraón. Ese Faraón murió, y otro Faraón llegó al trono. El que se opuso a dejar ir a los israelitas de su tierra. Pero, Moisés, ¿cuál Faraón estuvo en cada uno de estos casos? Hubo al menos 300 dinastías egipcias durante el curso de la historia bíblica, y cada dinastía incluyó varios reyes individuales. El nombre personal de aún uno de ellos ayudará en las fechas de Exodo. Quizás podríamos mirar en los registros egipcios. Su tierra es tan seca que hay una enorme cantidad de material aún en existencia hablándonos de su historia. ¡Pero ellos decidieron no registrar su humillación a manos de los esclavos! ¡Allí estamos estancados de nuevo!

Los arqueólogos han hecho muchos descubrimientos a través de los años. La ciudad de Ur ha sido encontrada, aunque fue destruida hace miles de años. La ciudad de Harán ha sido encontrada. Hebrón aún existe. Abraham vivió en cada uno de estos lugares, de manera que no debería ser difícil fechar su vida, ¿verdad? Incorrecto. Estas ciudades existieron por siglos. Estamos dándole a los arqueólogos una tarea enorme cuando les pedimos que señalen con precisión un año exacto cuando cierta tribu nómada acampó junto al camino desde la baja Mesopotamia hasta Canaán. Es que estos fueron caminos bien transitados aún hace mucho.

¿Todo esto le ayuda a entender la complejidad del asunto? No es la fecha exacta lo que es importante, sino más bien el *evento* que ayudó a dar forma a la historia de la Biblia. Los escritores bíblicos no se esforzaron por la cronología de los eventos en la forma que nuestras mentes modernas pudieran querer. Ellos pudieron agrupar las historias de las batallas que un rey peleó aunque las batallas mismas ocurrieron en un reinado de quizás 50 años.

¿Estoy diciendo que no podemos confiar en la Biblia cuando menciona años, meses, o semanas? ¿Estoy diciendo que Matusalén pudo haber vivido 969 años o la mitad de los años en lugar de años completos como los entendemos (Gén. 5:25-27)? No. Ya hemos declarado que aún los calendarios más primitivos estaban basados en los años solares. Las semanas judías eran de siete días de duración (véase Ex. 16:26). Sus meses eran aproximadamente de la misma duración que los nuestros. Cuando Dios prometió alimentar a toda la compañía de israelitas con codornices por un mes, estaba prometiendo mandarles lo suficiente para que les durara aproximadamente 30 días como lo sería nuestro mes (Núm. 11:19-20).

Esto no es donde surge el problema de las fechas. Más bien, *¿qué tan largo era el año que está bajo consideración?* ¿Cuándo ocurrió el evento? A menudo, no hay forma de saberlo con seguridad. Nuestro énfasis en este estudio estará en el *orden* de los eventos, no en el *año* preciso en que ocurrió.

¿Estoy diciendo que no encontrará ningún estudio de cronología en algún libro? No. En absoluto. Encuentro el tema fascinante. Estoy diciendo que no repose su fe en alguna fecha que encuentre en algún atlas bíblico. Otros atlas, igual de bien documentados, pueden ofrecer excelentes argumentos para una fecha diferente, quizás una diferencia de doscientos o trescientos años.

Naturalmente, entre más cercano a nosotros el evento, más fácil es fecharlo. Por tanto, es el período de tiempo antes e incluyendo el éxodo desde Egipto el que es tan disputado. Después que los israelitas llegaron a ser nación, establecidos en su propia tierra, referencias se hacen a ellos en los registros históricos de los otros pueblos.

Mientras más uno cree la Biblia misma, más las fechas armonizan con los hechos bíblicos. Si usted encuentra un atlas que haga toda clase de observaciones para socavar su fe en los milagros, no se sorprenda de encontrar que el fechar de la historia, según ese autor, es muy diferente de la narración bíblica.

Hay una cosa crucial a observar en la cronología. Los modernistas tratan de manipular las fechas de los profetas para robarles su inspiración. Por ejemplo, algunos tratan de decir que los últimos capítulos de Isaías fueron escritos por algún autor desconocido durante la cautividad porque Isaías nombra al rey que permitió que los judíos volvieran a su tierra, y que ningún hombre pudo haber conocido esa información 200 años antes de que esto ocurriera. O, que la mitad de Daniel fue escrito durante los años después de Malaquías porque las descripciones de las luchas entre Siria y Egipto son demasiado detalladas para ser profecía. Similarmen- te, han sido hechos esfuerzos por fechar la escritura de las narrativas de los evangelios en el segundo siglo después de Cristo para permitir tiempo para que se desarrollaran y cristalizaran las tradiciones y leyendas. Para los modernistas, esto es todo lo que realmente contienen los evangelios. La Biblia vino directamente de la mano de Dios y *“los santos hombres de Dios hablaron siendo inspirados por el Espíritu Santo”* (2 Ped. 1:21). No se sienta temeroso de usar las ayudas bíblicas, pero léalas con discernimiento, porque usted dará cuenta a Dios por las cosas que cree.

En este punto de mi estudio, estoy convencido de que las generaciones en Génesis 5 y 11 son dadas para mostrar el *linaje* de Cristo, no para proporcionar una base para una cronología exacta. Permítame dar un ejemplo para probar el punto.

Compare la lista de las generaciones en Mateo 1 con el diagrama de los reyes de Judá. Cristo era del linaje real de la casa de David. Esto quiere decir que los reyes de Judá estaban en Su linaje. No obstante, Mateo 1 omite los nombres de Ocozías, Joas, Amazías y Joacim. ¿Por qué? El escritor estaba probando que Jesús era del linaje real de David, por tanto, del correcto linaje para ser del Mesías, pero no sintió necesario incluir cada generación para probar su punto. Por tanto, Génesis 5 nos dice que Noé vino a través del hijo de Adán, Set, antes que de Caín, Abel o algún otro hijo no mencionado. Génesis 11 nos dice que Abraham vino a través de Sem el hijo de Noé. Mateo 1 nos dice que Jesús vino a través de Abraham, Isaac, Jacob, Judá y David – cumpliendo de esta manera las promesas del Antiguo Testamento. Los escritores no estaban interesados en los años envueltos.

No damos nada al evolucionista cuando concedemos que el tiempo transcurrido ha sido unos pocos miles de años más de lo que pensamos antes. El necesita millones o aún billones de años para que funcionen sus teorías. Estoy convencido de que aquellas personas viviendo antes del Diluvio eran seres humanos normales e inteligentes. Sólo pienso que no conocemos los nombres de muchos de ellos.

Hay problemas similares en el Nuevo Testamento. Una dificultad es fácilmente diagnosticada. A menudo hay cuatro años de variación en las fechas dadas por autoridades diferentes para el mismo evento. El establecimiento de la iglesia puede haber sido en el 29 D.C. o en el 33 D.C. La conversión de Saulo sería dada como el 31 D.C. o el 35 D.C. Este problema es causado por la investigación de un hombre que vivió 500 años después de Cristo.

Dionisio Exiguus ideó un sistema de cronología basado en el nacimiento de Jesús como el punto decisivo del tiempo. En su sistema, el tiempo antes de Cristo es designado A.C. (antes de Cristo). El tiempo desde Cristo es A.D. (Año Domini, o Año de Nuestro Señor). La idea era grandiosa. No obstante, Dionisio, erró en sus cálculos con respecto a la muerte de Herodes y al nacimiento de Jesús. Es evidente de la narración del evangelio que Cristo nació *antes* de la muerte de Herodes el Grande por quizás tanto como dos años (Mat. 2:16). No obstante, de las varias líneas de evidencia histórica, Herodes murió en el 4 A.C. según el sistema de Dionisio. Esta discrepancia en los cálculos de Dionisio no tiene nada que ver la integridad de la Biblia misma.

Por tanto, en lugar de nacer Jesús el primer día del 1 D.C., y de morir en el 33 D.C., nació en el 4-6 A.C. y murió en el 29 D.C. La iglesia fue establecida unas pocas semanas después en el 29 D.C., y Pablo fue convertido en el 31 D.C. En cuanto a la fecha que se usa, esto depende de si la persona está tratando de ser exacto al dar una de estas fechas, o si está tratando de dar un tiempo aproximado basado en la edad de Jesús.

Hay en existencia registros confiables para la cronología de los gobernadores romanos durante el primer siglo. Nombres tales como Augusto César, Tiberio, y Claudio aparecen en el Nuevo Testamento junto con los gobernadores menores tales como Agripa, Gallo, Felix, y otros. Sirven como postes de enganche a los cuales podemos atar los eventos del Nuevo Testamento. La principal ventaja en fechar las epístolas y los otros libros es para poder colocarlos en su marco original para ver los problemas que las personas estaban enfrentando al momento, de manera que podamos aplicar los principios mas fácilmente a nuestros propios problemas. Por supuesto, las lecciones enseñadas son independientes del tiempo.

Debajo hay un diagrama mostrando la línea de tiempo aproximado de los eventos bíblicos armonizados tan bien como los conozco con los hechos históricos conocidos. Lo mío ciertamente no es original. Comprenda que este diagrama no es mas infalible que cualquier otro diagrama que usted pueda ver. Por otro lado, comprenda que el diagrama más hermoso que usted pueda ver en algún libro mas costoso no es mas exacto que el mío.

Mire atrás a esta línea de tiempo frecuentemente a medida que estudie los períodos de la historia de la Biblia.

## Línea del Tiempo de los Eventos Primitivos

Eventos Bíblicos	Fechas		Eventos Mundiales
	Antes de Cristo		
La creación		?	
El primer pecado		?	
Primeros pueblos		?	
El diluvio		?	
La Torre de Babel		?	
		3500-2500	Sumerios primitivos Egipcios primitivos Cananeos en Canaán Conflictos entre Sumer y Acad Las pirámides de Egipto son construidas, una nación floreciente
		2000	Los amorreos, horitas, hititas, Egipcios, etc., comercian libremente con Mesopotamia
Abraham deja Ur (la fecha es muy incierta)		2000-1900	12 <sup>ava</sup> dinastía de Egipto
		1720	Los Hicsos invasores ganan el control de Egipto. Son introducidos los caballos y los carros.
José sube al poder en Egipto		c.1700	Hamurabi de Babilonia en el poder. Su código de ley ha sido encontrado.
Empieza la esclavitud israelita		1570-1550	Los gobernantes Hicsos son echados de Egipto. La nueva dinastía oprimió a todo el pueblo semita viviendo en el delta del Nilo.
El éxodo desde Egipto. Las fechas muy disputadas. Véase Gén. 15:13-14; Ex. 12:40-41; 1 Reyes 6:1; Gál. 3:16-17. Buenos argumentos hechos para ambas fechas. Las fechas más tempranas se ajustan mejor a los pasajes bíblicos.		Dos fechas dadas: 1441 1290	
Conquista de Canaán		1400 o 1250 (véase arriba)	
Período de los Jueces Tiempo calculado para incluir a Moisés a través de Samuel. Véase Hch. 13:19-20.		1441-1020 o 1290-1020	Asiria fuerte por un tiempo, pero no tocó directamente a Palestina. Se debilitó de nuevo por algunos años.
Saúl, el primer rey David Salomón		1040?-1000 1000-961 961-922	Asiria se levanta de nuevo al poder
El reino de Israel se divide Jehú de Israel paga tributo a Asiria		922 825	
		753 721	La ciudad de Roma es fundada
Caída de Samaria a los asirios Asiria invade Judá, ellos pagan tributo		701 612	Caída de Asiria. Babilonia gana el control del imperio. Nabuconodador es el que dirige, primero como general, luego como rey.
Nabucodonosor toma primeros cautivos de Jerusalén (días de Joacim)		606	
Son tomados mas cautivos (días de Joacim)		597	



<b>Eventos Bíblicos</b>	<b>Fechas</b>	<b>Eventos Mundiales</b>
	<b>Antes de Cristo</b>	
Caída de Jerusalén a Babilonia	586	Caída de Babilonia.
Cautividad babilónica	606-536	Persia gana el control del imperio.
	539	Un edicto persa permitiendo a todos los pueblos desplazados retornar a su tierra natal.
	538	
Los judíos retornan para reconstruir el templo bajo Zorobabel	536	
El templo es terminado	516	
Ester Salva a su pueblo en Persia	500-475	
Esdras ayuda a restaurar la adoración fiel	460-450?	
Nehemías reconstruye los muros de Jerusalén	c.445	
Malaquías, el último profeta	445-432	
	336-323	Alejandro el Grande derrota a los persas. El imperio griego se divide en tres partes principales.
	300	Roma crece rápidamente en poder. Conquistando primero hacia el norte y al occidente.
Los judíos atrapados en la lucha por el poder entre Siria y Egipto	c.300-100	
	280	El Antiguo Testamento traducido al Griego.
Los judíos rebelan contra Siria bajo Judas Macabeo	167-161	
	100	Roma crece como amenaza para Siria y Palestina
	63	
Jerusalén cae a los romanos	40-4	
Herodes el Grande gobierna como Rey de Palestina	27	Augusto César inicia su gobierno (27 A.C.–14 D.C)
Nacimiento de Cristo	4-6 A.C.	
<b>El Tiempo es Llamado D.C. después de este punto</b>		
	14	
La iglesia es establecida	c.29	Tiberio empieza su reinado (14-37)
Los judíos persiguen a los cristianos		
Esteban apedreado		
Conversión de Saulo de Tarso	31	
Conversión de Cornelio	37	Calígula se convierte en emperador (37-41)
	39	Herodes Agripa I nombrado rey de Judea y Samaria
	41	Herodes Antipas desterrado a Lugdunum (Lyon), Galia.
Persecución por Agripa I.	44	Claudio sucede a Calígula (41-54)
Jacobo decapitado		Muere Agripa I
Pedro encarcelado		
Primer viaje de predicación de Pablo		
Concilio apostólico en Jerusalén	c.49-50	
	51	Antonio Felix nombrad Procurador
	52	Claudio expulsó a todos los judíos de Roma.
Segundo viaje misionero	c.52-54	
Son escritos 1 & 2 Tesalonicenses	54	Nerón se convierte en emperador (54-68)
Tercer viaje misionero	c.54-58	
Son escritos, Gálatas, 1 & 2 Corintios, Romanos		
Pablo trae ofrenda para Jerusalén.	c.58-60	
Encarcelado 2 años en Cesarea.		
Lucas escribió probablemente la mayoría de Hechos en este tiempo.		
Pablo aparece ante Festo, Apela a Cesar.	60	Porcio Festo Procurador de Judea
Viaje a Roma		

Eventos Bíblicos	Fechas	
	Antes de Cristo	Eventos Mundiales
Pablo encarcelado en Roma 2 años. Son escritos Filipenses, Efesios, Colosenses, Filemón	c.61-63	
Muerte de Jacobo el hermano de Jesús La carta de Santiago data del 44-62	62	Muerte de Festo antes de la muerte de Jacobo
Pablo liberado de la prisión Son escritos 1 Timoteo, Tito	c.63	
	64	Gran incendio de Roma Primera persecución romana de la iglesia
Son escritas la carta a los Hebreos, 1 Pedro, Judas, 2 Pedro Son escritos, Mateo, Marcos, Lucas	c.60-70	
Segundo encarcelamiento de Pablo Es escrita 2 Timoteo		
Pablo y Pedro muertos en Roma	c.65-67	
	66	Inicio de la gran guerra entre los romanos y judíos
	68	Muerte de los emperadores Nerón, Galba, Otón, Vitelio en el mismo año.
	69	Vespasiano se convierte en el único emperador (69- 79).
Destrucción de Jerusalén	70	
	79	Erupción del Vesubio. Destrucción de Pompeya
Evangelio de Juan Son escritas sus tres epístolas	c.80-90	
	81	Domiciano empieza su gobierno (81-96)
Severa persecución romana a los cristianos Juan escribe Apocalipsis desde Patmos	96	Nerva sucede a Domiciano (96-98)
	98	Trajano se convierte en emperador
Muerte de Juan el apóstol	c.98-100	

## Hoja de Trabajo

- ¿Que evento de toda la historia marca el punto de partida del calendario que usamos hoy día? \_\_\_\_\_
- Puesto que esto se vuelve más largo desde el tiempo de Cristo, ¿los números por los años se vuelven más grandes o más pequeños? \_\_\_\_\_
- ¿Qué año es ahora? ¿Qué significa esta figura con relación al nacimiento de Cristo? \_\_\_\_\_
- ¿Los números por los años se vuelven más grandes o más pequeños a medida que vamos más *adelante* del nacimiento de Cristo? \_\_\_\_\_
- ¿Qué significa A.C.? \_\_\_\_\_  
¿Qué significa A.D.? \_\_\_\_\_
- ¿Qué queremos decir cuando decimos que un evento ocurrió en el 721 A.C.? \_\_\_\_\_
- ¿Cuál es la fecha más temprana: 1900 A.C. o 63 A.C.? \_\_\_\_\_
- Encuentre la fecha para estos eventos en su diagrama:

El reinado de David como rey	_____
La caída de Samaria a los asirios	_____
La caída de Jerusalén a Babilonia	_____
El primer retorno de la cautividad	_____
El último profeta del Antiguo Testamento	_____
La iglesia establecida	_____
Los romanos iniciaron la persecución de los cristianos	_____

## Lección 9

### LA HISTORIA Y LA GEOGRAFÍA BÍBLICA CORRELACIONADA

## El Libro de los Inicios

*Génesis 1-11*

*(Los pasajes están en Génesis a no ser que se especifique de otra manera)*

Ahora que hemos observado brevemente todas las tierras bíblicas, regresemos al libro del Génesis y ajustemos la historia bíblica a las tierras que hemos estudiado. Recuerde que cada evento ocurrió *en alguna parte*. Recuerde también que ningún lugar es importante en y por sí mismo. Más bien el lugar gana su importancia a causa de los eventos que ocurrieron allí. No obstante, a su vez las personas fueron afectadas por el asentamiento geográfico en que vivieron.

Esta lección es un resumen de los primeros 11 capítulos del Génesis. Desde este punto en nuestro estudio, habrá espacios en blanco a través del texto para que el estudiante lo llene con el nombre del lugar bajo consideración. Es manejado en esta forma para ayudar que la experiencia de aprendizaje sea más efectiva. Lea primero el capítulo para obtener una visión de la historia descrita; luego use su Biblia para llenar los espacios en blanco. Trate de localizar cada lugar a medida que llegue a éste en el estudio y márkelo en su mapa. Todos los pasajes dados en este capítulo son encontrados en Génesis a no ser que se especifique de otra manera.

#### Mapa #3 — El Mundo Antiguo

**Marque y numere su mapa. Marque las direcciones.**

**Nótese que su mapa cubre mucho menos territorio que el mapa coloreado porque nos hemos concentrado en la porción particular que toca directamente la historia bíblica.**

**Compare su mapa con el mapa coloreado hasta que pueda ver exactamente qué porción cubre su mapa.**

**Localice los cuerpos de agua principales y píntelos de azul:**

**Mar Mediterráneo**

**Mar Caspio**

**Golfo Pérsico**

**Mar Rojo**

**Mar Negro**

**Marque cada lugar cuando aparezca en el texto.**

#### La Historia Comienza

Dios dio al hombre su primer hogar. El Huerto del Edén debe de haber sido hermoso con sus árboles de todas las clases. No había espinas para echar a perder su belleza. Debe de haber sido grande porque cuatro ríos corrían a través de éste: el \_\_\_\_\_, el \_\_\_\_\_, el \_\_\_\_\_, y el \_\_\_\_\_ (2:10-14). Ya no hay los ríos llamados el Pisón o Gihón. El Hidekel es mejor conocido por el nombre que tuvo después del Diluvio, el Tigris. No podemos señalar con precisión la ubicación del Huerto del Edén más allá de decir que debe de haber estado en Mesopotamia.

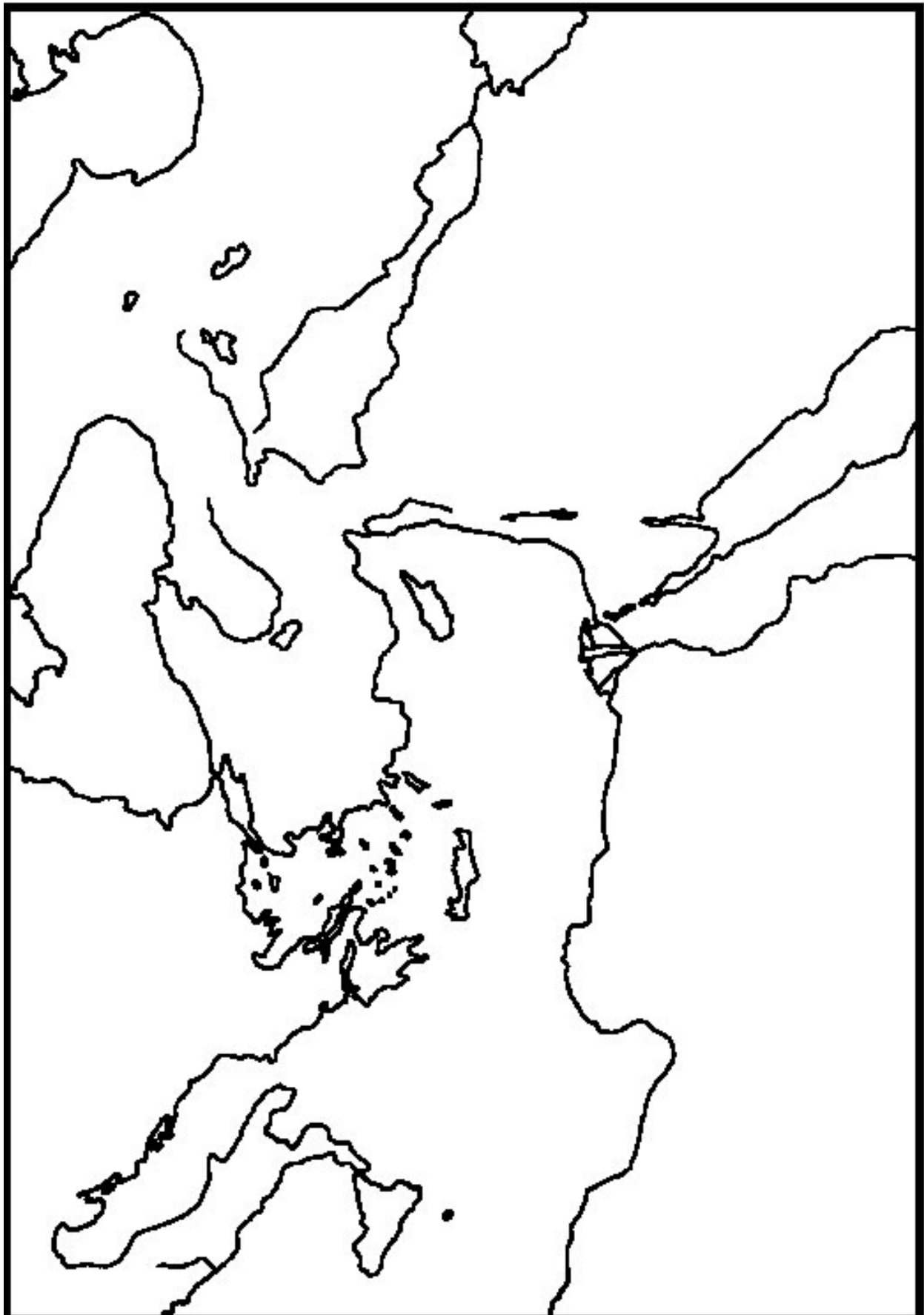
**Marque los Ríos Tigris y Eufrates. Escriba Huerto del Edén en el valle entre ellos seguido de un signo de interrogación para mostrar que su sitio exacto es incierto.**

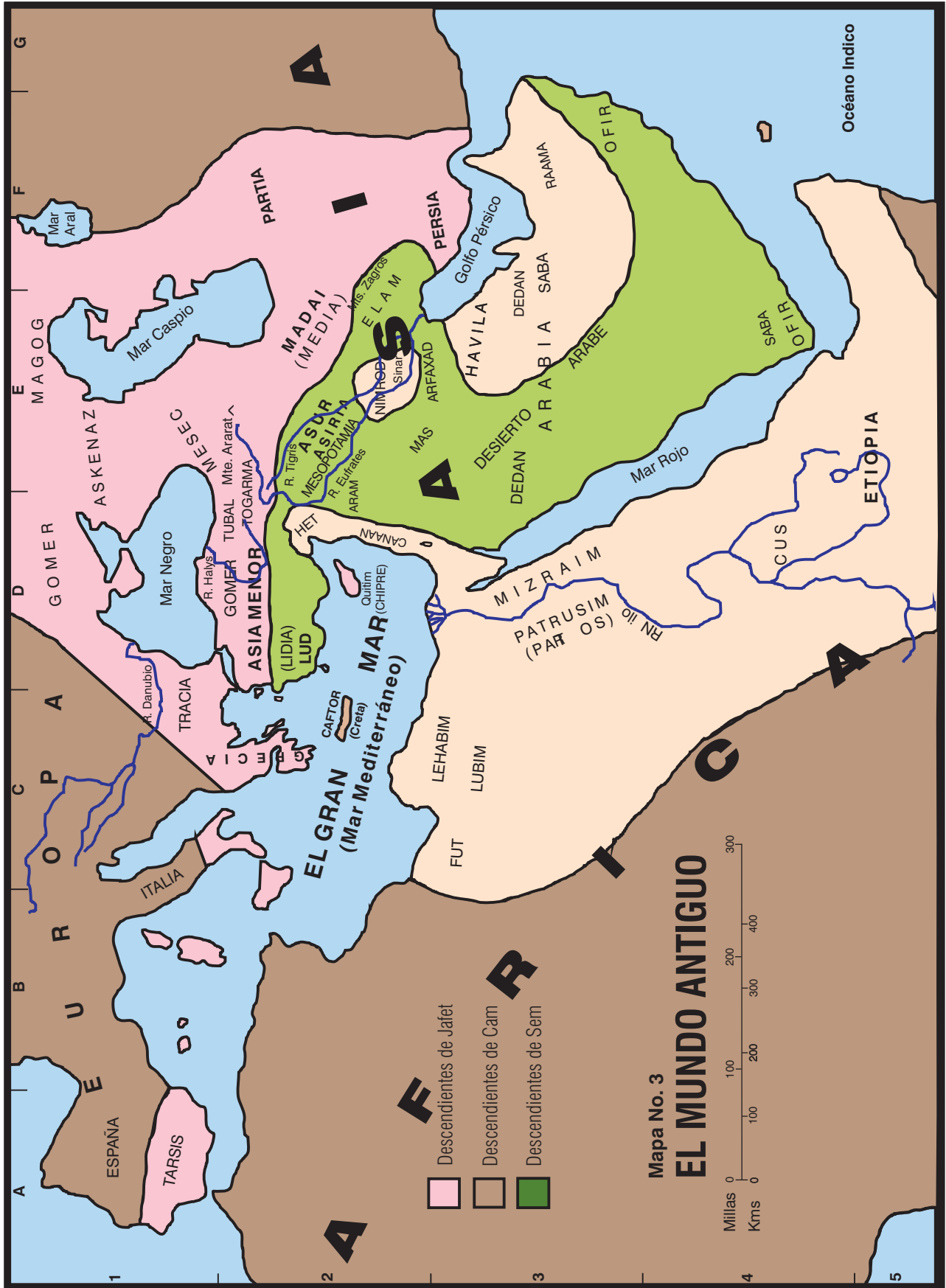
Adán y Eva pecaron y fueron expulsados del Huerto. Su hijo Caín mató a su hermano y fue arrojado de su familia. Habitó en la tierra de \_\_\_\_\_ (4:16), al oriente de Edén. (Ubicación desconocida).

La población creció y las personas se fueron por caminos separados. La Biblia no nos dice casi nada acerca de este temprano período. El Diluvio borró toda señal de vida, de manera que aún los arqueólogos han sido incapaces de descubrir información de la era. Muchos años pasaron en los primeros cinco capítulos del Génesis.

La humanidad se volvió tan impía que Dios se afligió de haber hecho al hombre y decidió enviar un diluvio para destruir al mundo. No obstante, Dios halló a Noé, recto en todas sus actividades y le mostró Su misericordia por medio de ofrecerle a él y a su familia una vía de escape. El diluvio llegó, y las aguas subieron 15 codos por encima de las cimas de las montañas. La única vida de que se tuvo piedad estaba dentro del arca que Noé había construido. El arca flotó 150 días antes de reposar en los \_\_\_\_\_ de \_\_\_\_\_ (8:4).

Dios se acordó de Noé y su familia y envió un viento fuerte para que secara las aguas de la superficie de





la tierra. Noé salió del arca un año y diez días después de que había entrado en ella.

Los montes de Ararat son altos y escarpados, de manera que las personas bajaron por las laderas. Naturalmente, el rico valle entre los ríos Tigris y Eufrates era la tierra más atractiva a la vista.

El tiempo pasó y las personas se multiplicaron de nuevo. Ellos continuaron moviéndose en el valle hasta que llegaron a una llanura que llamaron \_\_\_\_\_ (11:2). Aquí decidieron construir una ciudad incluyendo una torre inmensa. Esperaban que la torre los guardara de ser esparcidos sobre la faz de todo el mundo.

El plan de la gente estaba en conflicto directo con el mandamiento de Dios porque El les había dicho que se multiplicaran y llenaran la tierra. Dios desbarató sus planes a pesar de su rechazo en escucharlo. El descendió y confundió su lengua. De esta manera los obreros hubieran terminado la obra de un día entendiendo cada uno la conversación del otro sin ningún problema. El día siguiente, para su sorpresa, ¡cada uno estaba hablando un idioma diferente! La naturaleza humana no ha cambiado, de manera que cada persona hubiera buscado a los otros que compartían su lenguaje. Gradualmente, los grupos se separaron y movieron aparte.

### **¿Has marcado el Ararat y Sinar?**

Noé tenía tres hijos – Sem, Cam, y Jafet. Durante estos primeros años, ellos habrían sido las cabezas de las familias o tribus que desarrollaron. Estas tribus tendieron a moverse en direcciones diferentes con algún traslapado. Tomemos un momento y miremos dónde se asentaron los descendientes de cada hijo.

Los descendientes de Jafet son los primeros en ser anotados en Génesis 10. Estas eran las personas más remotas de la historia bíblica. Algunas de las tribus mencionadas dejaron de existir o fueron absorbidas hace tanto tiempo que los eruditos solamente pueden adivinar en dónde habían vivido en otro tiempo. Los montes del Ararat marcaron la frontera sureña aproximada del territorio de Jafet. Desde allí, las tribus se movieron al norte del Mar Caspio y el Mar Negro en lo que es ahora la margen de Rusia. Se movieron al occidente hacia la mitad norteña de Asia Menor, hacia Grecia, Italia, y hacia lo que ahora es España. La isla más tarde conocida como Chipre (Quitim) parece haber sido también de ellos. Al oriente, formaron los pueblos conocidos más tarde como los Medos, los Persas, y los Partos. Si fuera posible trazar nuestro linaje atrás hasta los hijos de Noé, la mayoría de nosotros probablemente venimos a través de Jafet porque las tribus europeas se desarrollaron de sus descendientes.

**Coloree de rosado el territorio de Jafet. Marque Media, Persia, Partia, Grecia, Chipre, y trace una flecha al lado izquierdo de su mapa señalando a Tarsis que es pensado que es la actual España.**

Los descendientes de Cam jugaron un papel primario en la historia del valle de la Mesopotamia. Un hombre llamado Nimrod surgió al poder en la llanura de Sinar. Le es dado el crédito por el establecimiento muy temprano de un imperio en Babilonia extendiéndose hasta el límite nordeste de la llanura hasta incluir Nínive.

No obstante, después de esta temprana muestra de fortaleza en Mesopotamia, los descendientes de Cam se trasladaron hacia el sudoeste. Cuatro hijos de Cam son nombrados: Cus, Mizraim, Fut y Canaán. Se piensa que Cus se refiere a Etiopía que era la región al sur de la Primera Catarata del Nilo en Africa. Mizraim es el nombre hebreo para Egipto. Los moradores de la isla de Creta también vinieron a través de esta ramificación de la familia (Caphthorim). Estos son los que más tarde invadieron Canaán como los filisteos. Los descendientes de Fut no son descritos más, y no sabemos dónde se establecieron a no ser que fuera en las áreas del Africa occidental de Egipto.

El cuarto hijo de Cam, Canaán, es el más estrechamente conectado a los personajes principales de la historia bíblica. Canaán fue maldecido por Noé en una ocasión cuando Cam se burló de su padre. A Cam se le dijo que su hijo Canaán serviría a sus hermanos (9:18-27). En efecto, los cananeos se establecieron en la fértil franja de la tierra que se coloca entre el Mar Mediterráneo y el Desierto Árabe. Esta era la tierra exacta que más tarde Dios tomaría de Canaán y la daría a los israelitas, los descendientes de Sem. Uno de los hijos de Canaán fue Het, se pensó que es el antepasado de los heteos. El centro antiguo del poder heteo estaba en el río Halys en la parte central de Asia Menor.


**Coloree de amarillo el territorio de Cam. Marque Egipto, Canaán, Etiopía, Fut, Creta, y el reino heteo. Trace una línea punteada alrededor de Canaán en vista de que es la región que estaremos notando más cuidadosamente a través de nuestro estudio.**

Parte de los descendientes de Sem permanecieron en el valle de Mesopotamia mientras que los otros se trasladaron a Arabia. Las naciones tales como Elam, Asiria, y Babilonia son todas de origen Semita. Las ciudades-estado de Aram y las grandes tribus árabes todas se ajustan dentro de este mismo grupo familiar. Los israelitas, moabitas, amonitas y edomitas son todas naciones pequeñas saliendo de Sem, a través de un hombre llamado Taré.

En vista de que la historia bíblica trata más de cerca con los descendientes de Sem, esperamos estudiar más detalles acerca de cada una de estas naciones hasta que las encontremos en la historia.

**Coloree de verde el territorio de Sem. Marque Asiria, Aram, Elam, y Arabia.**

El siguiente diagrama es una lista parcial de las personas mencionadas en Génesis 10. Estos son los particulares que juegan una parte en la historia bíblica.



El tiempo pasó y la población no fue dividida mas acorde a cuál hijo de Noé fue el antepasado. Más bien, surgen distintas naciones que pelearon contra sus vecinos y tomaron sus territorios. Cada ciudad-estado tomó y sostuvo su territorio por la fuerza militar como lo han hecho todas las naciones desde entonces.

Como observamos hacia atrás en la historia temprana de las naciones, los términos camitas (descendientes de Cam) y semitas (descendientes de Sem) toman nuevas connotaciones. Como ya hemos declarado, los descendientes de Jafet se movieron en direcciones apartadas de sus hermanos. Establecieron su propia cultura distinta y patrones de lenguaje. La mayoría de los descendientes de Cam se trasladaron al Africa y desarrollaron su cultura distinta con lenguajes ajustándose en un amplio estilo camita.

Sin embargo, nótese que hubo una mezcla de pueblos en la porción de la tierra de los Montes Zagros al oriente del Río Tigris llegando hasta el occidente al Mar Mediterráneo, e incluyendo el Desierto Árábigo. Como una tribu sometía a otra, y como vivieron bastante juntos, absorbieron mucho de los mismos modelos de cultura y lenguaje. Por tanto, este diverso grupo de personas cuyos lenguajes estaban relacionados, son llamados semitas en contraste al pueblo camita de Africa.

Por consiguiente, en los atlas bíblicos, usted verá a los cananeos mencionados como semitas aunque Génesis 10 claramente los menciona como descendientes de Cam. O, en otro libro de referencia, usted podrá ver a los hebreos mencionados como cananeos aunque ellos son definitivamente descendientes de Sem. Recuerde que cada uno de estos términos se refiere a las normas comunes de sus idiomas y estilos de vida antes que a líneas sanguíneas.

Tengamos la fe suficiente en la providencia de Dios para creer que Dios cumplió Sus promesas. Los descendientes particulares de Cam que Dios tuvo la intención de maldecir  *fueron* maldecidos. Dios no se confundió por cuál lenguaje ellos hablaron. Usaremos el término “semita” para referirnos a los pueblos de la región Mesopotamia-Arabe-Cananeo como lo hacen los atlas. No obstante, en ninguna forma estaremos tratando de socavar las predicciones de Dios.

## Lección 10

# Las Promesas a Abraham

Génesis 11:27–25:10

(Los pasajes están en Génesis a no ser que se especifique de otra manera)

Hubo muchos, muchos pueblos en existencia para el 2.000 A.C. Naciones ya se habían levantado y caído. Las pirámides de Egipto ya habían sido construidas. En efecto, Egipto ya estaba siendo gobernado por su doceava dinastía para esa fecha. Tome un mapa nuevo y mire las condiciones del mundo en los días de los Patriarcas.

### Mapa #4 – El Mundo de los Patriarcas

Marque y numere su mapa. Marque las direcciones.  
Coloree los mares.

Marque lo siguiente:

Sumeria	Canaán	Montes Ararat
Elam	Mari	Reino Hitita
Akkad	Nínive	Aram
Babilonia	Desierto Arábigo	Montes Zagros

Egipto

Encuentra cada lugar nuevo a medida que lo estudie en el texto.

Compare sus Mapas #3 y #4. Ahora compare los Mapas #2 y #4. ¿Ves que el Mapa #4 ha alargado la sección que coloreaste de verde en el Mapa #2?

Durante todos los años desde la Creación, Dios había tratado con todos los hombres de la misma forma. Bendijo a los justos y mostró Su desaprobación hacia los impíos. Finalmente, llegó el día cuando decidió separar un hombre a través de quien cumpliría Su promesa. Llamó a un hombre llamado Abram, más tarde lo llamó Abraham, y le dijo que dejara su familia y se fuera a una tierra nueva.

En este tiempo, Abraham estaba viviendo en \_\_\_\_\_ de los \_\_\_\_\_ (11:31), una de las ciudades-estado de Sumeria. Ur es un buen ejemplo de una ciudad primitiva. Allí han sido hechas excavaciones en grande escala. Ahora es evidente que ella era una de las ciudades más grandes y progresivas del mundo antiguo. Algunos eruditos calculan que su población fue tan grande como aproximadamente un cuarto de millón. Habían elaborado un sistema de escritura, medios avanzados de cálculos matemáticos, registros religiosos, refinadas muestras de arte, un sistema escolar, y muchas otras cosas que el hombre encuentra necesarias para la civilización. Aparentemente Abraham asistió a la escuela y fue enseñado a leer, escribir, y a tener un oficio. Puede parecer extraño para nosotros dejar las comodidades de una ciudad para tomar un vida nómada como él lo hizo. Lea Hebreos 11:8-10 para encontrar una explicación para sus acciones.

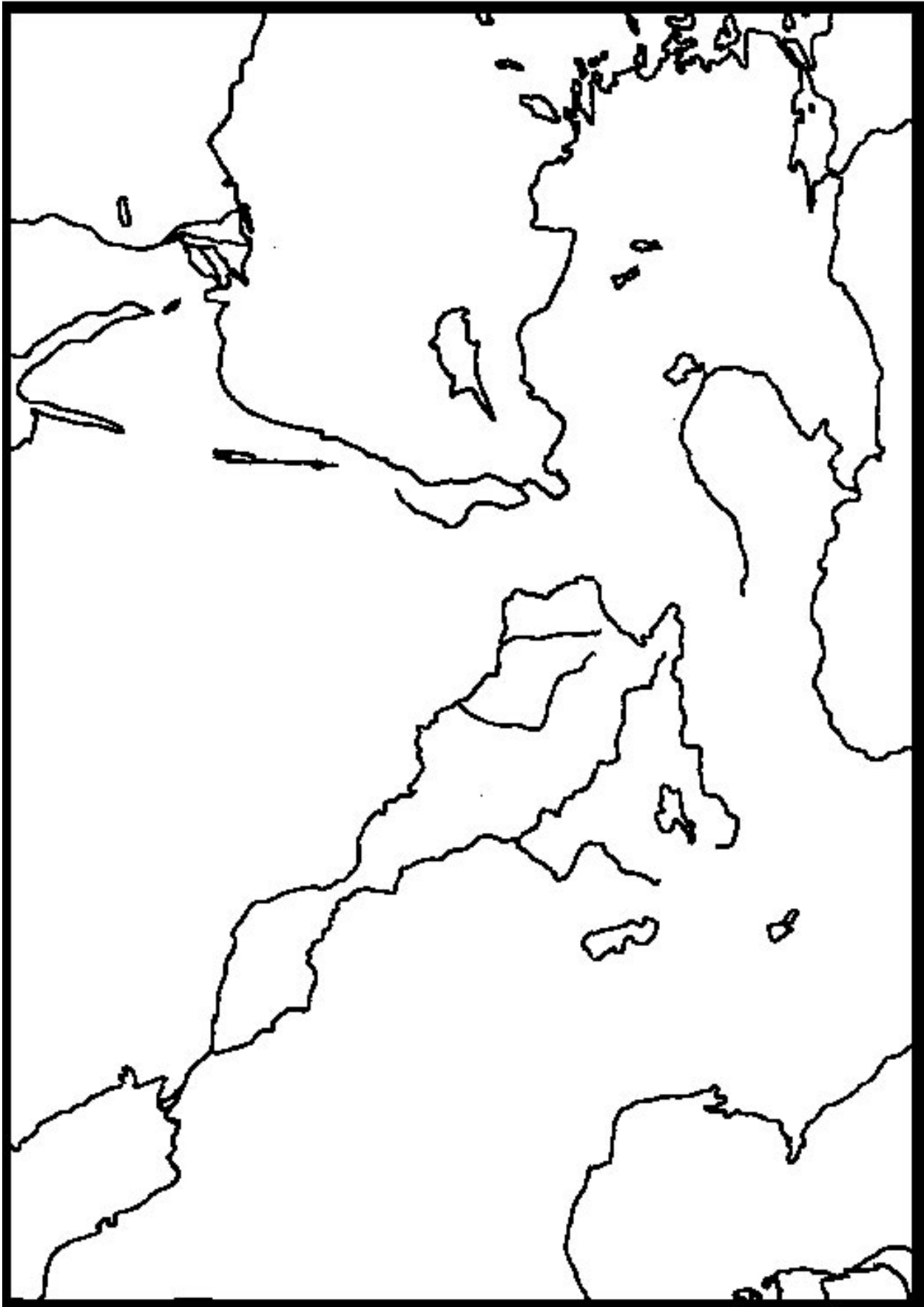
Fue aproximadamente 1900 ó 2000 años antes de que Cristo naciera cuando Dios le dijo a Abraham que dejara su hogar para ir *“a la tierra que te mostraré”* (12:1). El y su familia dejaron inmediatamente Ur sin cuestionar y viajaron aproximadamente 965 kilómetros (600 millas) al noroeste hasta que llegaron a la ciudad de \_\_\_\_\_ (11:31). Este era una importante plaza comercial de su día en el área llamada Padán-Aram. El hermano de Abraham, Nacor, se estableció allí permanentemente. Al mandato de Dios, Abraham dejó Harán y viajó a la pequeña tierra de \_\_\_\_\_ (12:5), aproximadamente 643 kilómetros (400 millas).

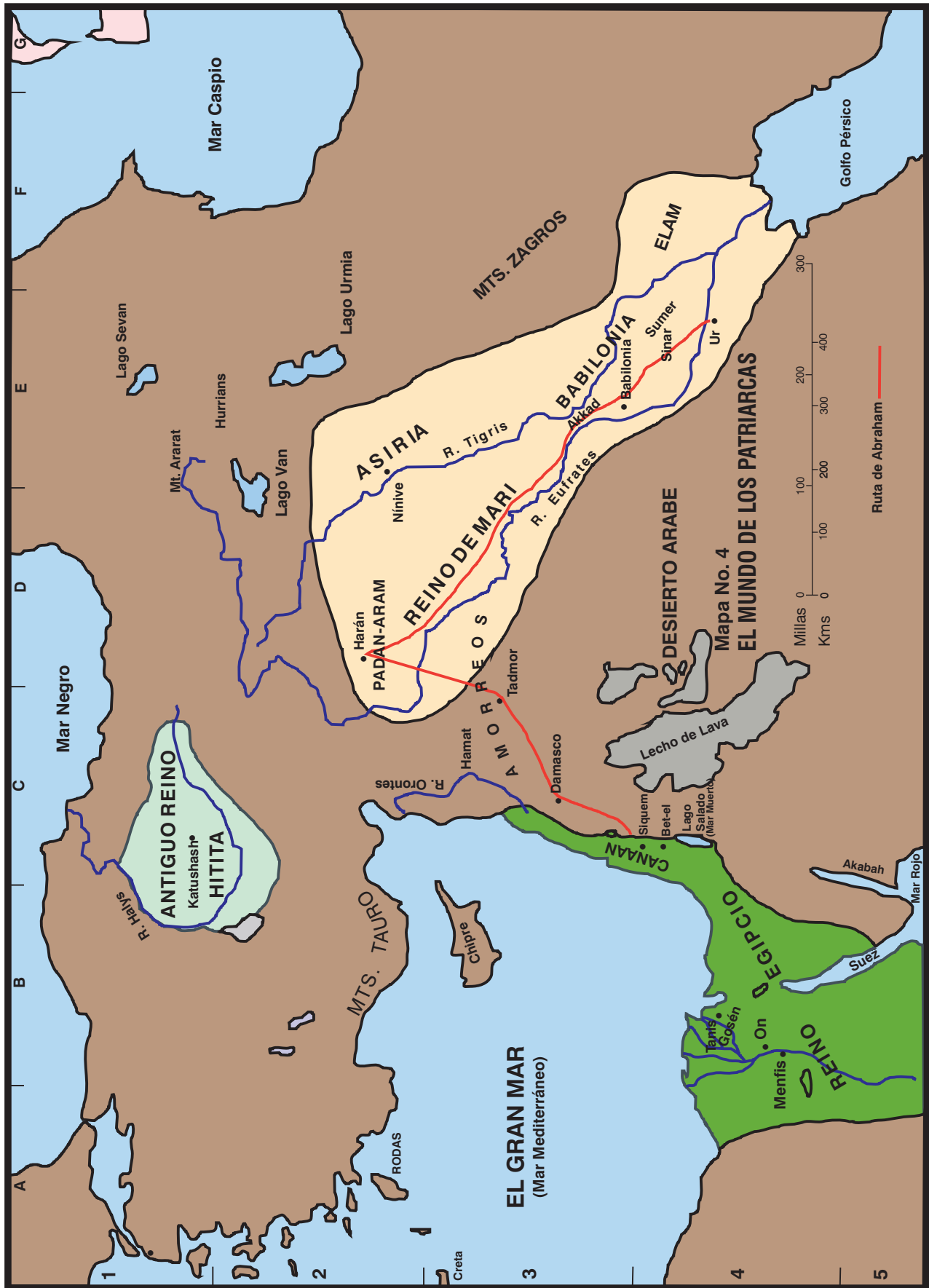
La Biblia no nos dice la ruta exacta que tomó Abraham a medida que hizo su viaje desde Harán hasta Canaán. Casi con certeza el siguió las rutas comerciales de su día, dirigiéndose desde Harán al sur hasta Tadmor y del sudoeste hasta Damasco. Desde Damasco, tuvo al menos tres elecciones. Pudo haber seguido el camino que bordeaba la base del Monte Hermón y cruzaba el río Jordán al norte del Lago de Hulé, cerca de la fuente del río. Una segunda ruta cruzaba el Jordán cerca de 9.6 kilómetros (6 millas) al norte del Mar de Galilea. Esta era quizás la ruta comercial más transitada. Se unía a la primera ruta occidental del río y hacia su camino a través de Canaán y descendía la llanura costera hasta Egipto, el Camino del Mar.

La tercera elección de Abraham fue viajar por el Camino del Rey al lado oriental del Jordán y tomar cualquiera de las rutas menores que cruzaban el río en algún punto vadeado. Esta es la ruta que parece más lógica, porque su primer lugar de acampamento en la tierra fue \_\_\_\_\_ (12:6) en el centro de la tierra. Por tanto, nuestro mapa muestra su probable ruta, avanzando hacia el sur desde Damasco hasta que llegó al río Jaboc y luego volviéndose casi derecho hacia el oeste y cruzando el Jordán cerca del punto donde Jaboc entra al río. Desde el Jordán, se trasladó del Uadi-Fari hasta Siquem.

Dios prometió hacer una gran nación de los descendientes de Abraham. Le dijo que todas las naciones de







la tierra serían benditas a través de Uno que saldría de esa nación (Gén. 12:1-3; véase también Gál. 3:16). Ahora, en \_\_\_\_\_ (12:6-7), Dios prometió darle la tierra de Canaán a esa nación. Abraham mismo nunca poseyó un centímetro de la tierra excepto la cueva que compró en la que sepultó a su esposa Sara, aún así su fe nunca tambaleó en el poder de Dios para guardar Sus promesas (15:6). *Toda la porción restante de la Biblia es la historia del cumplimiento de estas tres promesas: la nación, la tierra, y Aquel que bendeciría a todas las naciones.*

En ese tiempo la tierra estaba habitada por un grupo de tribus colectivamente llamadas los cananeos o los amorreos (véase 10:6,15-19). Adoraban los dioses de la fertilidad llamados Baal, con su contraparte femenina llamado Astoret entre otros nombres. Dios le dijo a Abraham que algún día expulsaría a los amorreos, porque “*aún no ha llegado a su colmo la maldad ...*” (15:16).

La riqueza de Abraham consistía en gran parte de ganado y ovejas. En vista de que la tierra no estaba muy poblada, pudo moverse de un área a otra cuando la hierba empezaba a escasear. Después de algún tiempo en Siquem, se trasladó 32 kilómetros abajo (20 millas) al campo central de las montañas e instaló su tienda entre \_\_\_\_\_ al occidente y \_\_\_\_\_ al oriente (12:8). Gradualmente se trasladó más al sur hasta que estuvo acampando en la margen del \_\_\_\_\_ (12:9). Otras versiones lo llaman “al sur”, pero nuestro mapa de los rasgos físicos nos dice cómo era llamado este país al sur semi-desierto.

Surgió un hambre en la tierra y Abraham tomó su familia a \_\_\_\_\_ (12:10), aproximadamente 321 kilómetros (200 millas). El y Sara estaban viajando como hermano y hermana porque él temía que alguien pudiera matarlo para tenerla a ella (véase 12:10-20; 20:1-18). Faraón le ordenó a Abraham que dejara su tierra cuando se enteró del engaño.

Abraham retornó a \_\_\_\_\_ (13:3) en la región montañosa central.

**Trace una línea punteada alrededor de la tierra de Canaán. Haga una línea roja trazando el viaje de Abraham desde Ur hasta Harán, hasta Canaán, hasta Egipto, y regresando a Canaán.**

Ya hemos llenado dos mapas en nuestro estudio de la historia y geografía bíblica correlacionada, pero solamente nos han llevado a través de Génesis 12. El resto del libro continúa la historia de Abraham en la tierra de Canaán, seguido por las historias de Isaac, Jacob, y José. El mapa del Mundo de los Patriarcas (#4) incluye el territorio de Canaán, pero es una descripción muy pequeña en esa escala. Necesitamos un mapa más grande para mostrar los detalles.

#### **Mapa #5 – Canaán, En los Días de los Patriarcas**

**Marque y numere su mapa. Marque las direcciones.**

**Marque y coloree el Mar Mediterráneo.**

**Marque los lugares que ya hemos estudiado:**

**Siquem**

**Betel**

**Neguev**

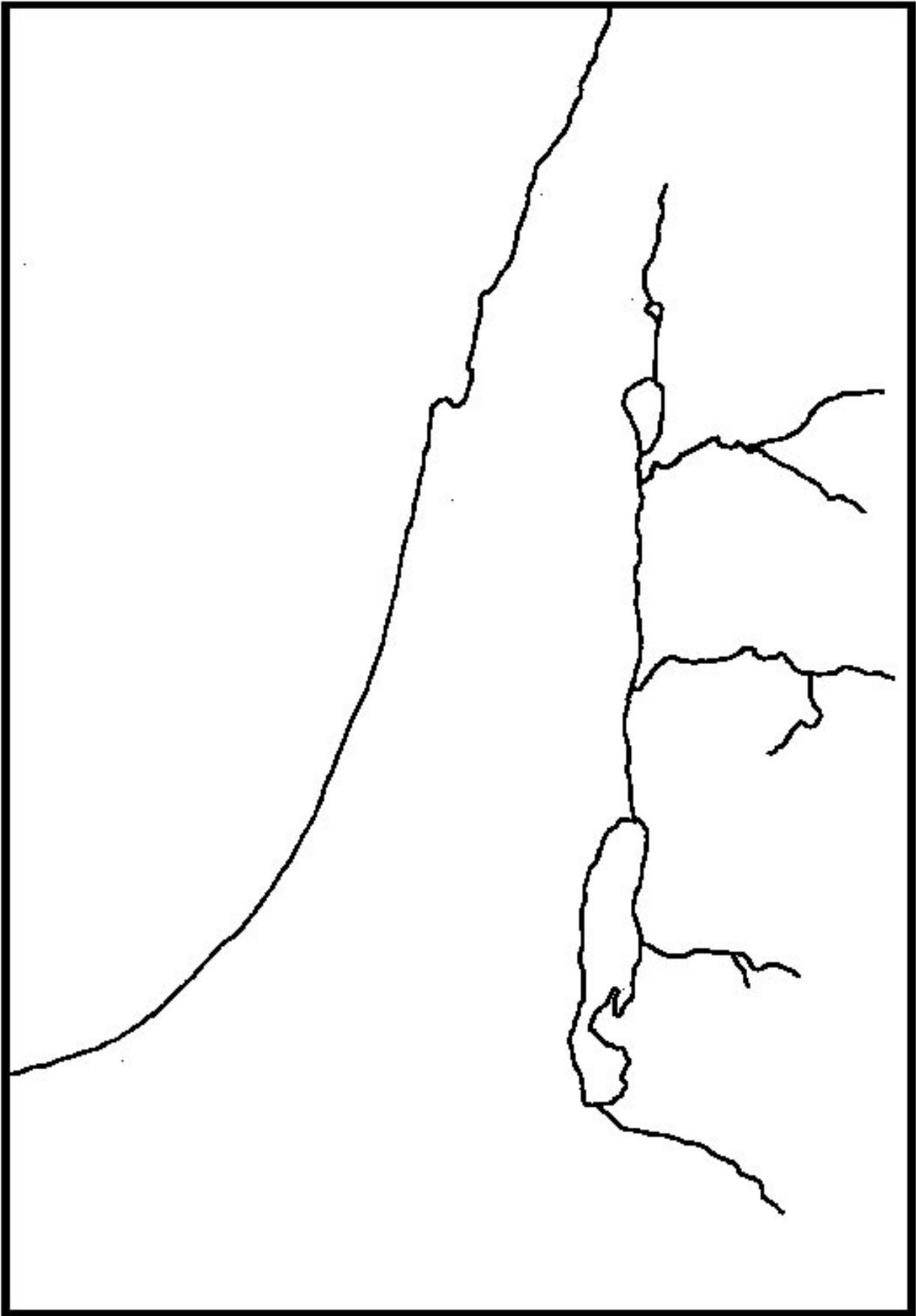
**Marque cada lugar nuevo a medida que llegue a este en el texto.**

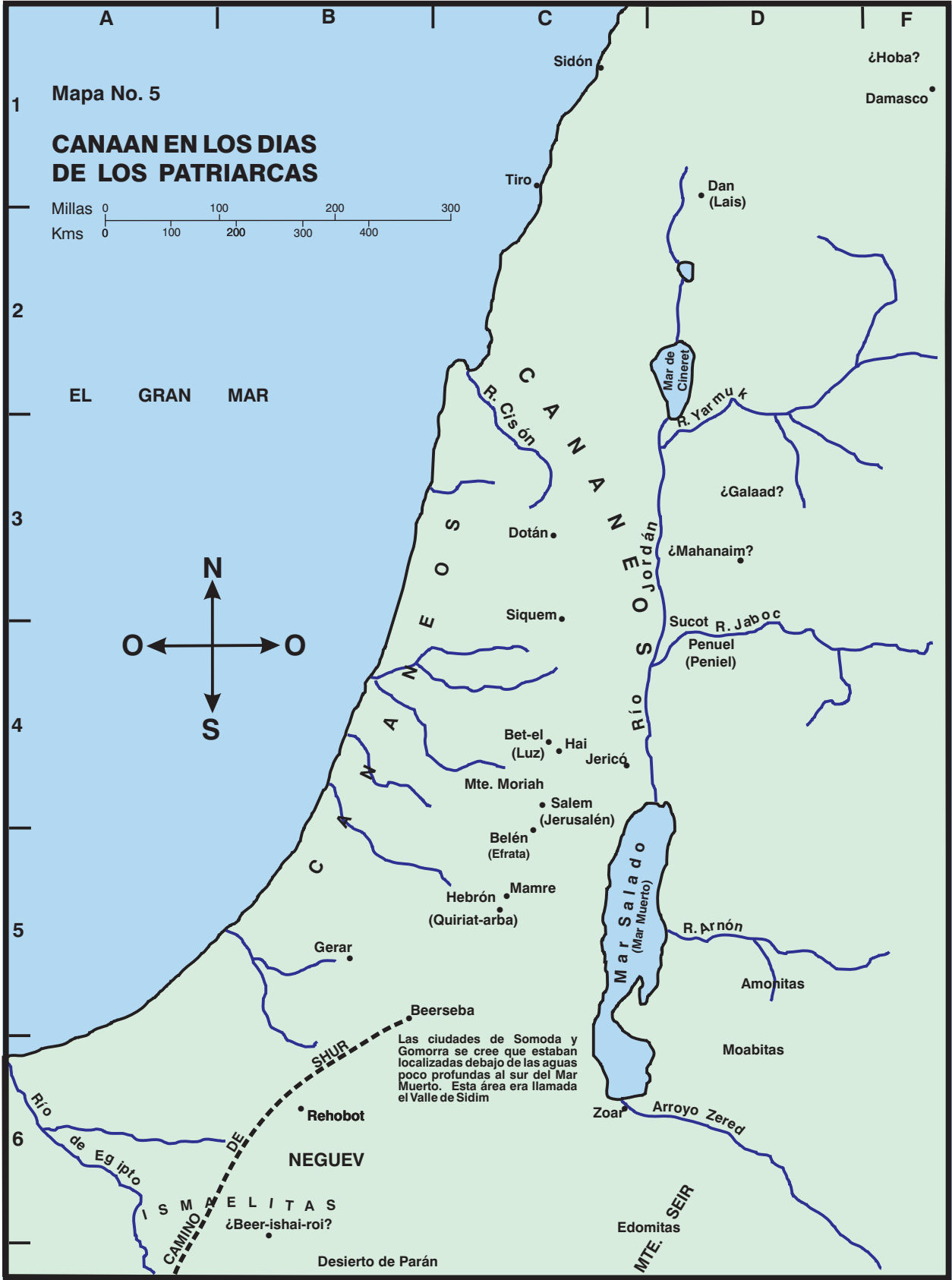
Lot, el sobrino de Abraham, había estado viajando con él desde que salieron de Harán. Para ahora ambos eran muy ricos, y sus siervos empezaron a contender por el agua y los derechos de los pastos. Estaban viviendo en \_\_\_\_\_ (13:3) cuando Abraham le dijo a Lot que mirara en todas las direcciones y escogiera la dirección a la que quería moverse. Abraham tomaría el otro camino. Lot escogió la bien irrigada \_\_\_\_\_ del \_\_\_\_\_ (13:10). Desafortunadamente, encontró más que hierba fértil. Las extremadamente impías ciudades de \_\_\_\_\_ y \_\_\_\_\_ (13:10-13) estaban localizadas en la llanura, y pronto hallamos a Lot viviendo dentro de Sodoma.

Abraham se trasladó lejos al sur en la tierra después que dejó a Lot. Moró en un lugar llamado el Encinar de \_\_\_\_\_ (13:18). Mamre era un hombre, aparentemente otro miembro de una tribu riquísima como Abraham. De Mamre, Aner, Escol y Abraham es dicho que eran aliados (14:13). Esta ubicación ilustra las condiciones a ser encontradas en la tierra en este tiempo. Aunque había algunas ciudades en existencia con murallas, una gran porción de la tierra no estaba densamente poblada. Aquí está Abraham, morando en tiendas, en un valle llamado así por uno de los hombres que vivía allí. Gradualmente, una aldea creció cerca a ellos. Mamre no aparecerá en la mayoría de nuestros mapas. Más bien, es mostrada por el nombre del pueblo que creció en el lugar – \_\_\_\_\_ (13:18). Moisés, el historiador, se asegura de que entendamos que Mamre y Hebrón son lo mismo.

**Coloque Encinar de Mamre en su mapa con Hebrón entre paréntesis.**

Egipto tenía control nominal sobre Canaán en este punto particular de la historia, pero, en realidad, jugaron un papel muy pequeño en el vivir diario de las personas de la tierra. Cada ciudad de algún tamaño tenía su





propio rey que controlaba los asuntos locales. Mientras pagara impuestos a Egipto, el Faraón usualmente estaba satisfecho. Hay evidencia arqueológica de que hubo algún desasosiego en la tierra. Ocasionalmente las ciudades fueron atacadas y quemadas. Posiblemente hubo ataques ocasionales desde Egipto si una ciudad fallaba en responder como el Faraón pensaba que debía hacerlo; o hubo invasiones de tribus desde el desierto buscando mas tierra; o rivalidades entre las mismas ciudades-estado. No obstante, la mayoría de la veces, Abraham vivió en paz y le fue permitido trasladarse en la tierra como él escogiera.

En una ocasión, cuatro reyes de Mesopotamia oprimieron las ciudades de la llanura cerca del Mar Muerto (14:1). Recuerde, había rutas comerciales principales que pasaban a través de la tierra de manera que hubo conflictos frecuentes a través de los años por su control. Las ciudades de la llanura se rebelaron, y en una batalla que ocurrió en el \_\_\_\_\_ de \_\_\_\_\_ (14:8) en el extremo sureño del Mar Muerto. Los reyes de Mesopotamia fueron los victoriosos, y tomaron cautivos al pueblo de \_\_\_\_\_ y \_\_\_\_\_ (14:11). Abraham y sus aliados persiguieron el ejercito hasta \_\_\_\_\_ y cayeron sobre ellos en \_\_\_\_\_ al norte de \_\_\_\_\_ (14:14-15).

**¿En qué mapa encontrarías Sinar y Elam? \_\_\_\_\_ Asegúrese de que sean marcados. ¿Cuáles ciudades de la llanura ya hemos localizado?**

Melquisedec, rey de \_\_\_\_\_ (14:17-18) y sacerdote del Dios Altísimo salió al encuentro de Abraham cuando volvía de la batalla. Melquisedec bendijo a Abraham, y Abraham le mostró respeto por medio de darle “los diezmos de todo”. La misma ciudad fue llamada más tarde “U-ru-salem”, literalmente “una ciudad de Salem” o “una ciudad de paz”. El nombre llega hasta nosotros como Jerusalén, destinada a convertirse en la ciudad de los judíos mejor conocida.

Dios hizo Sus promesas a Abraham en forma de pacto en Génesis 15. Dijo que daría a los descendientes de Abraham toda la tierra desde el \_\_\_\_\_ de \_\_\_\_\_ hasta el río \_\_\_\_\_ (15:18).

**¿El Mapa #5 muestra el Eufrates?**

En este punto Abraham no tenía hijos. A la sugerencia de Sara, tomó a su sierva Agar como su concubina. Agar era de \_\_\_\_\_ (16:1). Los celos surgieron entre las mujeres y Agar huyó. Viajó descendiendo el camino de \_\_\_\_\_ (16:7), ciertamente casi con la intención de regresar a Egipto. Dios se le apareció y le dijo que volviera. Ella llamó el lugar \_\_\_\_\_ (16:14), el “Pozo del Dios-que-me-ve”.

Dios le dijo a Abraham que bendeciría al hijo Ismael que le nacería, pero que él no era el hijo prometido a través de quien serían cumplidas las promesas. El rito de la circuncisión fue dado como señal del pacto entre Abraham y Dios. El y todos sus descendientes varones debían ser circuncidados como señal de que cada uno era heredero de las promesas con respecto a la nación y la tierra. La promesa fue alargada en esa ocasión para decirle a Abraham que sería el padre de “muchas naciones” y su nombre fue cambiado de Abram a Abraham.

Abraham aún estaba viviendo en el \_\_\_\_\_ de \_\_\_\_\_ (18:1) cuando tres ángeles lo visitaron. Aparecieron como viajeros, y Abraham los trató con hospitalidad. Después que comieron, los tres iniciaron su camino hacia \_\_\_\_\_ (18:16). Uno de los tres, “el Señor”, dijo a Abraham que habían venido para destruir a Sodoma y Gomorra. Abraham suplicó por las ciudades y el Señor prometió perdonarlas si podían ser hallados diez justos.

Los otros dos ángeles continuaron hacia Sodoma y pasaron la noche en la casa de Lot. El pecado de la ciudad era grande. Ni aún los yernos de Lot pudieron ser persuadidos para que escucharan las advertencias de destrucción. Lot, y sus dos hijas huyeron a la aldea cercana de \_\_\_\_\_ (19:22) la cual fue perdonada por causa de ellos. Luego, cuando el sol se levantó, Dios hizo llover fuego y azufre sobre Sodoma y Gomorra. Ningún rasgo ha sido encontrado jamás de las ciudades. Es pensado que pudieron haber estado en la inclinación sureña del Mar Muerto y ahora están cubiertas con agua. La tierra en el extremo sureño del Mar Muerto es tan árida ahora que nadie la escogería como un buen lugar para el ganado. Nótese que el escritor tiene dolor al decir que el área era fértil antes de que vinieran la calamidad de parte de Dios (13:10-13). Zoar ha sido localizada, y Sodoma estaba cerca de ésta (19:20-22).

Lot y sus dos hijas fueron al oriente del Mar Muerto. Allí las hijas cometieron incesto con su padre, y cada una tuvo un hijo de él. Un hijo se convirtió en el padre de los \_\_\_\_\_ y el otro en el padre de los \_\_\_\_\_ (19:37-38). Desde este momento en adelante, encontraremos las tribus de los moabitas y los amonitas viviendo en este altiplano oriental.

Abraham de nuevo se trasladó al sur, esta vez a la ciudad de \_\_\_\_\_ (20:1). Una vez mas Abraham ocultó el hecho de que Sara era su esposa, y Abimelec el rey, la tomó para sí. Dios intervino, y Abimelec los reprendió a ambos por su engaño. No obstante, le permitió a Abraham que se quedara en cualquier parte que escogiera en su territorio.

Isaac, el hijo prometido a Abraham, finalmente nació y Sara se regocijó. A medida que el niño crecía, Sara se volvió temerosa de que Ismael pudiera participar de la herencia que correctamente le pertenecía a Isaac. Demandó que Ismael y Agar fueran despedidos. Ismael tenía 14 años cuando Isaac nació, y esto fue algún

tiempo después, de manera que él ya no era un niño indefenso. Dios le dijo a Abraham que hiciera como Sara le había solicitado, de manera que Agar y su hijo se fueron.

La naturaleza humana nos ayuda a entender la reacción de Agar a medida que entra en el árido Neguev. El agua se ha acabado. Ellos han sido despedidos del hogar que han conocido por años. El futuro parece desierto. “Mi hijo morirá”. Dios la tranquilizó por medio de darle su agua milagrosamente. Ismael creció hasta convertirse en hombre en el desierto de \_\_\_\_\_ y su madre le encontró una esposa en \_\_\_\_\_ (21:20-21). Sus descendientes se convirtieron en una de las tribus nómadas del desierto quienes se ganaban la vida por vía de las rutas de las caravanas (véase 25:12-18).

Mientras tanto, Abraham se trasladó varios kilómetros al oriente de Gerar. Para ahora su compañía era muy grande, y su riqueza lo convirtió en un hombre poderoso. Nótese que había sido capaz de tomar 318 de sus propios hombres cuando rescató al pueblo de Sodoma (14:14). Abimelec de Gerar hizo un tratado de paz con él. Sellaron el pacto entre ellos, y Abraham llamó el lugar \_\_\_\_\_ (21:31), significando “el pozo del juramento”. Los pozos localizados aquí estaban en la margen sureña de la tierra cultivable. El muy seco Neguev yacía justo al sur. Por tanto, no es de sorprenderse que creciera una aldea alrededor de los pozos. Muchos años después, Beerseba marcó la frontera sureña de Israel.

El tiempo pasó y Dios le dio a Abraham la más grande prueba de su fe. Dios le dijo que llevara a su hijo Isaac a la región de \_\_\_\_\_ (22:2) y lo ofreciera como sacrificio. Abraham se levantó sin cuestionar y viajó al norte hasta el lugar especificado. El ángel del Señor detuvo a Abraham cuando levantó su cuchillo para matar a Isaac. “... *porque ya conozco que temes a Dios, por cuanto no me rehusaste tu hijo, tu único*” (22:12). La ubicación exacta del Monte Moriah es incierta. La tradición judía lo identifica como el monte donde el templo fue construido muchos años después.

Abraham retornó a \_\_\_\_\_ (22:19) después de ofrecer a Isaac. Pero pasó más tiempo, y lo encontramos viviendo en \_\_\_\_\_ (23:2) cuando ocurre la siguiente historia. Sara murió. Abraham compró un campo conteniendo una cueva llamada \_\_\_\_\_ de un hombre llamado Efrón quien era un hijo de \_\_\_\_\_ (23:17-19). Al avanzar la historia, aprendemos que Abraham, Isaac, Rebeca, Lea, y Jacob, todos fueron sepultados en la misma cueva con Sara.

#### **Mire el Mapa #4 para encontrar el hogar original de Efrón.**

Isaac era un hombre maduro para el tiempo en que su madre murió. Era el tiempo para que Abraham arreglara un matrimonio para él. No quiso que Isaac se casara con una de las hijas impías de los \_\_\_\_\_ (24:3). Por tanto, envió su siervo de regreso a la casa de su hermano Nacor en la región de Mesopotamia. La prima de Isaac, Rebeca, fue persuadida para que regresara con el siervo. Ellos encontraron a Isaac viviendo en \_\_\_\_\_ (24:62).

#### **¿Cuál mapa necesitamos para encontrar la ciudad de Harán donde vivía la familia de Nacor?**

En algún punto en la historia, Abraham tuvo otros seis hijos con una concubina llamada Cetura (25:1). Abraham también les dio dones antes de morir y los envió lejos a la tierra del oriente. Sus descendientes unieron fuerzas con los ismaelitas, y se convirtieron en mercaderes muy ricos en las rutas de las caravanas. Los nombres madianitas e ismaelitas son usados intercambiabilmente en diferentes ocasiones (véase 37:25,28,36; Jueces 6:3; 8:24).

## Isaac, Jacob, y José

Génesis 25:11–50:26

(Los pasajes están en Génesis a no ser que se especifique de otra manera)

Isaac estaba viviendo en \_\_\_\_\_ (25:11) cuando su padre murió. Surgió una hambruna y se trasladó al occidente a \_\_\_\_\_ (26:1). Dios le dijo que no se trasladara a \_\_\_\_\_ (26:2). Dios dijo que bendeciría a Isaac y cumpliría todas sus promesas a Abraham a través de él. Haría de los descendientes de Isaac una gran nación. Ellos recibirían la tierra de Canaán por herencia. Y todas las naciones de la tierra serían benditas a través de su simiente.

**Continúe usando el Mapa #5 para esta lección.**

Isaac era muy rico. Sembró en Gerar y segó abundantemente. Gradualmente los hombres de la ciudad se volvieron celosos de él. Antes que pelear, Isaac se trasladó calmadamente hasta que encontró un lugar donde pudiera morar en paz. Llamó el lugar \_\_\_\_\_ (26:22) que significa “un lugar amplio” o “espacioso”.

Abimelec temía que hubiera enemistad entre su pueblo y este miembro de una tribu riquísima, de manera que vino para hacer un tratado de paz con él. Sucede que los hombres de Isaac habían estado limpiando algunos de los pozos que su padre había excavado algunos años antes. Estos eran los mismos pozos donde Abraham había hecho un pacto similar con Abimelec, de esta manera el nombre de \_\_\_\_\_ (26:33) fue establecido.

Isaac tenía dos hijos mellizos llamados Esaú y Jacob. Esaú era cazador mientras que Jacob cuidaba los rebaños, el ganado, y otras posesiones en la casa. Esaú se casó con mujeres de la tierra que fueron una amargura para Isaac y Rebeca. El Nuevo Testamento describe a Esaú como un hombre “profano”, significando que no colocaba el énfasis correcto en los asuntos importantes (Heb. 12:16). En una ocasión, vendió su primogenitura a Jacob por una porción de lentejas. En ese día, el derecho de primogenitura le daba a él la mayor porción de la propiedad de su padre y lo convertía en la cabeza de la familia o tribu.

Jacob engañó a su hermano y a su padre ciego y recibió las bendiciones de prosperidad usualmente pasada del padre al hijo mayor. Esaú estaba tan enojado que amenazó con matar a Jacob. Rebeca ayudó a Jacob a escapar por medio de enviarlo a \_\_\_\_\_ (28:2) el hogar de su hermano Labán.

Jacob salió de \_\_\_\_\_ (28:10) con rumbo a Harán. La primera noche durmió cerca de una aldea llamada \_\_\_\_\_ (28:19). Dios se le apareció en un sueño y le repitió las promesas que le había hecho a Abraham y luego a Isaac. A la mañana siguiente Jacob llamó el nombre del lugar \_\_\_\_\_ (28:19), significando “casa de Dios” (“aunque Luz era el nombre de la ciudad primero”). Usted ya ha marcado Bet-el en su mapa porque ya hemos visitado el área a menudo en nuestra historia. Este es otro caso donde el historiador decidió usar el nombre mejor conocido del lugar para identificarlo aún antes de que realmente fuera dado el nombre.

**Escriba Luz entre paréntesis debajo del nombre Bet-el. ¿Cuál mapa necesitamos para encontrar Harán?**

Jacob trabajó 20 años para su tío Labán. Salió de Canaán con solamente su cayado en su mano. Regresó con cuatro esposas, once hijos, una hija, y una hueste de siervos, rebaños, manadas, y posesiones. No obstante, los años con Labán fueron años difíciles. El se fue sin decirle a Labán que se estaba yendo para prevenirlo. Labán estaba enojado y lo persiguió. Lo alcanzó en la meseta del río Jordán. Dios le había hablado la noche anterior y le prohibió que lastimara a Jacob. Después de un intercambio enojado de palabras, hicieron un pacto de paz entre ellos y levantaron un majano de piedras como testigo. Jacob llamó la región \_\_\_\_\_ (31:47) que significa “el majano del testimonio”. Desde este punto en la historia bíblica, la porción central de la región montañosa oriental es llamada Galaad.

Esaú había estado lo bastante enojado para matar a su hermano cuando lo había visto la última vez. Jacob se preguntaba acerca de la actitud de su hermano ahora. ¿Aún estaría enojado? Jacob estaba preocupado.

A medida que Jacob continuaba su viaje hacia el río Jordán después de dejar a Labán, los ángeles de Dios le salieron al encuentro. Jacob llamó el lugar “campamento de Dios” o \_\_\_\_\_ (32:2). La ubicación exacta de Mahanaim no ha sido descubierta. Es evidente que está al lado oriental del Jordán en algún lugar al norte del río Jaboc, pero nadie está seguro qué tan lejos del norte estaba.

Esaú se había trasladado al norte del mar Muerto a una región escarpada llamada la región montañosa de \_\_\_\_\_ (32:3) mientras su hermano estaba lejos. Su otro nombre era \_\_\_\_\_ y desde este momento en adelante encontraremos a los edomitas viviendo en esta región.

Esaú vino a encontrarse con Jacob con 400 de sus hombres. Jacob estaba muy temeroso a pesar de la



seguridad de que Dios estaría con él. La noche antes de encontrarse con él, un ángel luchó con Jacob. A la mañana siguiente llamó el lugar \_\_\_\_\_ (32:30) porque dijo que había visto la cara de Dios y había vivido. El nombre de Jacob fue cambiado a Israel, y sus descendientes fueron llamados israelitas.

Esau ya no continuaba enojado y los hermanos partieron en paz. Esau regresó a su hogar en Seir, y Jacob continuó su lento viaje hacia el Jordán. Se estableció por un tiempo cerca del vado del río y edificó cabañas para él mismo y su ganado. Llamó el lugar “cabañas” o \_\_\_\_\_ (33:17).

Más tarde, él y su compañía se movieron a través del Jordán, y compró una porción de tierra cerca de la aldea de \_\_\_\_\_ (33:18-19). Surgieron problemas. Dina, la hija de Jacob fue violada por un joven llamado Siquem. Para vengarse dos de los hijos de Jacob destruyeron a los hombres de la aldea. Jacob reprendió a sus hijos por su crueldad y trasladó su familia más al sur a \_\_\_\_\_ (35:1) donde había visto al Señor muchos años antes.

Jacob continuó su lento viaje hacia el sur. Esta vez la tragedia los golpeó mientras viajaban. Raquel, su esposa favorita, murió mientras daba a luz su segundo hijo, el doceavo hijo de Jacob. Ella lo llamó Benoni “hijo de mi tristeza” mientras moría. Su padre le cambió su nombre a Benjamín “hijo de la mano derecha” o, como diríamos, “mi mano derecha”. Raquel fue sepultada allí en el camino cerca de \_\_\_\_\_ (35:19) y Jacob levantó un pilar para marcar el lugar. Más tarde surgió allí un pueblo llamado Belén.

Finalmente Jacob se reunió con su padre Isaac en Hebrón. El pasaje nos da otro nombre de la aldea en este punto, \_\_\_\_\_ (35:27). Ya hemos notado el nombre Mamre. Por tanto, el valle fue llamado primero así por el hombre de una tribu riquísima que se estableció allí. Una aldea creció cerca de él y el nombre fue cambiado en honor de otro hombre viviendo allí. Quiriat-arba significa “ciudad de Arba”. La ciudad aún era llamada con este nombre cuando los israelitas entraron en la tierra de Canaán bajo el liderazgo de Josué. En ese tiempo, la ciudad estaba en control de una familia de gigantes llamados anaceos, el más grande de ellos había sido llamado Arba (véase Josué 14:15). Muchos eventos de la historia bíblica ocurrieron en o alrededor de la ciudad de Hebrón.

El hijo favorito de Jacob era el que le seguía al más joven de sus hijos. Hubo varias razones para el amor de su padre. En primer lugar, José era el hijo mayor de su amada esposa Raquel. Entonces, José era un joven mucho más justo que sus hermanos mayores. Sin embargo, desafortunadamente, Jacob mostró su parcialidad muy claramente, y surgieron celos entre los hermanos.

Jacob aún estaba viviendo en Hebrón cuando empieza la historia de José. En lugar de trasladarse a una tierra de nuevos pastos como su padre antes de él había hecho, Jacob envió a sus diez hijos mayores al norte para apacentar los rebaños. Después de un tiempo, Jacob envió a José para ver cómo la pasaban sus hermanos. José esperaba encontrarlos cerca de \_\_\_\_\_ (37:12), pero se habían ido a \_\_\_\_\_ (37:17). Los hermanos lo vieron cuando se acercaba y hablaron de matarlo. Rubén los persuadió de que en lugar de eso lo pusieran en una cisterna, intentando rescatarlo más tarde y enviarlo de regreso. Los hombres vieron una caravana acercándose a medida que comían su almuerzo. A la sugerencia de Judá, sacaron el muchacho de la cisterna y lo vendieron a la compañía de mercaderes ismaelitas-madianitas en su camino a \_\_\_\_\_ (37:28). Los hermanos regresaron a casa y mintieron a su padre acerca de sus acciones y los mercaderes vendieron a José como esclavo a un hombre llamado Potifar.

Trece años pasaron con José, primero esclavo y luego prisionero. Durante todos aquellos años él mantuvo su fe en Jehová, y conforme a su fidelidad Dios lo bendijo. Una noche el Faraón de Egipto tuvo sueños, y José fue traído para que los interpretara. Advirtió de la llegada de una hambruna tan severa que la vida estaría en peligro si no fuera almacenado alimento durante los años de abundancia que precederían a la hambruna. José fue hecho gobernador de Egipto, el segundo después de Faraón. Pasaron siete años. Fue almacenado abundante alimento. Empezaron los años del hambre, y los Egipcios vinieron a José por ayuda.

Jacob estaba lleno de alegría cuando escuchó las noticias y finalmente se convenció de que José, su hijo perdido, realmente estaba vivo. Él y su compañía iniciaron un viaje de 321 kilómetros (200 millas) desde Canaán hasta Egipto. Se detuvo en \_\_\_\_\_ (46:1) y ofreció sacrificios a Dios. Dios le habló y le aseguró que el trasladarse era la decisión correcta:

... no temas de descender a Egipto, porque allí yo haré de ti una gran nación. Yo descenderé contigo a Egipto, y yo también te haré volver ... (46:3-4).

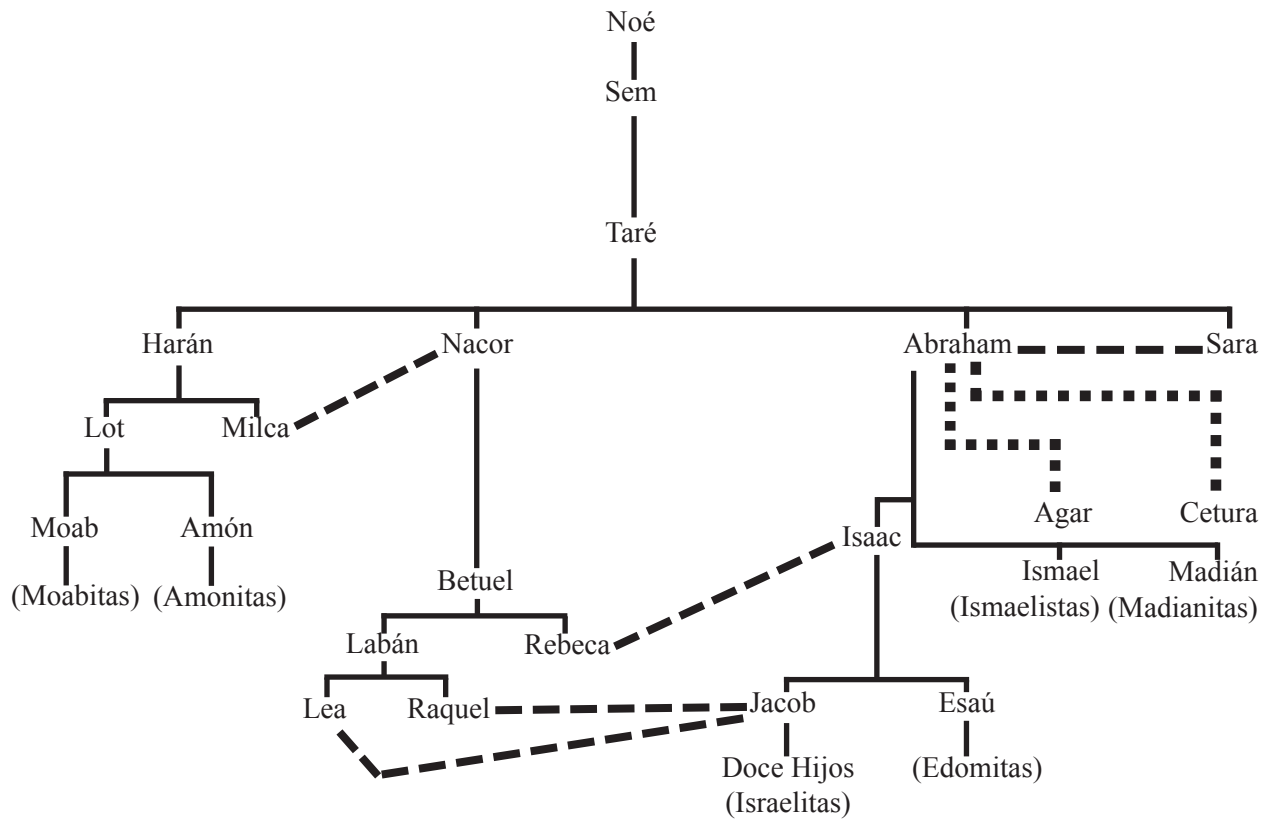
José habló a Faraón en beneficio de su familia y les fue dada una sección escogida del delta del Nilo llamada \_\_\_\_\_ (47:6). Aquí, Jacob vivió y prosperó durante setenta años antes de su muerte.

#### **¿Puede ser mostrado Gosén en el Mapa #5? Márquelo en el Mapa #4.**

José ya no era gobernador de Egipto cuando su padre murió, pero aún era un hombre honrado. Recibió permiso de llevar el cuerpo de su padre de regreso para sepultarlo en la \_\_\_\_\_ de \_\_\_\_\_ (50:13). Una gran compañía de oficiales egipcios acompañaron la familia en su triste viaje.

José vivió 66 años después que terminó la hambruna y que su período de gobierno terminó. Es de esperarse que los últimos años de José mismo fueron bastante pacíficos, pero los tiempos iban cambiando en la tierra de Egipto. Los israelitas ya no tenían más contacto directo con el gobernador de Egipto para el tiempo en que murió José. No pudieron pedir permiso para llevarlo al hogar en Canaán para sepultarlo con pompa. José murió con una promesa para sus hermanos de que Dios no los había olvidado. Dijo que llegaría el día cuando Dios los sacaría de la tierra de Egipto, y pidió que sus huesos fueran llevados con ellos cuando salieran. El cuerpo de José fue embalsamado y colocado en un ataúd esperando el día de la liberación de Egipto.

### Arbol Familiar de Abraham



## Lección 12

# Repaso del Libro del Génesis

Lecciones 9-11

(Los pasajes están en Génesis a no ser que se especifique de otra manera)

Coloque estos eventos en orden cronológico:  
(el más remoto es el #1)

- \_\_\_\_\_ José vendido por sus hermanos
- \_\_\_\_\_ Llamado de Abraham
- \_\_\_\_\_ La creación
- \_\_\_\_\_ Jacob engañó a Isaac
- \_\_\_\_\_ Sodoma y Gomorra fueron destruidas
- \_\_\_\_\_ El diluvio
- \_\_\_\_\_ El primer pecado
- \_\_\_\_\_ La Torre de Babel
- \_\_\_\_\_ Las promesas que fueron hechas a Abraham
- \_\_\_\_\_ Caín mata a su hermano
- \_\_\_\_\_ Nacimiento de Isaac

Conteste brevemente:

1. ¿Qué le dio Dios a Adán para suplir cada una de sus siguientes necesidades:

Un hogar (2:8-15) \_\_\_\_\_

Una compañía (2:18-25) \_\_\_\_\_

Alimento (1:30; 2:16) \_\_\_\_\_

Vestido (3:21) \_\_\_\_\_

¿Cuándo sintieron Adán y Eva la necesidad de vestidos? (3:1-7) \_\_\_\_\_

Una ley (2:16-17) \_\_\_\_\_

¿Cuáles fueron los resultados cuando Adán y Eva violaron su ley? (3:1-24) \_\_\_\_\_

2. ¿Por qué Dios envió un diluvio? ¿Quién sobrevivió? (Gén. 6-9) \_\_\_\_\_

¿Qué alimento fue añadido a su dieta después del diluvio? (9:2-3) \_\_\_\_\_

¿Qué promesa le hizo Dios a Noé? (9:11-17) \_\_\_\_\_

3. Diga brevemente dónde se establecieron cada uno de los hijos de Noé. (Gén. 10). \_\_\_\_\_

4. ¿Qué pasó en la Torre de Babel que hizo que las personas se dispersaran sobre la faz de la tierra? (11:1-9). \_\_\_\_\_

5. ¿Cuáles son las tres promesas que forman la tesis de toda la historia bíblica? (12:1-7) \_\_\_\_\_

6. ¿Por qué Abraham fue a Egipto? ¿Qué pecado cometió allí? (12:10-20). \_\_\_\_\_

7. ¿Por qué Jacob se fue para Harán? (27:41-45). \_\_\_\_\_

8. Nombre los doce hijos de Jacob (29:31—30:25; 35:16-20). \_\_\_\_\_

9. ¿Cómo consiguió Isaac su esposa? (24:1-67). \_\_\_\_\_

10. ¿Cómo consiguió Jacob sus esposas? (29:14—30:10). \_\_\_\_\_
11. Según José, ¿por qué estaba él en Egipto? (45:5,7-8). \_\_\_\_\_
12. ¿Por qué Jacob y su familia se fueron a Egipto? (45:6,9-11). \_\_\_\_\_

¿Quién fue el marido de cada una de las siguientes mujeres:

- Cetura (25:1) \_\_\_\_\_
- Raquel (29:28) \_\_\_\_\_
- Eva (2:18-25) \_\_\_\_\_
- Rebeca (24:67) \_\_\_\_\_
- Sara (11:29) \_\_\_\_\_
- Milca (11:29) \_\_\_\_\_
- Bilha (30:4) \_\_\_\_\_
- Agar (16:3) \_\_\_\_\_
- Lea (29:21-23) \_\_\_\_\_
- Zilpa (30:9) \_\_\_\_\_

¿Quién fue el padre de cada una de estas naciones?

- Cananeos (10:6,15-19) \_\_\_\_\_
- Edomitas (Gén. 36) \_\_\_\_\_
- Madianitas (25:1-6; 37:28) \_\_\_\_\_
- Israelitas (32:28,32) \_\_\_\_\_
- Moabitas (19:36-38) \_\_\_\_\_
- Amonitas (19:36-38) \_\_\_\_\_
- Ismaelitas (37:25; 25:12-18) \_\_\_\_\_

¿Quién era el padre y madre de cada uno de estos hijos:

Hijo	Madre	Padre
Abel (4:2)		
Sem (6:10)	No revelado	
Jacob (25:21-26)		
Ismael (16:15)		
José (30:22-24)		
Isaac (21:2-3)		
Esaú (25:21-25)		
Madián (25:1-2)		
Rubén (29:32)		
Neftalí (30:7-8)		